



SPACE FOR ROUGH WORK



1. “பாலாடை” இச்சொல்லுக்குரிய புணர்ச்சி .....  
 (A) விகாரப் புணர்ச்சி (B) இயல்பு புணர்ச்சி  
 (C) தோன்றல் புணர்ச்சி (D) திரிதல் புணர்ச்சி  
 (E) விடை தெரியவில்லை
2. “போல் + உடன்றன” என்ற சொல்லை சேர்த்தால் கிடைப்பது எது?  
 (A) போலுடன்றன (B) போலுடுன்றன  
 (C) போலுடின்றன (D) போலுடான்றன  
 (E) விடை தெரியவில்லை
3. அசை எத்தனை வகைப்படும்?  
 (A) ஒன்று (B) இரண்டு  
 (C) மூன்று (D) நான்கு  
 (E) விடை தெரியவில்லை
4. பொருத்துக:  
 (A) வெண்பா - துள்ளல் ஓசை  
 (B) ஆசிரியப்பா - செப்பலோசை  
 (C) கலிப்பா - தூங்கலோசை  
 (D) வஞ்சிப்பா - அகவலோசை  
 (A) 4, 3, 2, 1 (B) 3, 1, 4, 2  
 (C) 1, 2, 3, 4 (D) 3, 2, 4, 1  
 (E) விடை தெரியவில்லை
5. ‘பெரியார்’ என்றவுடன் நம்முடைய நினைவுக்கு வருவது அவரின் \_\_\_\_\_ கொள்கை.  
 (A) சுயமரியாதை (B) பெண் விடுதலை  
 (C) சாதி மறுப்பு (D) பகுத்தறிவு  
 (E) விடை தெரியவில்லை
6. “சாதி உணர்வு ஆதிக்க உணர்வை வளர்க்கிறது. மற்றவர்களின் உரிமைகளைப் பறிக்கிறது. மனிதர்களை இழிவுபடுத்துகிறது. அந்தச் சாதி என்ற கட்டமைப்பை உடைத்தெறிய வேண்டும்” என்று கூறியவர் யார்?  
 (A) அண்ணல் அம்பேத்கர் (B) தந்தை பெரியார்  
 (C) பசும்பொன் முத்துராமலிங்கனார் (D) பாரதியார்  
 (E) விடை தெரியவில்லை
7. இரண்டாம் எழுத்து ஒன்றி வரத் தொடுப்பது எது?  
 (A) எதுகை (B) மோனை

- (C) முரண் (D) இயைபு  
(E) விடை தெரியவில்லை

8. வினைமுற்றைப் பொருத்துக

- (a) தெரிநிலை வினைமுற்று 1. வாழ்க, வாழியர்  
(b) குறிப்பு வினைமுற்று 2. பாடம் படி, கடைக்குப் போ  
(c) ஏவல் வினைமுற்று 3. அவன் கரியன்  
(d) வியங்கோள் வினைமுற்று 4. படித்தான், எழுதினான்

- |     | (a) | (b) | (c) | (d) |
|-----|-----|-----|-----|-----|
| (A) | 3   | 2   | 1   | 4   |
| (B) | 1   | 3   | 4   | 2   |
| (C) | 4   | 3   | 2   | 1   |
| (D) | 2   | 1   | 3   | 4   |
- (E) விடை தெரியவில்லை

9. மூன்று காலத்திலும் வருவது எது?

- (A) பெயரெச்சம் (B) வினையெச்சம்  
(C) முற்றெச்சம் (D) தெரிநிலை பெயரெச்சம்  
(E) விடை தெரியவில்லை

10. உருபுகள் இல்லாத வேற்றுமை \_\_\_\_\_

- (A) ஒன்று, ஆறு (B) ஒன்று, ஐந்து  
(C) ஒன்று, எட்டு (D) ஒன்று, ஏழு  
(E) விடை தெரியவில்லை

11. பின்வருவனவற்றுள் பொருந்தாதது எது?

- (A) நட (B) உண்  
(C) வாழ் (D) தருதல்  
(E) விடை தெரியவில்லை

12. பின்வருவனவற்றுள் முதனிலை திரிந்த தொழிற்பெயர் எது?

- (A) விடு (B) பெறு  
(C) கொள் (D) சூடு  
(E) விடை தெரியவில்லை

13. ஒரு பாடலில் உவமையும், உவமேயமும் வந்து உவம உருபு வெளிப்படையாக வந்தால் அது \_\_\_\_\_ அணி எனப்படும்.

- (A) உருவக அணி  
(B) உவமை அணி  
(C) எடுத்துக்காட்டு உவமை அணி

- (D) இல்பொருள் உவமை அணி  
(E) விடை தெரியவில்லை
14. ஒரு தொடரில் வேற்றுமை உருபுகள் மறைந்து வந்து பொருள் உணர்த்துவது .....  
(A) வினைத்தொகை (B) வேற்றுமைத்தொகை  
(C) பண்புத்தொகை (D) உம்மைத்தொகை  
(E) விடை தெரியவில்லை
15. காலம் காட்டும் இடைநிலையும் பெயரெச்ச விசுவயும் மறைந்து நிற்க, வினைப் பகுதியைத் தொடர்ந்து ஒரு பெயர் வந்து சொல்லைப் போல் நடப்பது ..... எனப்படும்.  
(A) பண்புத்தொகை (B) வேற்றுமைத்தொகை  
(C) உவமைத்தொகை (D) வினைத்தொகை  
(E) விடை தெரியவில்லை
16. “வள்ளுவரும் தம் குறள்பாவடியால் வையத்தார் உள்ளுவதெல்லாம் அளந்தார் ஓர்ந்து” என்னும் பாடல் வரிகள் யாருடையது?  
(A) கவிமணி (B) மாங்குடி மருதனார்  
(C) பரணர் (D) தேனிகுடி கீரனார்  
(E) விடை தெரியவில்லை
17. வரிசைப்படுத்துக?  
(1) ஆரணியக் காண்டம் (2) அயோத்தியாக் காண்டம்  
(3) சுந்தர காண்டம் (4) கிட்கிந்தா காண்டம்  
(A) 2, 1, 4, 3 (B) 1, 2, 3, 4  
(C) 3, 1, 4, 2 (D) 2, 3, 4, 1  
(E) விடை தெரியவில்லை
18. கம்பராமாயணம் கூற்றுகளுள் எது தவறு?  
(i) இராமகாதைக்கு “ஆதிகாவியம்” என்று பெயருண்டு  
(ii) வடமொழியில் இயற்றிய வால்மீகிக்கு “ஆதிகவி” என்று பெயருண்டு  
(iii) காண்டம் (பெரும்பிரிவு), படலம் (உட்பிரிவு)  
(iv) ஏழு காண்டங்களையுடையது (பாலகாண்டம், அயோத்தியா காண்டம், ஆரணிய காண்டம், கிட்கிந்தா காண்டம், சுந்தரகாண்டம், யுத்தகாண்டம், உத்தரகாண்டம்)  
(A) i (B) ii  
(C) iii (D) iv  
(E) விடை தெரியவில்லை
19. வாழ்த்துதல், வைதல், விதித்தல், வேண்டல் ஆகிய பொருள்களில் வரும் வினைமுற்று  
(A) தெரிநிலை வினைமுற்று (B) குறிப்பு வினைமுற்று  
(C) வியங்கோள் வினைமுற்று (D) ஏவல் வினைமுற்று  
(E) விடை தெரியவில்லை

20. விசுதி பெற்றும் பெறாமலும் வரும் வினைமுற்று எது?  
 (A) ஏவல் வினைமுற்று (B) குறிப்பு வினைமுற்று  
 (C) தெரிநிலை வினைமுற்று (D) வியங்கோள் வினைமுற்று  
 (E) விடை தெரியவில்லை
21. முக்கூடல் ஆறுகளுள் பொருத்தமற்றது எது?  
 (A) தண்பொருறை (B) சிற்றாறு  
 (C) கோதண்டராம ஆறு (D) பேரியாறு  
 (E) விடை தெரியவில்லை
22. எவை சரி, தவறு?  
 (i) தொல்காப்பியம் 1610 நூற்பாக்கள் (ii) சிலப்பதிகாரம் 5001 வரிகள்  
 (iii) மணிமேகலை 4755 வரிகள்  
 (iv) சீவகசிந்தாமணி 3145 பாடல்கள்  
 (A) அனைத்தும் சரி (B) அனைத்தும் தவறு  
 (C) i, iii சரி (D) i, ii தவறு  
 (E) விடை தெரியவில்லை
23. ஈயாமை இழிவு, இரப்போர்க்கு ஈயாது வாழ்தலை விட உயிரை விட்டுவிடுதல் மேலானது என்று கூறும் நூல் எது?  
 (A) பரிபாடல் (B) கலித்தொகை  
 (C) குறுந்தொகை (D) புறநானூறு  
 (E) விடை தெரியவில்லை
24. தான் பெற்றதைப் பிறருக்கு வழங்கும் பெருஞ்சித்திரனாரின் பேருள்ளம் எந்நூலில் கூறப்பட்டுள்ளது?  
 (A) பரிபாடல் (B) கலித்தொகை  
 (C) புறநானூறு (D) சிறுபாணாற்றுப்படை  
 (E) விடை தெரியவில்லை
25. உதவி செய்தலை 'உதவியாண்மை' என்று குறிப்பிட்டவர் யார்?  
 (A) திருவள்ளுவர் (B) நல்வேட்டனார்  
 (C) நக்கீரனார் (D) ஈழத்துப் பூதன் தேவனார்  
 (E) விடை தெரியவில்லை
26. பிறர் நோயும் தம் நோய்போல் போற்றி அறன் அறிதல் சான்றவர்க்கு எல்லாம் கடன் பாடலடி இடம் பெற்றுள்ள நூல் எது?  
 (A) கலித்தொகை (B) திருக்குறள்  
 (C) புறநானூறு (D) நற்றிணை  
 (E) விடை தெரியவில்லை

27. பிறர் நோயும் தம் நோய்போல் போற்றி அறந் அறிதல் சான்றவர்க்கு எல்லாம் கடன் என்று பாடியவர் யார்?  
 (A) திருவள்ளுவர் (B) நல்வேட்டனார்  
 (C) நல்லந்துவனார் (D) நக்கீரனார்  
 (E) விடை தெரியவில்லை
28. “தினையளவு போதாச் சிறுபுல்நீர் நீண்ட  
 பனையளவு காட்டும்” என்ற பாடல் வரி இடம் பெற்றுள்ள நூல் எது?  
 (A) திருக்குறள் (B) தொல்காப்பியம்  
 (C) திருவள்ளுவமாலை (D) பதிற்றுப்பத்து  
 (E) விடை தெரியவில்லை
29. சிலப்பதிகாரம் என்னும் காப்பியத்தை இயற்றியவர் யார்?  
 (A) திருத்தக்கதேவர் (B) இளங்கோவடிகள்  
 (C) சீத்தலை சாத்தனார் (D) சேக்கிழார்  
 (E) விடை தெரியவில்லை
30. தமிழின் முதல் காப்பியம் எது?  
 (A) கம்பராமாயணம் (B) பெரியபுராணம்  
 (C) சிலப்பதிகாரம் (D) மணிமேகலை  
 (E) விடை தெரியவில்லை
31. தமிழின் இரட்டைக் காப்பியங்கள் என அழைக்கப்படும் நூல்கள் எவை?  
 (A) கம்பராமாயணமும் திருக்குறளும்  
 (B) மணிமேகலையும் சீவக சிந்தாமணியும்  
 (C) சிலப்பதிகாரமும் சீவக சிந்தாமணியும்  
 (D) சிலப்பதிகாரமும் மணிமேகலையும்  
 (E) விடை தெரியவில்லை
32. சிலப்பதிகாரத்தில் இளங்கோவடிகள் எம்மரபைச் சார்ந்தவர்?  
 (A) சேரர் (B) சோழர்  
 (C) பாண்டியன் (D) பல்லவர்  
 (E) விடை தெரியவில்லை
33. “பந்தர்ப் பெயரிய பேரிசை மூதூர்” என்ற பாடல் அடிகளுடன் தொடர்புடைய நூல் எது?  
 (A) புறநானூறு (B) மணிமேகலை  
 (C) அகநானூறு (D) பதிற்றுப்பத்து  
 (E) விடை தெரியவில்லை

34. 'சோழப் பேரரசின் இலச்சினையான புலிச் சின்னத்தை அடையாளமிட்டு வெளியே அனுப்புவதற்காகக் குவித்து வைக்கப்பட்டிருக்கும் பண்டங்கள் மலைபோல் தோற்றம் தரும்' என்ற செய்தி இடம் பெற்றுள்ள நூல் எது?  
 (A) பட்டினப்பாலை (B) புறநானூறு  
 (C) சிலப்பதிகாரம் (D) அகநானூறு  
 (E) விடை தெரியவில்லை
35. 'ஹைக்கூ' கவிதையின் வடிவத்தினை தமிழுக்கு அறிமுகம் செய்தவர் யார்?  
 (A) வைகறை (B) மித்ரா  
 (C) அறிவுமதி (D) பாரதியார்  
 (E) விடை தெரியவில்லை
36. என் கவிதை  
 கைகுலுக்கும்  
 காலில் விழாது  
 உடுத்திக்கொள்ளும்  
 போர்த்திக்கொள்ளாது.... என்ற கவிதை வரிகளை எழுதியவர் மு.மேத்தா. இக்கவிதை..... வகையைச் சார்ந்தது.  
 (A) சிலேடை (B) முரண்  
 (C) குறியீடு (D) படிமம்  
 (E) விடை தெரியவில்லை
37. தமிழ் நவீன இலக்கியத்தைத் தொடக்கத்திலேயே செழுமைப் படுத்தியவர் யார்?  
 (A) புதுமைப்பித்தன் (B) புலமைப்பித்தன்  
 (C) ந.பிச்சமூர்த்தி (D) கு.ப.ராசகோபலன்  
 (E) விடை தெரியவில்லை
38. சிறந்த வடிவ ஓர்மையுடன் எழுதியவர் யார்?  
 (A) சுந்தர ராமசாமி (B) நகுலன்  
 (C) புதுமைப்பித்தன் (D) கு.ப.ரா  
 (E) விடை தெரியவில்லை
39. 'நானே தொடக்கம்; நானே முடிவு;  
 நானுரைப் பதுதான் நாட்டின் சட்டம்' என்ற பாடல் அடிகளை இயற்றியவர் யார்?  
 (A) பாரதிதாசன் (B) கண்ணதாசன்  
 (C) பாரதியார் (D) சுரதா  
 (E) விடை தெரியவில்லை
40. கண்ணதாசன் பிறந்த மாவட்டம் எது?  
 (A) நாகப்பட்டினம் (B) சிவகங்கை  
 (C) கன்னியாகுமரி (D) திருச்சி



- (E) விடை தெரியவில்லை
41. 'நதியின் பிழையன்று  
நறும்புனலின்மை அன்றே  
பதியின் பிழையன்று  
பயந்த நம்மைப் புரந்தான்' பாடலடிகளை இயற்றியவர்?  
(A) கண்ணதாசன் (B) கம்பன்  
(C) பாரதியார் (D) பாரதிதாசன்  
(E) விடை தெரியவில்லை
42. "கத்துங் குயிலோசை சற்றே வந்து  
காதில் படவேணும்' என்ற பாடல் வரிகளுடன் தொடர்புடையவர் யார்?  
(A) பாரதிதாசன் (B) பாரதியார்  
(C) சுரதா (D) வாணிதாசன்  
(E) விடை தெரியவில்லை
43. "தென்திசைக் குமரி ஆடி வடதிசைக்கு ஏகுவீர் ஆயின்" என்ற பாடல் அடிகளை எழுதியவர் யார்?  
(A) ஓளவையார் (B) சத்திமுத்தப்புலவர்  
(C) கபிலர் (D) திருவள்ளுவர்  
(E) விடை தெரியவில்லை
44. டாக்டர் சலீம் அலி தன் வாழ்க்கை வரலாற்று நூலுக்கு இட்ட பெயர் என்ன?  
(A) பறவைகளின் வீழ்ச்சி (B) சிட்டுக்குருவியின் வீழ்ச்சி  
(C) பறவைகளின் வளர்ச்சி (D) சிட்டுக்குருவியின் எழுச்சி  
(E) விடை தெரியவில்லை
45. வெண்தாடி வேந்தர், பகுத்தறிவுப் பகலவன் என்று சிறப்பிக்கப்படுபவர் யார்?  
(A) தந்தை பெரியார் (B) அண்ணல் அம்பேத்கர்  
(C) பாரதியார் (D) காந்தியடிகள்  
(E) விடை தெரியவில்லை
46. உலகில் இல்லாத ஒன்றை உவமையாகக் கூறுவதை \_\_\_\_\_ அணி என்பர்.  
(A) உவமை அணி  
(B) இல்பொருள் உவமை அணி  
(C) எடுத்துக்காட்டு உவமை அணி  
(D) உருவக அணி  
(E) விடை தெரியவில்லை
47. 'கைதொழுது' இலக்கணக்குறிப்பு தருக.  
(A) இரண்டாம் வேற்றுமைத் தொகை  
(B) மூன்றாம் வேற்றுமைத் தொகை

- (C) நான்காம் வேற்றுமைத் தொகை  
 (D) ஆறாம் வேற்றுமைத் தொகை  
 (E) விடை தெரியவில்லை
48. விடைக்கேற்ற வினாவைத் தேர்வக:  
 'பெற்றதை வழங்கி வாழும் பெருங்குணம் பெறுதல் இன்பம்'  
 (A) பெற்றதை வழங்கி வாழும் பெருங்குணத்தால் பெறுவது எது?  
 (B) பெற்றதை வழங்கி ஏன் வாழ வேண்டும்?  
 (C) பெருங்குணம் எப்போது வரும்?  
 (D) பெறுவது எது?  
 (E) விடை தெரியவில்லை
49. "நகல்வல்லர் அல்லார்க்கு மாயிரு ஞாலம்  
 பகலும்பாற் பட்டன் நிருள்" - இக்குறள் இடம்பெற்றுள்ள இயல் எது?  
 (A) இல்லறவியல் (B) துறவறவியல்  
 (C) ஊழியல் (D) பாயிரவியல்  
 (E) விடை தெரியவில்லை
50. துரைமாணிக்கம் என்ற இயற்பெயரைக் கொண்டவர்  
 (A) மீரா (B) முடியரசன்  
 (C) கண்ணதாசன் (D) பெருஞ்சித்திரனார்  
 (E) விடை தெரியவில்லை
51. கரியன் என்ற பெயர்ச் சொல்லின் வகையினை அறிக  
 (A) சினைப்பெயர் (B) பொருட்பெயர்  
 (C) பண்புப்பெயர் (D) தொழிற்பெயர்  
 (E) விடை தெரியவில்லை
52. பஞ்சாபி மொழியை எழுத எந்த வகை எழுத்துக்கள் பயன்படுகின்றன?  
 (A) தேவநாகரி (B) சரதா  
 (C) குர்முகி (D) வட்டெழுத்து  
 (E) விடை தெரியவில்லை
53. பெருங்கற் புதை குழிகள் அமைந்துள்ள பகுதிகளை அதன் முக்கிய நகரங்களுடன் பொருத்துக:  
 (A) கொடுமணம் 1. செங்கல்பட்டு  
 (b) ஆதிச்சநல்லூர் 2. தென்னார்க்காடு  
 (c) சங்கமேடு 3. திருநெல்வேலி  
 (d) அமிர்த மங்கலம் 4. ஈரோடு  
 (A) (b) (c) (D)  
 (A) 3 2 1 4  
 (B) 4 3 2 1

- (C) 2 4 3 1  
 (D) 1 3 4 2  
 (E) விடை தெரியவில்லை

54. “காக்கைக்குருவி எங்கள் சாதி” என்று பாடியவர் யார்?  
 (A) பாரதிதாசன் (B) முடியரசன்  
 (C) வாணிதாசன் (D) பாரதியார்  
 (E) விடை தெரியவில்லை
55. கூற்று (A) : ‘ஆ’ என்பது ஓர் ஒலியன்.  
 காரணம் (R) : ‘ஆ’ என்பது பொருள் தரும் மிகச்சிறிய ஒலியக் கூறு.  
 (A) (A) சரி, (R) தவறு  
 (B) (A) மற்றும் (R) சரி மேலும் (R) என்பது (A) விற்கு சரியான விளக்கம்  
 (C) (R) சரி ஆனால் (A) தவறு  
 (D) (A) மற்றும் (R) தவறு  
 (E) விடை தெரியவில்லை
56. கீழ்க்காண்பனவற்றுள் ஒன்று நடுந்திராவிட மொழியில்லை  
 (A) தெலுங்கு (B) கோண்டி  
 (C) மலையாளம் (D) மண்டா  
 (E) விடை தெரியவில்லை
57. சரியான கூற்றினைத் தேர்ந்தெடுக்கவும்.  
 (i) தமிழ்க்குகைக் கல்வெட்டுகளில் காணப்படும் பிராமி வரிவடிவத்திற்குரிய சரியான தமிழ் ஒலி வடிவத்தைக் கண்டறிந்தது முதல் கட்ட வளர்ச்சியாகும்.  
 (ii) ழ, ள, ற, ன ஆகிய எழுத்துக்களைக் கண்டறிந்தது இரண்டாவது கட்ட வளர்ச்சியாகும்.  
 (iii) அசோகர் பிராமிக்கு மாற்றாக தமிழ் மொழியை எழுதியது மூன்றாவது கட்ட வளர்ச்சியாகும்.  
 (A) (i) சரி, (ii), (iii) தவறானது  
 (B) (i), (ii) சரி (iii) தவறானது  
 (C) (i), (ii), (iii) சரியானது  
 (D) (ii), (iii) சரி, (i) தவறானது  
 (E) விடை தெரியவில்லை
58. கொடுக்கப்பட்டுள்ள செய்யுள் அடியில் அடிக்கோடிட்டச் சொற்களுக்குப் பொருத்தமான இலக்கணக் குறிப்பைக் கண்டறிதல்  
 “சரும்பிவர் சந்தத் தொடுகடல் முத்தும் வெண்சங்கு மெங்கும்”  
 (A) பண்புத்தொகை, எண்ணும்மை  
 (B) வினைத்தொகை, எண்ணும்மை  
 (C) வினைத்தொகை, முற்றுமை  
 (D) பண்புப்பெயர், எண்ணும்மை  
 (E) விடை தெரியவில்லை

59. மானமும் அறிவும் கொண்டவர்களாகத் தமிழர்கள் வாழவேண்டும் என்று அரும்பாடுபட்டவர் யார்?  
 (A) பாரதிதாசன் (B) பாரதியார்  
 (C) தந்தை பெரியார் (D) காமராசர்  
 (E) விடை தெரியவில்லை
60. அகர வரிசைப்படி சொற்களை சீர் செய்க.  
 (A) எழினி, எயில், எய்தல், எண்கு  
 (B) எயில், எழினி, எண்கு, எய்தல்  
 (C) எண்கு, எய்தல், எயில், எழினி  
 (D) எய்தல், எண்கு, எழினி, எயில்  
 (E) விடை தெரியவில்லை
61. Drag - என்ற ஆங்கிலச் சொல்லுக்கு கீழ்க்காணும் விடைகளில் எது தவறானது?  
 (A) இழு (B) வலை  
 (C) சுமை (D) தடை  
 (E) விடை தெரியவில்லை
62. பொருத்துக :  
 (a) டாக்டர் மு.வ. 1. முள்ளும் மலரும்  
 (b) உமா சந்திரன் 2. வேர்கள்  
 (c) சூர்யகாந்தன் 3. அகல் விளக்கு  
 (d) கிருஷ்ணமணி 4. மானாவரி மனிதர்கள்  
 (A) (a) (b) (c) (d)  
 (A) 1 3 4 2  
 (B) 3 1 4 2  
 (C) 4 2 1 3  
 (D) 2 4 3 1  
 (E) விடை தெரியவில்லை
63. “பகுத்தறிவு கவிராயர்” என அழைக்கப்படுபவர் யார்?  
 (A) இராமச்சந்திர கவிராயர்  
 (B) கவிக்காளமேகம்  
 (C) உடுமலை நாராயணக்கவி  
 (D) திரிகூடராசப்பர் கவிராயர்  
 (E) விடை தெரியவில்லை
64. பொருத்துக:  
 (a) கவுந்தியடிகள் 1) ஆயர்குல மூதாட்டி  
 (b) மாதரி 2) மாநாய்கனின் மகள்



70. பிரித்தெழுதுக,  
வெவ்விருப்பாணி  
(A) வெம் + இருப்பு + ஆணி (B) வெம் + இருப்பு + ஆணி  
(C) வெம்மை + இருப்பு + ஆணி (D) வெம்மை + இருப்பு + ஆணி  
(E) விடை தெரியவில்லை
71. “பண்ணொடு தமிழொப்பாய்” என்ற பாடல் இடம்பெற்ற நூல் எது ?  
(A) திருவாசகம் (B) திருக்குறள்  
(C) தேவாரம் (D) திருத்தொண்டர் புராணம்  
(E) விடை தெரியவில்லை
72. ‘நெஞ்சை அள்ளும் சிலப்பதிகாரம்’ என்று பாடியவர்  
(A) இளங்கோவடிகள் (B) பாரதிதாசன்  
(C) பாரதியார் (D) கவிமணி  
(E) விடை தெரியவில்லை
73. இலக்கணக் குறிப்புத் தருக: கங்கையும் சிந்துவும்  
(A) உம்மைத்தொகை (B) பெண்பால் பெயர்கள்  
(C) எண்ணும்மை (D) அன்மொழித்தொகை  
(E) விடை தெரியவில்லை
74. பண்ணொடு கலந்தும் தாளத்தோடு கூடியும் பாடும் கலை எது?  
(A) நாடகக்கலை (B) நாட்டியக்கலை  
(C) இசைக்கலை (D) ஓவியக்கலை  
(E) விடை தெரியவில்லை
75. பரிதிமாற்கலைஞர் நடத்தி வந்த ஞானபோதினி என்னும் இதழைத் தொடங்கி வைத்தவர் யார்?  
(A) மு.சி. பூர்ணலிங்கம் (B) தெ.பொ. மீனாட்சி சுந்தரம்  
(C) கே.வி. சுப்பையா (D) எல்.வி. இராமசுவாமி  
(E) விடை தெரியவில்லை
76. “ஏங்கொலிநீர் ஞாலத் திருளகற்றும் - ஆங்கவற்றுள் மின்னோர் தனியாழி வெங்கதிரோன்றேனையது”  
என்ற பாடல் இடம் பெறும் நூல்  
(A) மாறனலங்காரம் (B) காரிகை  
(C) தண்டியலங்காரம் (D) நன்னூல்  
(E) விடை தெரியவில்லை
77. திருக்குறளை முதன் முதலில் பதிப்பித்து வெளியிட்டவர் யார் ?  
(A) உ.வே.சா (B) பாவாணர்  
(C) ஞானப்பிரகாசன் (D) ஞானக்கூத்தன்

- (E) விடை தெரியவில்லை
78. தமிழ் - பிரெஞ்சு கையகர முதலி எனும் நூலை வெளியிட்ட கவிஞர்  
 (A) கண்ணதாசன் (B) வாணிதாசன்  
 (C) வண்ணதாசன் (D) பாரதியார்  
 (E) விடை தெரியவில்லை
79. கொடுக்கப்பட்ட தொடரில் பெயரெச்சத் தொடரைத் தேர்வு செய்க  
 (A) வந்து தந்தான் (B) தைத்த சட்டை  
 (C) தங்கை கேட்டாள் (D) சென்று பார்த்தான்  
 (E) விடை தெரியவில்லை
80. கம்பன் சொன்ன வண்ணங்கள் எத்தனை?  
 (A) 96 (B) 95  
 (C) 94 (D) 97  
 (E) விடை தெரியவில்லை
81. தேவநேயப் பாவாணர் எத்தனை நூல்களைப் படைத்துள்ளார்?  
 (A) 40 (B) 72  
 (C) 43 (D) 52  
 (E) விடை தெரியவில்லை
82. கீழ்வருவனவற்றுள் மரபுச் சொற்கள் இல்லாத தொடர் எது?  
 (I) சிங்கம் முழங்கும்  
 (II) பூனை கீச்சிடும்  
 (III) புறா குணுகும்  
 (IV) வண்டு முரலும்  
 (A) I மற்றும் II சரி (B) III மற்றும் IV சரி  
 (C) I, III மற்றும் IV சரி (D) II, III மற்றும் IV சரி  
 (E) விடை தெரியவில்லை
83. “வருகைப் பருவம்” - என்பது  
 (A) குழந்தையின் பத்தாம் திங்களில் நிகழ்வது  
 (B) குழந்தையின் பனிரண்டாம் திங்களில் நிகழ்வது  
 (C) குழந்தையின் இருபதாம் திங்களில் நிகழ்வது  
 (D) குழந்தையின் பதின்மூன்றாம் திங்களில் நிகழ்வது  
 (E) விடை தெரியவில்லை
84. சாகித்திய அகாதமி பரிசு பெற்ற கண்ணதாசன் புதினம்  
 (A) ஆட்டனந்தி ஆதிமந்தி (B) மாங்கனி

- (C) சேரமான் காதலி (D) அங்கயற்கண்ணி  
(E) விடை தெரியவில்லை
85. பின்வரும் செய்யுள் அடியில் அமைந்துள்ள மோனைத் தொடை விகற்பம் வள்ளைக்கு) உறங்கும் வளநாட! வள்ளுவனார்  
(A) ஒருஉ மோனை (B) பொழிப்பு மோனை  
(C) கூழை மோனை (D) மேற்கதுவாய் மோனை  
(E) விடை தெரியவில்லை
86. தமிழகத்தில் கழுமலம் என்ற ஊரில் நிகழ்ந்த போர் வரலாற்றைக் கூறும் நூல் எது?  
(A) முத்தொள்ளாயிரம் (B) புறநானூறு  
(C) களவழி நாற்பது (D) பதிற்றுப்பத்து  
(E) விடை தெரியவில்லை
87. இவரது சேவையைப் பாராட்டி இத்தாலி அரசு இவருக்கு சர்வதேசப் பெண்மணி விருதினை வழங்கிற்று - அப்பெண்மணி யார்?  
(A) கல்பனா சாவ்லா (B) கிரண்பேடி  
(C) திலகவதி (D) அன்னை தெரேசா  
(E) விடை தெரியவில்லை
88. ஐந்திணைகளில் எத்திணையிலும் இடம் பெறாத சிறு பொழுது எது?  
(A) யாமம் (B) மாலை  
(C) காலை (D) ஏற்பாடு  
(E) விடை தெரியவில்லை
89. “செறுநரைக் காணின் சுமக்க இறுவரை  
காணின் கிழக்காம் தலை”  
இக்குறட்பாவில் அடிக்கோடு இடப்பட்ட சொல்லுக்குச் சரியான ஆங்கிலச் சொல்லைத் தேர் :  
(A) FOE (B) FOB  
(C) FOG (D) FOP  
(E) விடை தெரியவில்லை
90. காந்தியடிகள் பள்ளிப் பருவத்தில் படித்த நாடக நூல்  
(A) சிரவண பிதூர்பத்தி (B) மனோன்மணியம்  
(C) சிலப்பதிகாரம் (D) அரிச்சந்திர புராணம்  
(E) விடை தெரியவில்லை
91. தலைவனை குறிக்கும் ஓரெழுத்து ஒருமொழி  
(A) கோ (B) தீ  
(C) ஐ (D) சோ



- (E) விடை தெரியவில்லை
92. நற்றிணையைத் தொகுப்பித்தவர் யார்?  
 (A) பெருந்தேவனார்  
 (B) போதனார்  
 (C) பரணர்  
 (D) பன்னாடு தந்த பாண்டியன் மாறன் வழுதி  
 (E) விடை தெரியவில்லை
93. பரிதிமாற் கலைஞர், 'வசனநடை கைவந்த வல்லாளர்' என யாரைப் பாராட்டுகிறார்?  
 (A) ரா.பி. சேதுப்பிள்ளை (B) வையாபுரிப் பிள்ளை  
 (C) ஆறுமுக நாவலர் (D) ந.மு. வேங்கடசாமி நாட்டார்  
 (E) விடை தெரியவில்லை
94. Writs என்ற சொல்லின் பொருள்  
 (A) சட்ட நுணுக்கங்கள் (B) சட்ட செயல்கள்  
 (C) சட்ட ஆவணங்கள் (D) சட்ட சிக்கல்கள்  
 (E) விடை தெரியவில்லை
95. "நல்லிகைக் கடாம்புனை நன்னன் வெற்பில்  
 வெல்புக முனைத்தும் மேம்படத் தக்கோன்" - என்ற வரிகள் இடம்பெற்ற நூல் எது?  
 (A) மலைபடுகடாம் (B) மதுரைக்காஞ்சி  
 (C) முல்லைப்பாட்டு (D) பட்டினப்பாலை  
 (E) விடை தெரியவில்லை
96. பெயர்ச் சொல்லின் வகையறிதல்: நடிகள்  
 (A) பொருட்பெயர் (B) பண்புப்பெயர்  
 (C) தொழிற்பெயர் (D) காலப்பெயர்  
 (E) விடை தெரியவில்லை
97. தொண்ணூற்று ஒன்பது வகையான பூக்களின் பெயர்கள் இடம் பெறும் நூல் எது?  
 (A) குறிஞ்சிப்பாட்டு (B) முல்லைப் பாட்டு  
 (C) கலிப்பாடல் (D) பரிபாடல்  
 (E) விடை தெரியவில்லை
98. "ஈற்றடியின் ஈற்றுச்சீர் ஏகாரத்தில் முடிவது சிறப்பு" என்னும் பொது இலக்கணம் பெற்றமையும் 'பா' -  
 எது?  
 (A) வெண்பா (B) ஆசிரியப்பா  
 (C) கலிப்பா (D) வஞ்சிப்பா  
 (E) விடை தெரியவில்லை

99. “அந்தணர் வளர்க்கும் வேள்வித் தீயைவிட,  
தேசபக்தி நெஞ்சத்தில் வளர்க்கும் தீயே தேவர்கள் விரும்புவது”  
- இக்கருத்துடைய பாடலடியின் ஆசிரியர் யார்?  
(A) பாரதியார் (B) சுந்தரம் பிள்ளை  
(C) கவிமணி (D) பாரதிதாசன்  
(E) விடை தெரியவில்லை
100. ‘பெருவெற்றி அல்லவோ அண்ணா என முழக்கமிட்டாய்’ என்று அறிஞர் அண்ணா யாருக்குக் கடிதம் எழுதினார்?  
(A) தங்கைக்கு (B) தம்பிக்கு  
(C) மக்களுக்கு (D) உறவினருக்கு  
(E) விடை தெரியவில்லை
101. ஒரு குளிர்சாதனப் பெட்டியை, விற்பனை வரியோடு சேர்த்து ரூ. 14,355க்கு விற்கப்படுகிறது. அதன் உண்மையான வாங்கிய விலை ரூ. 13,050 எனில் விற்பனை வரி சதவீதத்தைக் காண்க.  
(A) 11% (B) 8%  
(C) 9% (D) 10%  
(E) விடை தெரியவில்லை  
A refrigerator is purchased for Rs. 14,355, including sales tax. If the actual cost price of the refrigerator is Rs. 13,050, find the rate of sales tax.  
(A) 11% (B) 8%  
(C) 9% (D) 10%  
(E) Answer not known
102. ஒரு கூடையில் உள்ள மொத்த ஆரஞ்சு பழங்களில் 18% ஆனது 36 எனில் மொத்தமுள்ள ஆரஞ்சு பழங்களின் எண்ணிக்கை  
(A) 100 (B) 150  
(C) 200 (D) 300  
(E) விடை தெரியவில்லை  
If 18% of the total number of oranges in a basket is 36. Then the total number of oranges is  
(A) 100 (B) 150  
(C) 200 (D) 300  
(E) Answer not known
103. மீ.பெ.வ காண்  
 $6(2x^2-3x-2)$ ,  $8(4x^2+4x+1)$ ,  $12(2x^2+7x+3)$   
(A)  $3(2x+1)$  (B)  $4(2x+1)$   
(C)  $2(2x+1)$  (D)  $3(2x+2)$   
(E) விடை தெரியவில்லை

Find the H.C.F is  $6(2x^2-3x-2)$ ,  $8(4x^2+4x+1)$ ,  $12(2x^2+7x+3)$

- (A)  $3(2x+1)$  (B)  $4(2x+1)$   
 (C)  $2(2x+1)$  (D)  $3(2x+2)$   
 (E) Answer not known

104. ஒரு சாய்சதுரத்தின் பக்கத்தின் நீளம் 5 மீ, அதன் ஒரு மூலைவிட்டத்தின் நீளம் 8 மீ எனில் அதன் மற்றொரு மூலைவிட்டத்தின் நீளம் யாது?

- ((A) 5m (B) 7 m  
 (C) 6 m (D) 8 m  
 (E) விடை தெரியவில்லை

The length of side of a rhombus is 5 m and one of its diagonal is 8 m. Then what is the length of other diagonal ?

- ((A) 5m (B) 7 m  
 (C) 6 m (D) 8 m  
 (E) Answer not known

105. A, B, C என்ற மூன்று பேர் ஒரு வேலையை முறையே 36,54,72 நாட்களில் முடிப்பார். இதில் A என்பவர் வேலை முடிவதற்கு 8 நாட்களுக்கு முன்பாகவும், B என்பவர் 12 நாட்களுக்கு முன்பாகவும் விலகிக் கொண்டனர். C என்பவர் அவ்வேலையை எத்தனை நாட்களில் முடிப்பார்?

- (A) 24 (B) 26  
 (C) 28 (D) 30  
 (E) விடை தெரியவில்லை

A, B and C can do a piece of work in 36, 54 and 72 days respectively. They started the work but A left 8 days before the completion of work while B left 12 days before the completion. The number of days for which C worked.

- (A) 24 (B) 26  
 (C) 28 (D) 30  
 (E) Answer not known

106. ஒரு மகிழுந்து 60 கி.மீ/மணி என்ற வேகத்தில் சென்றால் ஒரு குறிப்பிட்ட தூரத்தை கடக்க 4 மணி நேரம் எடுத்துக் கொள்கிறது. அந்த மகிழுந்து 20 கி.மீ/மணி விரைவாக சென்றால் அந்த தூரத்தை கடக்க எடுத்துக் கொள்ளும் நேரம் எவ்வளவு?

- (A) 3.4 மணி (B) 3.0 மணி  
 (C) 3.5 மணி (D) 3.2 மணி  
 (E) விடை தெரியவில்லை

A car covers a certain distance in 4 hours if it is travelling at a speed of 60 Km/hr. How much time would it have taken if it were travelling 20 Km/hr faster?

- (A) 3.4 hrs (B) 3.0 hrs  
 (C) 3.5 hrs (D) 3.2 hrs  
 (E) Answer not known

107.  $\sqrt{3.\sqrt{3.\sqrt{3.\sqrt{3.\sqrt{3....}}}}}$  ன் மதிப்பு

(A) 3

(B) முடிவிலி

(C) 0

(D)  $\sqrt{3}$

(E) விடை தெரியவில்லை

Value of  $\sqrt{3.\sqrt{3.\sqrt{3.\sqrt{3.\sqrt{3....}}}}}$

(A) 3

(B) infinity

(C) 0

(D)  $\sqrt{3}$

(E) Answer not known

108. ரூ. 800 ஆனது தனிவட்டியில் 3 வருடத்தில் ரூ. 920 ஆகிறது. வருட வட்டி 3% உயர்த்தப்பட்டால் அதே காலத்தில் கிடைக்கும் தொகை எவ்வளவு?

(A) ₹ 1056

(B) ₹ 1112

(C) ₹ 1182

(D) ₹ 992

(E) விடை தெரியவில்லை

Rs. 800 amounts to Rs. 920 in 3 years at simple interest. If the interest rate is increased by 3%, it would amount to

(A) ₹ 1056

(B) ₹ 1112

(C) ₹ 1182

(D) ₹ 992

(E) Answer not known

109. சமவாய்ப்பு முறையில் தேர்ந்தெடுக்கப்படும் லீப் வருடம் 53 ஞாயிற்றுக் கிழமைகளை கொண்டு இருக்க நிகழ்தகவு யாது?

(A)  $\frac{2}{7}$

(B)  $\frac{3}{7}$

(C)  $\frac{4}{7}$

(D)  $\frac{5}{7}$

(E) விடை தெரியவில்லை

What is the probability that a leap year selected at random will contain 53 Sundays?

(A)  $\frac{2}{7}$

(B)  $\frac{3}{7}$

(C)  $\frac{4}{7}$

(D)  $\frac{5}{7}$

(E) Answer not known

110. ஒரு குழுவில் 100 பேர் உள்ளனர், அவர்களின் உயரங்களின் கூட்டுச்சராசரி 163.8 செ.மீ. மற்றும் மாறுபாட்டுக்கெழு 3.2 எனில், அவர்களுடைய உயரங்களின் திட்ட விலக்கத்தைக் காண்க.  
 (A) 3.23 (B) 4.91  
 (C) 5.24 (D) 6.38  
 (E) விடை தெரியவில்லை  
 A group of 100 candidates have their average height 163.8 cm with coefficient of variation 3.2. What is the standard deviation of their heights?  
 (A) 3.23 (B) 4.91  
 (C) 5.24 (D) 6.38  
 (E) Answer not known
111.  $(x - y)$  ன் 50% =  $(x + y)$  -ன் 30% எனில்  $x$  ல்  $y$  ன் சதவீதம் என்ன  
 (A) 25% (B) 50%  
 (C) 75% (D) 100%  
 (E) விடை தெரியவில்லை  
 If 50% of  $(x - y) = 30%$  of  $(x + y)$  then what percent of  $x$  is  $y$ ?  
 (A) 25% (B) 50%  
 (C) 75% (D) 100%  
 (E) Answer not known
112.  $1+2+3+\dots+K$  எனில்  $1^3+2^3+\dots+n^3$  என்பது  
 (A)  $K^2$  (B)  $K^3$   
 (C)  $\frac{K(K+1)}{2}$  (D)  $(K+1)^3$   
 (E) விடை தெரியவில்லை  
 If  $1+2+\dots+n=K$  then  $1^3+2^3+\dots+n^3$  is equal to  
 (A)  $K^2$  (B)  $K^3$   
 (C)  $\frac{K(K+1)}{2}$  (D)  $(K+1)^3$   
 (E) Answer not known
113. சுருக்குக:  $\frac{\sqrt[3]{729} - \sqrt[3]{27} + \sqrt[3]{16}}{\sqrt[3]{512} + \sqrt[3]{343} - \sqrt[3]{256}} =$   
 ((A)  $\frac{11}{10}$  (B)  $\frac{10}{11}$

(C)  $\frac{9}{10}$

(D)  $\frac{12}{11}$

(E) விடை தெரியவில்லை

Simplify :  $\frac{\sqrt[3]{729} - \sqrt[3]{27} + \sqrt[3]{16}}{\sqrt[3]{512} + \sqrt[3]{343} - \sqrt[3]{256}} =$

(A)  $\frac{11}{10}$

(B)  $\frac{10}{11}$

(C)  $\frac{9}{10}$

(D)  $\frac{12}{11}$

(E) Answer not known

114. DIAMOND என்பது GLDPROG எனக் குறியீடு செய்யப்பட்டால் SYSTEM என்பதன் குறியீடு

(A) VBWVHP

(B) VBWVOP

(C) VBWVPH

(D) VBOWPV

(E) விடை தெரியவில்லை

If DIAMOND is coded as GLDPRQG, then SYSTEM is coded is

(A) VBWVHP

(B) VBWVOP

(C) VBWVPH

(D) VBOWPV

(E) Answer not known

115. 14 அச்சுக் கோர்ப்பவர்கள், 5 மணி நேரத்தில் ஒரு புத்தகத்தின் 70 பக்கங்களை முடிப்பர் 10 மணி நேரத்தில், 100 பக்கங்களை முடிக்க எத்தனை அச்சுக் கோர்ப்பவர்கள் தேவை

(A) 12

(B) 10

(C) 8

(D) 7

(E) விடை தெரியவில்லை

If 14 composers can compose 70 pages of a book in 5 hours, how many composers will compose 100 pages of this book in 10 hours?

(A) 12

(B) 10

(C) 8

(D) 7

(E) Answer not known

116. ஓர் 20 லிட்டர் கலவையில் பால் மற்றும் தண்ணீர் ஆனது 5 : 3 என்ற விகிதத்தில் கலந்துள்ளன, அதிலிருந்து 4 லிட்டர் கலவைக்கு பதிலாக 4 லிட்டர் பால் சேர்க்கப்பட்டால் அமையும் புதிய கலவையில் உள்ள பால் மற்றும் தண்ணீரின் விகிதம் என்ன?

(A) 2:1

(B) 6:3

(C) 7:3

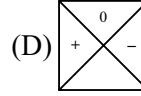
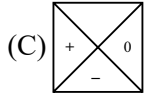
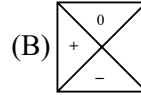
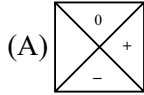
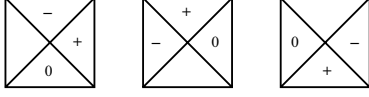
(D) 8:3

(E) விடை தெரியவில்லை

20 litres of a mixture contain milk and water in the ratio 5:3. If 4 litres of this mixture are replaced by 4 litres of milk, the ratio of milk to water in the new mixture will become

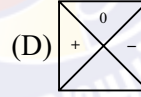
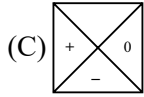
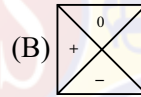
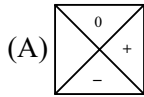
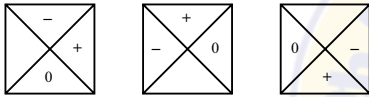
- (A) 2:1 (B) 6:3  
(C) 7:3 (D) 8:3  
(E) Answer not known

117. அடுத்து வருவது என்ன?



(E) விடை தெரியவில்லை

What comes next?



(E) Answer not known

118. ஒரு G.P. ன் 6 உறுப்பு 972 மற்றும் அதன் பொது விகிதம் 3 எனில் 8வது உறுப்பு

- (A) 2916 (B) 3888  
(C) 5832 (D) 8748

(E) விடை தெரியவில்லை

What is the 8th term of a G.P. whose 6th term is 972 and the common ratio is 3

- (A) 2916 (B) 3888  
(C) 5832 (D) 8748

(E) Answer not known

119.  $3(a-1)$ ,  $2(a-1)^2$ ,  $(a^2-1)$  ன் மீச்சிறு பொது மடங்கு காண்க.

- (A)  $(a+1)^2(a+1)$  (B)  $(a-1)^2(a+1)$   
(C)  $6(a-1)(a+1)^2$  (D)  $6(a-1)^2(a+1)$

(E) விடை தெரியவில்லை

Find the LCM of  $3(a-1)$ ,  $2(a-1)^2$ ,  $(a^2-1)$

- (A)  $(a+1)^2(a+1)$  (B)  $(a-1)^2(a+1)$   
 (C)  $6(a-1)(a+1)^2$  (D)  $6(a-1)^2(a+1)$   
 (E) Answer not known

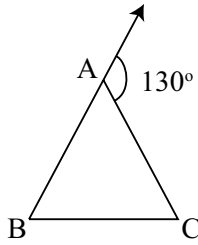
120. ஒரு தேர்வில் 10 மாணவர்கள் பெற்ற மதிப்பெண்கள் 15, 75, 33, 67, 76, 54, 39, 12, 78, 11 எனில் இதன் கூட்டுச் சராசரியைக் காண்க.

- (A) 460 (B) 46  
 (C) 23 (D) 230  
 (E) விடை தெரியவில்லை

The Marks obtained by 10 students in a test are 15, 75, 33, 67, 76, 54, 39, 12, 78, 11. Find the arithmetic mean

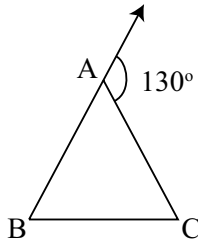
- (A) 460 (B) 46  
 (C) 23 (D) 230  
 (E) Answer not known

121. படத்தில்  $\angle B : \angle C = 2 : 3$  எனில்  $\angle B$  காண்க.



- ((A)  $120^\circ$  (B)  $52^\circ$   
 (C)  $78^\circ$  (D)  $130^\circ$   
 (E) விடை தெரியவில்லை

In the given figure,  $\angle B : \angle C = 2 : 3$ . Find  $\angle B$



- ((A)  $120^\circ$  (B)  $52^\circ$   
 (C)  $78^\circ$  (D)  $130^\circ$   
 (E) Answer not known



122. 4% ஆண்டு வட்டி விகிதத்தில்,  $1\frac{1}{2}$  ஆண்டுகளுக்கு ரூ. 5,000க்கு, ஆண்டிற்கு ஒரு முறை கணக்கிடப்படும் கூட்டு வட்டிக்கும், ஆண்டிற்கு இரண்டு முறை கணக்கிடப்படும் கூட்டு வட்டிக்கும் உள்ள வித்தியாசம் என்ன?
- (A) ரூ. 2.04 (B) ரூ.3.06  
(C) ரூ. 4.80 (D) ரூ. 8.30  
(E) விடை தெரியவில்லை
- What is the difference between the compound interests on Rs. 5,000 for  $1\frac{1}{2}$  years at 4% per annum compounded yearly and half-yearly?
- (A) Rs. 2.04 (B) Rs. 3.06  
(C) Rs. 4.80 (D) Rs. 8.30  
(E) Answer not known
123. தற்போது, அருண் மற்றும் தீபக் ஆகியோரின் வயதுகளின் விகிதம் 4:3, 6 வருடங்களுக்குப் பிறகு அருணின் வயது 26. தற்போது தீபக்கின் வயது என்ன?
- (A) 12 வயது (B) 15 வயது  
(C)  $19\frac{1}{2}$  வயது (D) 21 வயது  
(E) விடை தெரியவில்லை
- At present, the ratio between the ages of Arun and Deepak is 4:3, After 6 years, Arun's age will be 26 years. What is the age of Deepak at present?
- (A) 12 years (B) 15 years  
(C)  $19\frac{1}{2}$  years (D) 21 years  
(E) Answer not known
124. 2 : 7 என்ற விகிதத்திற்கு சமமான விகிதம்
- (A) 4 : 7 (B) 8 : 21  
(C) 6 : 14 (D) 6 : 21  
(E) விடை தெரியவில்லை
- The equivalent ratio of 2 : 7 is
- (A) 4 : 7 (B) 8 : 21  
(C) 6 : 14 (D) 6 : 21  
(E) Answer not known
125. ஒரு திடக்கோளத்தின் வளைப்பரப்பு  $36 \text{ செ.மீ.}^2$  அதனை இரு அரைக் கோளங்களாக பிரித்தால், ஒரு அரைக்கோளத்தின் மொத்தபரப்பு என்ன?
- (A)  $9 \text{ cm}^2$  (B)  $12 \text{ cm}^2$   
(C)  $18 \text{ cm}^2$  (D)  $27 \text{ cm}^2$   
(E) விடை தெரியவில்லை
- Curved surface area of a solid sphere is  $36 \text{ cm}^2$ . If the sphere is divided into two hemisphere then total surface area of one of its hemisphere is
- (A)  $9 \text{ cm}^2$  (B)  $12 \text{ cm}^2$

- (C) 18 cm<sup>2</sup> (D) 27 cm<sup>2</sup>  
 (E) Answer not known

126. பொருத்துக.

- |                  |                                  |
|------------------|----------------------------------|
| a. தூத்துக்குடி  | 1. இந்தியாவின் மருத்துவ தலைநகரம் |
| b. கரூர்         | 2. பம்பு நகரம்                   |
| c. சென்னை        | 3. பேருந்துகட்டுமான தொழில்       |
| d. சேலம்         | 4. தமிழ்நாட்டின் நுழைவு வாயில்   |
| e. கோயம்புத்தூர் | 5. எஃகு நகரம்                    |

- |      |   |   |   |   |   |
|------|---|---|---|---|---|
|      | a | b | c | d | e |
| ((A) | 4 | 3 | 1 | 5 | 2 |
| (B)  | 3 | 4 | 2 | 5 | 1 |
| (C)  | 4 | 3 | 2 | 5 | 2 |
| (D)  | 4 | 5 | 2 | 3 | 1 |

(E) விடை தெரியவில்லை

Match the following :

- |                |                            |
|----------------|----------------------------|
| a. Thoothukudi | 1. Health capital of India |
| b. Karur       | 2. Pump city               |
| c. Chennai     | 3. Bus body building       |
| d. Salem       | 4. Gateway of Tamil Nadu   |
| e. Coimbatore  | 5. Steel city              |

- |     |   |   |   |   |   |
|-----|---|---|---|---|---|
|     | a | b | c | d | e |
| (A) | 4 | 3 | 1 | 5 | 2 |
| (B) | 3 | 4 | 2 | 5 | 1 |
| (C) | 4 | 3 | 2 | 5 | 2 |
| (D) | 4 | 5 | 2 | 3 | 1 |

(E) Answer not known

127. .... சூரிய மின்சக்தி திட்டங்களைச் செயல்படுத்த உகந்த மண்டலமாகக் கருதப்படுகிறது.

- |                      |                    |
|----------------------|--------------------|
| (A) கிழக்கு தமிழகம்  | (B) தென் தமிழகம்   |
| (C) வட தமிழகம்       | (C) மேற்கு தமிழகம் |
| (E) விடை தெரியவில்லை |                    |

..... is considered as one of the most suitable regions in the country for developing solar power projects.

- |                         |                         |
|-------------------------|-------------------------|
| (A) Eastern Tamil Nadu  | (B) Southern Tamil Nadu |
| (C) Northern Tamil Nadu | (D) Western Tamil Nadu  |
| (E) Answer not known    |                         |

128. கரும்புச் சக்கை ..... தொழிற்சாலைக்கு மூலப் பொருளாக பயன்படுகிறது.

- |                  |                 |
|------------------|-----------------|
| (A) சர்க்கரை     | (A) காகிதம்     |
| (C) வேதிப்பொருள் | (D) ஆட்டோமொபைல் |

(E) விடை தெரியவில்லை

The by-product Bagasse is used as raw material for ..... industry.

- (A) sugar (B) paper  
(C) chemical (D) automobile  
(E) Answer not known

129. தமிழ்நாட்டில் ..... பட்டு பாரம்பரியமிக்க தனித்த நெசவு தரத்திற்காக உலகமெங்கிலும் புகழ்பெற்றது

- (A) காஞ்சிபுரம் (B) ஆரணி  
(C) சேலம் (D) திருப்புவனம்  
(E) விடை தெரியவில்லை

..... silk is unique in its quality and is known for its traditional value all over the world.

- (A) Kancheepuram (B) Arani  
(C) Salem (D) Thirubhuvanam  
(E) Answer not known

130. .... அமிலப் பொருட்கள் கொண்டு பதனிடும் முறையை 'ஈரநிலை முறை' அல்லது 'இரசாயன பதனிடுதல் முறை' என்பர்.

- (A) பொட்டாசியம் (A) நைட்ரேட்  
(C) நைட்ரைட் (C) குரோமியம்  
(E) விடை தெரியவில்லை

Wet blur process or mineral tanning is done with chemicals like .....

- ((A) Potassium (B) Nitrate  
(C) Nitrite (D) Chromium  
(E) Answer not known

131. .... என்பது தேசிய வளர்ச்சியின் உயிரோட்டமாகும்.

- (A) தகவல் பரிமாற்றம் (B) போக்குவரத்து திட்டம்  
(C) எழுத்து படிவம் (D) தொலைதூரம் அறிதல்  
(E) விடை தெரியவில்லை

..... acts as arteries and veins for national development.

- (A) communication (B) Transport system  
(C) Print media (D) Remote sensing  
(E) Answer not known

132. சேல்ஃபேர்ஸ் உலக எண்ணிமத் திறன் (2022) குறியீட்டில் முதலிடம் பெற்ற நாடு எது?

- (A) மதிப்பெண் 60, ரஷியா (B) மதிப்பெண் - 63, இந்தியா  
(C) மதிப்பெண் - 45, சீனா (D) மதிப்பெண் - 46, பூடான்  
(E) விடை தெரியவில்லை

Which country has scored the highest place in sales force Global Digital Skill Index 2022?

- (A) Russia, Score - 60 (B) India, Score - 63

(C) China, Score - 45

(D) Bhutan, Score - 46

(E) Answer Not Known

133. முதலாவது செமிகான் இந்தியா மாநாடு (2022) எங்கு நடைபெற உள்ளது?

(A) மும்பை

(B) பெங்களூரு

(C) டெல்லி

(D) சென்னை

(E) விடை தெரியவில்லை

First ever Semicon India(2022) conference will be held in?

(A) Mumbai

(B) Bengaluru

(C) Delhi

(D) Chennai

(E) Answer Not Known

134. சார்ஹூல் எனப்படும் புத்தாண்டுப் பண்டிகை பழங்குடிச் சமூகங்களால் எந்த மாநிலத்தில் கொண்டாடப்படுகிறது?

(A) தமிழ்நாடு

(B) நாகலாந்து

(C) ஜார்க்காண்ட்

(D) மணிப்பூர்

(E) விடை தெரியவில்லை

In which state, Sarhul is the New year festival celebrated by the tribal communities?

(A) TamilNadu

(B) Nagaland

(C) Jharkand

(D) Manipur

(E) Answer Not Known

135. இந்திய கடற்படையின் புதிய மற்றும் உள்நாட்டிலேயே கட்டமைக்கப்பட்ட ரேடார் கருவிக்கு புலப்படாத தொழில்நுட்பம் கொண்ட ஏவுகணை அழிப்புக் கப்பல் எது?

(A) ஐஎன்எஸ் ஷிவாலிக்

(B) ஐஎன்எஸ் பெட்வா

(C) ஐஎன்எஸ் திரிசூல்

(D) ஐஎன்எஸ் விசாகப்பட்டினம்

(E) விடை தெரியவில்லை

Indian Navy's newest Indigenously built stealth guided-missile destroyer?

(A) INS Shivalik

(B) INS Betwa

(C) INS Trishul

(D) INS Visakhapatnam

(E) Answer Not Known

136. ஆன்லைன் வெள்ள அறிக்கை அமைப்பை முதலில் தொடங்கிய இந்திய மாநிலம் எது?

(A) அசாம்

(B) ஐதராபாத்

(C) ஒடிசா

(D) ஜார்க்காண்ட்

(E) விடை தெரியவில்லை

Which Indian state is the first to launch the Online flood reporting system?

(A) Assam

(B) Hyderabad

(C) Odisha

(D) Jharkhand

(E) Answer Not Known

137. தொழிலாளரின் தரத்தை மேம்படுத்துவது எது?  
 (A) ஆரோக்கியம் (B) வறுமை  
 (C) முதலீட்டு (D) செலவு  
 (E) விடை தெரியவில்லை  
 Which improves the quality of labour?  
 (A) Health (B) Poverty  
 (C) Investment (D) Expenditure  
 (E) Answer not known
138. கீழ்க்கண்ட வாக்கியங்களை விவரி:  
 கூற்று (A) : “பணவீக்கம் அநீதியானது, பணவாட்டம் தீமையானது”  
 காரணம்(R) : பணவீக்கம் நுகர்வோர்களை பாதிக்கும். பணவாட்டம் வேலையில்லாத திண்டாட்டத்திற்கு வழிவகுக்கும்.  
 இவற்றுள் எது சரி என தீர்மானிக்கவும்:  
 (A) (A) மற்றும் (R) இரண்டும் சரி. மேலும் (R) என்பது (A) விற்கு சரியான விளக்கம்  
 (B) (A) மற்றும் (R) இரண்டும் சரி. ஆனால் (R) என்பது (A) விற்கு சரியான விளக்கமல்ல  
 (C) (A) சரி ஆனால் (R) தவறு  
 (D) (A) தவறு ஆனால் (R) சரி  
 (E) விடை தெரியவில்லை  
 Consider the following statements:  
 Assertion (A) : “Inflation is unjust and deflation is inexpedient”  
 Reason (R) : Inflation affects the common man and deflation results in unemployment  
 Now select your answer according to the coding schemes given below:  
 (A) Both (A) and (R) are true, and (R) is the correct explanation of (A)  
 (B) Both (A) and (R) are true, and (R) is not the correct explanation (A)  
 (C) (A) is true but (R) is false  
 (D) (A) is false but (R) is true  
 (E) Answer not known
139. கீழ்க்காண்பவற்றில்  
 (I) பொருளாதார ஆதிக்கம் சிலரிடம் குவிதல் கட்டுப்படுத்தப்படுகிறது  
 (II) அத்தியாவசிய துறைகள் பொதுத்துறையிடம் மட்டும்  
 (III) சேவையே பொதுத்துறை அமைப்பின் நோக்கம்  
 (IV) பொதுத்துறை அமைப்புகள் பொதுவாக எவ்விதப் போட்டியாளர்களும் இல்லை  
 எது தவறான விடை?  
 (A) I மற்றும் II தவறு (B) IV மட்டுமே தவறு  
 (C) III, IV தவறு (D) I, III தவறு  
 (E) விடை தெரியவில்லை

Consider – Following:

- (I) Concentration of the power is checked by public sector
- (II) For the welfare of public essential units should be under Govt. control
- (III) Service is main motto of Public Sector
- (IV) Public Sector units almost have competitors

Select which is not correct

- (A) I, II false
- (B) IV alone is false
- (C) III, IV false
- (D) I, III false
- (E) Answer not known

140. ஒரு குறிப்பிட்ட நேரத்தில் நிலவுகின்ற விலையின் அடிப்படையில் GDPயை அளவிட்டால், அதைக் கீழ்க்கண்டவாறு குறிப்பிடலாம்

- (A) நடப்பு விலையில் GDP
- (B) அங்காடி விலையில் GDP
- (C) நிலையான விலையில் GDP
- (D) (A) + (B) + (C)
- (E) விடை தெரியவில்லை

If the GDP is measured at the price prevailing at a point of time, then it is called

- (A) GDP current price
- (B) GDP market price
- (C) GDP constant price
- (D) (A) + (B) + (C)
- (E) Answer not known

141. பணவாட்டம் என்பது விலையின் எந்த நிலையைக் குறிக்கும்?

- (A) விலை குறைதல்
- (B) விலை உயர்தல்
- (C) விலை நிலைப்படுத்தப்படுதல்
- (D) மிதமான விலை உயர்தல்
- (E) விடை தெரியவில்லை

Deflation refers to a condition of \_\_\_\_\_

- (A) falling
- (B) rising
- (C) constant
- (D) moderate
- (E) Answer not known

142. கீழே கொடுக்கப்பட்டுள்ள தூரித பொருளாதார முன்னேற்றம் அடைய ஏற்படுத்தப்பட்ட காரணிகளில், எந்த ஒரு காரணி தூரித தொழில்மயமாக்குதலுக்கு பாதகமாக உள்ளது?

- (A) தொழிலாளர்களின் உற்பத்தி
- (B) வேலைவாய்ப்பு உருவாக்குவது
- (C) நிதி ஆதாயம் குறைவு
- (D) தொழில் உரிமம்
- (E) விடை தெரியவில்லை

Which of the following factors not in favour of rapid. Industrialisation as mean to fast economic development

- (A) Productivity of labour
- (B) Employment generation
- (C) Mobilisation of surplus
- (D) Industrial licensing
- (E) Answer not known

143. தலா வருமானம் என்பது  
 (A) நிதி ஆண்டில் உற்பத்தி செய்து முடிக்கப்பட்ட பண்டங்கள் மற்றும் பணிகளின் மொத்த மதிப்பு  
 (B) மொத்த வருமானம்  
 (C) நாட்டு வருமானம் / மொத்த மக்கள் தொகை  
 (D) நிகர தேசிய உற்பத்தி (NNP)  
 (E) விடை தெரியவில்லை  
 Per capita income means  
 (A) The total value final goods and services produced during the financial year.  
 (B) Total income  
 (C) National Income/Total population  
 (D) NNP  
 (E) Answer not known
144. நீரழிவின் எந்த நிலையில் சிறுநீரில் கீட்டோன் பொருள்கள் தோன்றும்?  
 (A) கீட்டோசிஸ் (B) ஆல்புமினூரியா  
 (C) கிரியாட்டினூரியா (D) மையோகுளோபினூரியா  
 (E) விடை தெரியவில்லை  
 Ketone bodies appear in the urine due to diabetes imellitus during  
 (A) Ketosis (B) Albuminuria  
 (C) Creatinuria (D) Myoglobinuria  
 (E) Answer not known
145. கீழ்க்காணும் வாக்கியங்களை கவனி  
 கூற்று (A) : ஒமேகா-3 கொழுப்பு LDL கொலஸ்ட்ராலை குறைத்து இருதய நோய் வருவதை குறைக்கக் கூடியது.  
 காரணம் (R) : இரத்த ஓட்டத்தில் குறைபாடு-வேரிகோஸ் நாளம் உள்ள மனிதர்கள் ஒமேகா-3 கொழுப்பை உட்கொண்டால் இரத்த ஓட்டத்தை சீர்படுத்தி, இரத்த கட்டிகளை உடைக்கும்.  
 சரியான பதிலை தேர்ந்தெடுக்கவும் :  
 (A) (A) மற்றும் (R) இரண்டுமே சரி மேலும் (R) என்பது (A) விற்கு சரியான விளக்கமல்ல  
 (B) (A) மற்றும் (R) இரண்டுமே சரி, மேலும் (R) என்பது (A) விற்கு சரியான விளக்கம்  
 (C) (A) சரி ஆனால் (R) தவறு  
 (D) (A) தவறு ஆனால் (R) சரி  
 (E) விடை தெரியவில்லை  
 Consider the statement :  
 Assertion (A) : Omega-3 fatty acids reduce the LDL cholesterol which may thus reduce risk if coronary heart disease.  
 Reason (R) : People with problems of blood circulation such as varicose veins benefit from consumption of omega-3 fatty acids since they stimulate blood circulation and help to breakdown fibrin (clot)  
 Choose the correct answer :  
 (A) Both (A) and (R) are individually true but (R) is not a correct explanation of (A)  
 (B) Both (A) and (R) are individually true and (R) is the correct explanation of (A)

- (C) (A) is true but (R) is false  
 (D) (A) is false but (R) is true  
 (E) Answer not known

146. ஓட்டுண்ணித் தாவரங்கள் தமக்குத் தேவையான உணவுப் பொருட்களை உறிஞ்சிக்கொள்ள பெற்றுள்ள சிறப்பான வேர்களின் பெயர் என்ன?

- (A) உணர்நீட்சி (B) பற்றுவேர்  
 (C) ஹாஸ்டோரியா (D) மட்குண்ணித் தாவரங்கள்  
 (E) விடை தெரியவில்லை

Parasitic plants obtain the required food through special roots called

- (A) Tentacles (B) Clinging roots  
 (C) Haustoria (D) Saprophytes  
 (E) Answer not known

147. எந்த ஹார்மோனால் உணர்ச்சி வயப்பட்ட தொந்தரவுகள் ஏற்படுத்துகின்றன?

- (A) தைராஸின் (B) ஆக்ஸி டாக்ஸின்  
 (C) வாசோபிரசின் (D) அட்ரினலின்  
 (E) விடை தெரியவில்லை

Which hormone causes emotional disturbances?

- (A) Thyroxine (B) Oxytocin  
 (C) Vasopressin (D) Adrenalin  
 (E) Answer not known

148. பொருத்துக:

- (A) கலப்பு உரங்கள் 1. டி.எ.பி.  
 (b) சிக்கலான உரங்கள் 2. என்.பி.கே.  
 (c) உயிர் உரங்கள் 3. எண்ணெய் கேக்  
 (d) கரிம நைட்ரஜன் உரங்கள் 4. பாசி

	(A)	(b)	(c)	(d)
(A)	1	2	3	4
(B)	2	1	4	3
(C)	3	2	1	4
(D)	4	3	2	1

(E) விடை தெரியவில்லை

Match the following :

- (A) Mixed fertilizer 1. DAP  
 (b) Complex fertilizer 2. NPK  
 (c) Bio fertilizer 3. Oil cake  
 (d) Organic nitrogen fertilizer 4. Algae



	(A)	(b)	(c)	(d)
(A)	1	2	3	4
(B)	2	1	4	3
(C)	3	2	1	4
(D)	4	3	2	1
(E)	Answer not known			

149. கீழே கொடுக்கப்பட்டுள்ள கூற்றுகளில் தவறானது எது?

- (A) லியூக்கோபிளாஸ்ட்டுகள் என்பவை நிறமற்ற கணிகங்களாகும்  
 (B) அமைலோபிளாஸ்ட்டுகள் என்பவை நிறமற்ற கணிகங்களுக்கு எடுத்துக் காட்டுகளாகும்  
 (C) குளோரோபிளாஸ்ட்டுகள் என்பவை பச்சை நிறமான பிளாஸ்ட்டிகள்  
 (D) அலியுரோபிளாஸ்ட்டுகள் என்பவை ஸ்டார்ச்சினை சேமிக்கும் பிளாஸ்ட்டிகளாகும்  
 (E) விடை தெரியவில்லை

Which of the following statement is wrong?

- (A) The colourless plastids are leucoplasts  
 (B) Amyloplasts are examples for colourless plastids  
 (C) Chloroplasts are green coloured plastids  
 (D) Aleuroplasts are starch storing plastids  
 (E) Answer not known

150. ஜூலை மற்றும் ஆகஸ்ட் மாதங்களில் நம் கண்ணுக்கு தெரியும் வடிவ விண்மீன் குழுக்கள்

- (A) ரிஷபம் (B) சப்தரிஷி  
 (C) ஸ்வாதி (D) அகஸ்தி  
 (E) விடை தெரியவில்லை

Name the constellation which can be seen during the months of July and August

- (A) Vrishabha (B) Saptarishi  
 (C) Swathi (D) Agasti  
 (E) Answer not known

151. இந்தியாவில் முதல் முதலில் இரயில் இருப்பு பாதை ----- க்கும் ----- க்கும் இடையே போடப்பட்டது

- (A) தார்வார் மற்றும் கல்யாண் (B) தானே மற்றும் கல்யாண்  
 (C) தாதர் மற்றும் கல்யாண் (D) பம்பாய் மற்றும் கல்யாண்  
 (E) விடை தெரியவில்லை

The first railway line in India was laid between ----- and -----

- (A) Dharwar and Kalyan (B) Thane and Kalyan  
 (C) Dadar and Kalyan (D) Bombay and Kalyan  
 (E) Answer not known

152. மேற்கு வானில் தோன்றும் போது 'மாலை நட்சத்திரம்' என்றழைக்கப்படும் கோள்

- (A) புதன் (B) வெள்ளி

(C) செவ்வாய் (D) வியாழன்

(E) விடை தெரியவில்லை

The planet known as 'Evening Star' when it appears in the Western Sky is

(A) Mercury (B) Venus

(C) Mars (D) Jupiter

(E) Answer not known

153. பின்வருவனவற்றில் "எல்நினோ விளைவு" டன் தொடர்பில்லாதது எது?

(A) வறட்சி (B) அதிகமான மழைப்பொழிவு

(C) சுனாமி (D) கடுங்குளிர்

(E) விடை தெரியவில்லை

Which of the following is not related with "Elnino Effect"?

(A) Drought (B) Heavy rainfall

(C) Tsunami (D) Severe cold

(E) Answer not known

154. சூரியக் கதிர்விச்சின் ஒரு பகுதி பிரதிபளிப்பின் மூலம் விண்வெளிக்கு திருப்பி அனுப்பப்படுவது இவ்வாறு அழைக்கப்படுகிறது.

(A) வளிமண்டல சன்னல்கள் (B) அல்பெடோ

(C) ராலே ஒளிச் சிதறல் (D) ஒளிச்சிதறல் விதி

(E) விடை தெரியவில்லை

The portion of incident radiation reflected back to space from the planet is called

(A) Atmospheric windows (B) Albedo

(C) Rayleigh scattering (D) Law of scattering

(E) Answer not known

155. உலகிலேயே மிகப்பெரிய தீவு எது?

(A) கிரீன்லாந்து (B) மடகாஸ்கர்

(C) சுமத்ரா (D) கிரேட் பிரிட்டன்

(E) விடை தெரியவில்லை

Which is the biggest Island in the world?

(A) Greenland (B) Madagascar

(C) Sumatra (D) Great Britain

(E) Answer not known

156. தென்மேற்கு பருவக்காற்றின் அரபிக்கடல் கிளை இப்பகுதிக்கு மழைப்பொழிவைக் கொடுப்பதில்லை

(A) மலபார் கடற்கரை (B) கொங்கன் கடற்கரை

(C) மேற்குத் தொடர்ச்சி மலை (D) சோழமண்டல கடற்கரை

(E) விடை தெரியவில்லை

The Arabian sea branch of South West monsoon causes no rainfall to this region  
 (A) Malabar coast (B) Konkan coast  
 (C) Western ghats (D) Coromandel coast  
 (E) Answer not known

157. கீழ்க்கண்டவற்றுள் சரியாக பொருத்தப்பட்டுள்ளது எது?

- I. சிந்து - கங்கோத்ரி  
 II. பிரம்மபுத்ரா - மானசரோவர் ஏரி  
 III. கோதாவரி - பெட்ரூல்  
 IV. மகாநதி - அகத்தியர் மலை  
 (A) I (B) II  
 (C) II (D) IV  
 (E) விடை தெரியவில்லை

Which of the following is correctly matched :

- I. Indus - Gangothri  
 II. Brahmaputra - Lake Manasarovar  
 III. Godavari - Betail  
 IV. Mahanadi - Agasthiyar Hills  
 (A) I (B) II  
 (C) III (D) IV  
 (E) Answer not known

158. பிரம்மபுத்திரா ஆறு \_\_\_\_\_ என்ற பெயருடன் திபெத்தில் உருவாகிறது.

- (A) சாங்போ (B) திகாங் திபாங்  
 (C) காக்ரா (D) சோன்  
 (E) விடை தெரியவில்லை

The Bramaputra river originate in Tibet and is locally known as

- (A) Tsangpo (B) Dihang Dibang  
 (C) Ghagra (D) Son  
 (E) Answer not known

159. இந்தியாவின் முதல் டுகோங் பாதுகாப்பு இருப்பு அமைக்க எந்த மாநிலம்/யூனியன் பிரதேசம் திட்டமிட்டுள்ளது?

- (A) கர்நாடகா (B) ஆந்திரா  
 (C) கோவா (D) தமிழ்நாடு  
 (E) விடை தெரியவில்லை

Which state/UT has planned to set up India's first Dugong Conservation Reserve?

- (A) Karnataka (B) Andhra Pradesh  
 (C) Goa (D) Tamil Nadu  
 (E) Answer not known

160. மன்னார் வளைகுடாவில் ஒரு ஆற்றல் தீவை உருவாக்க தமிழ்நாடு எந்த நாட்டோடு கூட்டு சேர்ந்துள்ளது?  
(A) ஜெர்மனி (B) டென்மார்க்  
(C) ஜப்பான் (D) தென் கொரியா  
(E) விடை தெரியவில்லை  
With which country, Tamil Nadu has partnered to create an energy island in the Gulf of Mannar?  
(A) Germany (B) Denmark  
(C) Japan (D) South Korea  
(E) Answer not known
161. செப்டம்பர் மாதம் எந்தத் தேதி உலக தற்கொலை தடுப்பு தினமாக அனுசரிக்கப்படுகிறது?  
(A) செப்டம்பர் 11 (B) செப்டம்பர் 10  
(C) செப்டம்பர் 9 (D) செப்டம்பர் 12  
(E) விடை தெரியவில்லை  
Which date in September is observed as World Suicide Prevention Day?  
(A) September 11 (B) September 10  
(C) September 9 (D) September 12  
(E) Answer not known
162. எந்த தேதியில், தேசிய வன தியாகிகள் தினம் அனுசரிக்கப்படுகிறது?  
(A) செப்டம்பர் 12 (B) செப்டம்பர் 11  
(C) செப்டம்பர் 10 (D) செப்டம்பர் 15  
(E) விடை தெரியவில்லை  
On which date, National Forest Martyrs Day is observed?  
(A) September 12 (B) September 11  
(C) September 10 (D) September 15  
(E) Answer not known
163. 2021 உலக முதலுதவி தினம் எந்த தேதியில் கடைபிடிக்கப்பட்டது?  
(A) 10 செப்டம்பர் (B) 11 செப்டம்பர்  
(C) 9 செப்டம்பர் (D) 13 செப்டம்பர்  
(E) விடை தெரியவில்லை  
On which date, World First Aid Day 2021 was observed?  
(A) 10 September (B) 11 September  
(C) 9 September (D) 13 September  
(E) Answer not known
164. பின்வரும் பத்திரிக்கைகளில் இந்திய பணியாளர்கள் சங்கம் என்ற அமைப்போடு தொடர்பில்லாதது எது?  
(I) இந்திய பணியாளர்கள் சங்கம் (II) தியான பிரகாஷ்

- (III) ஹிதாவத் (IV) தத்துவ போதினி பத்திரிக்கா  
 (A) I மற்றும் II (B) III மற்றும் IV  
 (C) III மட்டும் (D) IV மட்டும்  
 (E) விடை தெரியவில்லை

Which of the following newspaper is not associated with the servants of India Society

- (I) The servants of India (II) Dhyan Prakash  
 (III) Hitawad (IV) Tatvabodhini Patrika  
 ((A) I and II (B) III and IV (C) III only (D) IV only  
 (E) Answer not known

165. கீழ்க்காணும் வாக்கியங்களைக் கவனி:

கூற்று (A) : தயானந்த சரஸ்வதி சுத்தி இயக்கத்தை தொடங்கினார். வீ.மீ. இந்து அல்லாதவர்களை இந்துக்களாக மாற்றுவது

காரணம்(R): வேதங்களின் கூற்றுப்படி சமுதாயத்தை அவர் மாற்ற நினைத்தார்

- (A) (A) மற்றும் (R) இரண்டும் சரி, மேலும் (R) என்பது (A) விற்கு சரியான விளக்கம்  
 (B) (A) மற்றும் (R) இரண்டுமே சரி, மேலும் (R) என்பது (A) விற்கு சரியான விளக்கமல்ல  
 (C) (A) சரி ஆனால் (R) தவறு  
 (D) (A) தவறு ஆனால் (R) சரி  
 (E) விடை தெரியவில்லை

Consider the following statements:

Assertion ((A) : Dayananda Saraswathi began the Suddhi movment, i.e, conversion of non-Hindus to Hinduism.

Reason (R) : He wanted to shape the society on the model of the Vedas

- ((A) Both ((A) and (R) are individually true and (R) is the correct explanation of((A)  
 (B) Both ((A) and (R) are individually true but (R) is not a correct explanation of((A)  
 (C) ((A) is true but (R) is false  
 (D) ((A) is false but (R) is true  
 (E) Answer not known

166. ஈ.வே. இராமசாமி இந்திய தேசிய காங்கிரசிலிருந்து வெளியேறுவதற்கு கீழ்வந்துள்ள காரணங்களில் முதன்மையானது எது?

- (A) மோ.க. காந்தியுடனான முரண்பாடு  
 (B) சேரன்மகாதேவி குருகுல பயிற்சி மையத்தில் நிகழ்ந்த சிக்கல்  
 (C) காங்கிரசின் கருத்தியல்  
 (D) காங்கிரசில் சமூக வித்தியாசம்  
 (E) விடை தெரியவில்லை

Which among the given facts became the primary reason for the leave of E.V. Ramaswami from Indian National Congress?

- (A) conflict with M.K. Gandhi  
 (B) crisis in Seranmahadevi charity training centre  
 (C) congress ideology

- (D) communal disparity in Congress  
(E) Answer not known

167. கீழே கொடுக்கப்பட்டவற்றை வாசித்து, சரியான விடையை தேர்ந்தெடு.  
1. C.R. தாஸ், தீன்பந்து என அறியப்பட்டார்  
2. இவர் வங்காளத்தின் முடிகுடா மன்னர்  
(A) 1 மட்டும் (B) 2 மட்டும் (C) 1 மற்றும் 2 (D) 1 மற்றும் 2 இல்லை  
(E) விடை தெரியவில்லை  
Read the following statement and find out the correct one.  
1. C.R. Das was known as Deenbandhu  
2. He was the uncrowned king of Bengal  
(A) 1 only (B) 2 only (C) Both 1 and 2 (D) Neither 1 nor 2  
(E) Answer not known
168. காபினெட் தூதுக் குழு 1946 ல் இடம்பெற்ற பிரிட்டிஷ் அமைச்சரவையைச் சேர்ந்த மூன்று பேர்  
(A) பெதிக்கலாரன்ஸ், சர் ஸ்டாபோர்டு கிரிப்சு, ஏ.வி. அலெக்சாந்தர்  
(B) ஏ.வி. அலெக்சாந்தர், சர் ஸ்டாபோர்டு கிரிப்சு, மவுண்ட்பேட்டன்  
(C) மவுண்ட்பேட்டன், பெதிக்கலாரன்ஸ், ஏ.வி. அலெக்சாந்தர்  
(D) சர் ஸ்டாபோர்டு கிரிப்சு, பெதிக்கலாரன்ஸ், மவுண்ட்பேட்டன்  
(E) விடை தெரியவில்லை  
The three British Cabinet members of the Cabinet Mission 1946.  
(A) Pathick Lawrence, Sir Stafford Cripps, A. V. Alexander  
(B) A. V. Alexander, Sir Stafford Cripps, Mountbatten  
(C) Mountbatten, Pathick Lawrence, A. V. Alexander  
(D) Sir Stafford Cripps, Pathick Lawrence, Mountbatten  
(E) Answer not known
169. 'வெள்ளையனே வெளியேறு' இயக்கம் தொடங்கப்பட்ட ஆண்டு எது?  
(A) 1930 A.D. (B) 1946 A.D. (C) 1942 A.D. (D) 1940 A.D.  
(E) விடை தெரியவில்லை  
The 'Quit India Movement' started in  
(A) 1930 A.D. (B) 1946 A.D. (C) 1942 A.D. (D) 1940 A.D.  
(E) Answer not known
170. இராக்கெட் எரிபொருளாகப் பயன்படும் நைட்ரஜன் சேர்மம்  
(A) ஹைட்ரஜன் (B) ஹைட்ரேசான்  
(C) கார்ப்சோன் (D) அம்மோனியா  
(E) விடை தெரியவில்லை  
The nitrogen compound used as a rocket fuel is  
(A) Hydrazine (B) Hydrazone

- (C) Carbazone (D) Ammonia  
(E) Answer not known

171. போராக்ஸ்மணி ஆய்வில் நீல நிறத்தை கொடுக்கும் தனிமம்  
(A) எஃகு (B) நிக்கல் (C) கோபால்ட் (D) சிங்க்  
(E) விடை தெரியவில்லை  
The blue colour in Borax Bead test is due to the presence of:  
(A) Iron (B) Nickel (C) Cobalt (D) Zinc  
(E) Answer not known

172. பழுத்த ஆப்பிள், தக்காளி மற்றும் திராட்சையின் தோலின் நிறத்திற்குக் காரணம்  
(A) கரோட்டினாய்டு (B) லைக்கோபீன்  
(C) ஆன்டோசையனின் (D) எத்திலின்  
(E) விடை தெரியவில்லை  
The colour of the skin in ripened apple, tomato and grape fruits is due to accumulation of  
(A) Carotenoid (B) Lycopene  
(C) Anthocyanin (D) Ethylene  
(E) Answer not known

173. பொருத்துக:  
(A) Dr.அம்பேத்கர் 1. பகிஷ்கிரிட் ஹிட்காரினி சபை  
(b) ஜோதிராவ் பூலே 2. சுயமரியாதை இயக்கம்  
(c) நாராயண குரு 3. நாராயண பரிபாலன யோகம்  
(d) ஈ.வெ.ரா. பெரியார் 4. சத்ய சோதகக் சமாஜம்  
(A) (b) (c) (d)  
(A) 2 4 1 3  
(B) 4 1 2 3  
(C) 1 2 4 3  
(D) 1 4 3 2

(E) விடை தெரியவில்லை

Match the following:

- (A) Dr. Ambedkar 1. Bahishkrit Hitkarini Sabha  
(b) Jyotirao Phule 2. Self Respect Movement  
(c) Narayana Guru 3. Narayana Paripalana Yogam  
(d) E.V.R. Periyar 4. Satya Sadhak Samaj

- (A) (b) (c) (d)  
(A) 2 4 1 3  
(B) 4 1 2 3  
(C) 1 2 4 3  
(D) 1 4 3 2

(E) Answer not known

174. பொருத்துக:

- (A) சுரேந்திரநாத் பாணர்ஜி  
 (b) ஜி.சுப்பிரமணிய அய்யர்  
 (c) தாதாபாய் நௌரோஜி  
 (d) கோபால கிருஷ்ண கோகலே

- 1.இந்தியாவின் முதுபெரும் மனிதர்  
 2.இந்தியாவின் பர்க்  
 3.காந்தியின் அரசியல் குரு  
 4.சென்னை மகாஜனசபை

	(A)	(b)	(c)	(d)
(A)	1	2	3	4
(B)	2	1	4	3
(C)	2	4	1	3
(D)	4	3	1	2

(E) விடை தெரியவில்லை

Match the following:

- (A) Surendranath Banerjee  
 (b) G. Subramanya Aiyer  
 (c) Dadabhai Naoroji  
 (d) Gopala Krishna Gokhale

1. Grand old man of India  
 2.Indian Burke  
 3.Political Guru of Gandhi  
 4.Madras Mahajana Sabha

	(A)	(b)	(c)	(d)
(A)	1	2	3	4
(B)	2	1	4	3
(C)	2	4	1	3
(D)	4	3	1	2

(E) Answer not known

175. கீழ்க்கண்டவற்றுள் எந்த வாக்கியம் சரியாக பொருந்தவில்லை?

- (A) 1857 இந்திய பெருங்கலகம் இந்து மற்றும் முஸ்லீம் பிரிவினைக்கு இட்டு சென்றது  
 (B) இந்திய ஆட்சி கிழக்கிந்திய வணிகக் குழுவிடமிருந்து பிரிட்டிஷாரின் நேரடி ஆட்சி நடைமுறைக்கு வந்தது  
 (C) காணிங் பிரபு முதல் தலைமை ஆளுநராக நியமிக்கப்பட்டார்  
 (D) பேரரசியின் அறிக்கை இந்திய மக்களின் 'மேக்னா கார்ட்டர்' என்று அழைக்கப்படுகிறது.  
 (E) விடை தெரியவில்லை

Consider the statement, which of the following statement is not correctly matched.

- (A) The revolt of 1857 led to the division between the Hindus and Muslims  
 (B) Indian administration transferred from East India Company to the Crown by Queen's Proclamation.  
 (C) Lord Canning was the Governor General of India.  
 (D) Queen's proclamation was called the Magna Carta of the Indian People.  
 (E) Answer not known



176. காணிங் பிரபு 'கருணையுள்ள காணிங்' என்று அழைக்கப்பட்டது ஏன்?  
 (A) இந்தியர்களின் மீது மிகுந்த அன்போடு உயர் பதவிகளை வழங்கியதால்  
 (B) சிப்பாய் கலகத்தில் ஈடுபட்ட அனைவருக்கும் பொது மன்னிப்பு வழங்கியதால்  
 (C) நில வரியை அவர் குறைத்ததால்  
 (D) பிரிட்டிஷ் அரசாங்கத்தின் முதல் வைசிராயாக அவர் நியமிக்கப்பட்டதால்  
 (E) விடை தெரியவில்லை  
 Why Lord Canning was called as Clemency Canning?  
 (A) He loved Indians and gave them high posts  
 (B) He issued general pardon to the mutineers  
 (C) He reduced land tax  
 (D) He was appointed as the First Viceroy under British Crown  
 (E) Answer not known
177. வேலூர் கழகம் நடை பெற்ற ஆண்டு  
 (A) 1802 கிபி (B) 1806 கிபி (C) 1808 கிபி (D) 1816 கிபி  
 (E) விடை தெரியவில்லை  
 Vellore mutiny took place in the year  
 (A) 1802 AD (B) 1806 AD (C) 1808 AD (D) 1816 AD  
 (E) Answer not known
178. கீழ்க்கண்ட அனைத்து இணைகளும் மலைவாழ் மக்களின் கலகங்களைச் சார்ந்தவை. இதில் எது தவறான இணை என்று குறிப்பிடுக.  
 (A) அஹோம்கள் கலகம் - 1828  
 (B) காசி எழுச்சி - 1833  
 (C) சாந்தல் எழுச்சி - 1840  
 (D) கோல் எழுச்சி - 1831  
 (E) விடை தெரியவில்லை  
 Choose the incorrect pair regarding the Tribal revolts  
 (A) The Ahom's Revolt - 1828  
 (B) Khasi Rising - 1833  
 (C) Santhal Risings - 1840  
 (D) Kol Risings - 1831  
 (E) Answer not known
179. சமமான கடத்து திறனின் அலகு  
 (A)  $\text{ohm}^{-1} \text{cm}^{-1}$  (B)  $\text{ohm}^{-1} \text{cm}^{-2} \text{eq}^{-1}$   
 (C)  $\text{ohm}^{-1} \text{cm}^2 \text{eq}^{-1}$  (D)  $\text{S cm}^{-2} \text{eq}^{-1}$   
 (E) விடை தெரியவில்லை  
 The unit for equivalent conductivity is  
 (A)  $\text{ohm}^{-1} \text{cm}^{-1}$  (B)  $\text{ohm}^{-1} \text{cm}^{-2} \text{eq}^{-1}$   
 (C)  $\text{ohm}^{-1} \text{cm}^2 \text{eq}^{-1}$  (D)  $\text{S cm}^{-2} \text{eq}^{-1}$

(E) Answer not known

180. மோஸ்லி-யின் விதிப்படி அலைமாலையின் அதிர்வெண்ணைப் பொருத்து X-கதிர்களின் அலைமாலை எவ்வாறு மாறுபடுகிறது?

- (A) தனிமத்தின் அணு எண்ணைப் பொருத்து  
 (B) தனிமத்தின் அணு எண்ணின் இரு மடங்கை பொருத்து  
 (C) தனிமத்தின் அணு எண்ணின் வர்க்க மூலத்தை பொருத்து  
 (D) தனிமத்தின் அணு எண்ணின் நான்கு மடங்கை பொருத்து  
 (E) விடை தெரியவில்லை

According to Moseley's law the frequency of the spectral line in X-ray spectrum varies as

- (A) Atomic number of the element  
 (B) Square of the atomic number of the element  
 (C) Square root of atomic - number of element  
 (D) Fourth power of the atomic number of the element  
 (E) Answer not known

181. ஒரு வானியல் அலகு என்பது

- (A)  $9.467 \times 10^{11}$  மீ (B)  $9.467 \times 10^{11}$  கி.மீ  
 (C)  $1.496 \times 10^{11}$  மீ (D)  $1.496 \times 10^{11}$  கி.மீ  
 (E) விடை தெரியவில்லை  
 Value of Astronomical unit  
 (A)  $9.467 \times 10^{11}$  m (B)  $9.467 \times 10^{11}$  km  
 (C)  $1.496 \times 10^{11}$  m (D)  $1.496 \times 10^{11}$  km  
 (E) Answer not known

182. இந்திய அரசியலமைப்புச் சட்டப்படி தீண்டாமையை ஒழிக்கும் சட்டப்பிரிவு

- (A) விதி 14 (B) விதி 15  
 (C) விதி 16 (D) விதி 17  
 (E) விடை தெரியவில்லை

Untouchability has been abolished by the constitution of India under

- (A) Article 14 (B) Article 15  
 (C) Article 16 (D) Article 17  
 (E) Answer not known

183. கீழ்க்கண்டவற்றில் எவை சரியாக பொருந்தவில்லை?

- (A) மாநிலங்களுக்கு இடையேயான கவுன்சில் - Art. 261  
 (B) பட்டியலிற்ற மற்றும் பழங்குடியின பகுதி நிர்வாகம் - Art. 244  
 (C) அகில இந்திய பணிகள் - Art. 312  
 (D) நிர்வாகத் தீர்ப்பாணயம் - Art. 323 (A)  
 (E) விடை தெரியவில்லை

Which one of the following pair is not matched properly?

- (A) Inter-State council - Art. 261

- (B) Administration of Scheduled areas and tribal areas - Art. 244  
 (C) All India services - Art. 312  
 (D) Administrative Tribunals - Art. 323 (A)  
 (E) Answer not known

184. கட்சித்தாவல் தடை சட்டம் \_\_\_\_\_ சட்டத் திருத்தத்தினால் ஏற்பட்டது.  
 (A) 42 வது திருத்தச் சட்டம் (B) 52 வது திருத்தச் சட்டம்  
 (C) 62 வது திருத்தச் சட்டம் (D) 72 வது திருத்தச் சட்டம்  
 (E) விடை தெரியவில்லை

The Anti-defection law was introduced by the \_\_\_\_\_ Amendment Act.  
 (A) 42nd Amendment Act (B) 52nd Amendment Act  
 (C) 62nd Amendment Act (D) 72nd Amendment Act  
 (E) Answer not known

185. குடியரசு தலைவர் அதிகாரம் தொடர்பான எந்த வாதம் தவறு என கருதப்படுகிறது?  
 (A) குடியரசு தலைவர் இரண்டு அவையிலும் உரை நிகழ்த்த முடியும்  
 (B) குடியரசு தலைவர் நாடாளுமன்றத்தின் இரண்டு அவைகளுக்கும் செய்திகளை அனுப்பமுடியும்  
 (C) நாடாளுமன்ற கூட்டு கூட்டத்தொடரை குடியரசு தலைவர் தலைமை தாங்கி நடத்த முடியும்  
 (D) மாநிலங்களவையின் கூட்டம் நடத்தவும் மற்றும் ஒத்திவைக்கவும் குடியரசு தலைவரால் முடியும்  
 (E) விடை தெரியவில்லை

Which one of the following statement is not correct with regard to the powers and functions of president?  
 (A) President shall address both houses of parliament  
 (B) President has right to send the messages to houses of parliament  
 (C) President shall have power to preside over joint sitting of parliament  
 (D) President shall have power to summon or prorogue the council of states  
 (E) Answer not known

186. 1985-ல் இயற்றப்பட்ட கட்சித் தாவல் தடைச்சட்டம், இந்திய அரசியலமைப்பின் .....  
 அட்டவணையில் சேர்க்கப்பட்டுள்ளது  
 (A) அட்டவணை VIII (B) அட்டவணை IX  
 (C) அட்டவணை X (D) அட்டவணை XI  
 (E) விடை தெரியவில்லை

The anti-defection law was passed in 1985 and was incorporated into the Constitution as  
 (A) Schedule VIII (B) Schedule IX  
 (C) Schedule X (D) Schedule XI  
 (E) Answer not known

187. இரட்டை இடர்பாடு என்பது இந்திய அரசியலமைப்பின் எந்த விதியின் கீழ் வருகின்றது?  
 (A) விதி 21(1) (B) விதி 20(2)  
 (C) விதி 32(1) (D) விதி 226(2)  
 (E) விடை தெரியவில்லை

Double Jeopardy is related to which Article of the Indian Constitution?

- (A) Art. 21(1) (B) Art 20(2)  
 (C) Art. 32(1) (D) Art. 226(2)  
 (E) Answer not known

188. மாநில அரசின் சட்ட ஆலோசகர் யார்?

- (A) அட்டர்னி ஜெனரல் (B) மாநிலத்தின் தலைமை வழக்கறிஞர்  
 (C) ஆடிட்டர் ஜெனரல் (D) கம்ட்ரோளர் மற்றும் ஆடிட்டர் ஜெனரல்  
 (E) விடை தெரியவில்லை

The legal advisor to the state government is

- (A) Attorney General (B) Advocate General  
 (C) Auditor General (D) Comptroller and Auditor General  
 (E) Answer not known

189. இந்திய அரசியலமைப்பின் ஒன்றாம் விதி (Art.1) இந்தியாவை எவ்வாறு குறிப்பிடுகிறது?

- (A) குடியரசு (B) சமதர்ம மக்களாட்சி  
 (C) மாநிலங்களின் ஒன்றியம் (D) மதச் சார்பற்ற நாடு  
 (E) விடை தெரியவில்லை

The First Article of the Indian Constitution declares India as

- (A) Republic (B) Socialist Democracy  
 (C) Union of States (D) Secular State  
 (E) Answer not known

190. எவ்வகை மசோதா இந்தியப்பாராளுமன்றத்தின் இரு அவைகளிலும் தனித்தனியே சிறப்பு பெரும்பான்மையில் நிறைவேற்றப்பட வேண்டும்?

- (A) சாதாரண மசோதா (B) பண மசோதா  
 (C) நிதி மசோதா (D) அரசியலமைப்புச் சட்டத் திருத்த மசோதா  
 (E) விடை தெரியவில்லை

Which one of the following Bills must be passed by each house of the Indian parliament separately by special majority?

- (A) Ordinary Bill (B) Money Bill  
 (C) Finance Bill (D) Constitutional Amendment Bill  
 (E) Answer not known

191. சம உரிமை ஆவணம் எதைக் குறிக்கிறது என்றால்

- (A) ஆவணமானது பதியப்படாமல் ஈடாக மாற்றத்திற்கு வைக்கும்போது  
 (B) ஆவணமானது இரண்டு நபர்கள் மீது சம விகிதத்தில் மாற்றும்போது  
 (C) ஆவணமானது எந்த எதிர்பார்ப்பும் இல்லாமல் மாற்றும்போது  
 (D) ஆவணமானது பதினெட்டு வயது அடையாதவரின் பேரில் மாற்றும்போது  
 (E) விடை தெரியவில்லை

Equitable title refers to

- (A) the title is transferred by deposit of security without registration of its transfer.  
 (B) title is transferred in the name of two persons in equal proportions.  
 (C) the title transferred without consideration.  
 (D) the title transferred in the name of a person who has attained the age of 18 years  
 (E) Answer not known

192. இந்திய அரசியலமைப்பின் பதினோராவது பகுதி எதனைப் பற்றி விவரிக்கிறது?

- (A) மத்திய-மாநில உறவுகள் (B) மத்திய அரசாங்கம்  
 (C) மாநில அரசாங்கம் (D) தீர்ப்பாயம்  
 (E) விடை தெரியவில்லை

The part Eleven of the Indian Constitution describes

- (A) Centre-State relations (B) The Union Government  
 (C) The State Government (D) Tribunals  
 (E) Answer not known

193. உயர்நீதிமன்றத்தின் ஒரு நீதிபதி எத்தனை வயது வரை பதவி வகிப்பார்?

- (A) 58 வயது (B) 60 வயது  
 (C) 62 வயது (D) 65 வயது  
 (E) விடை தெரியவில்லை

A Judge of High court shall hold office until the age of

- (A) 58 (B) 60  
 (C) 62 (D) 65  
 (E) Answer not known

194. நிதி மசோதாக்களை மாநில அவை எத்தனை நாட்கள் மட்டும் தாமதப்படுத்தலாம்?

- (A) 30 நாட்கள் (B) 20 நாட்கள்  
 (C) 14 நாட்கள் (D) 7 நாட்கள்  
 (E) விடை தெரியவில்லை

Money Bills can be delayed by the Rajya Sabha only for

- (A) 30 days (B) 20 days  
 (C) 14 days (D) 7 days  
 (E) Answer not known

195. களப்பிரர்களைப் பற்றிய கூற்றுக்களில் இருந்து சரியான விடையைத் தேர்ந்தெடு.

- i. தமிழகத்தில் பௌத்தமும், சமணமும் முக்கியத்துவம் பெற்ற காலம்.  
 ii. தமிழ் நாவலர் சரிதை, யாப்பெருங்கலம், பெரிய புராணம் ஆகியவை இக்காலத்தைச் சேர்ந்தவை அல்ல.  
 iii. அவர்கள் தமிழகத்தை கி.பி. 3½ நூற்றாண்டில் கைப்பற்றினர்.  
 (A) i மட்டும் (B) ii மட்டும்  
 (C) i, ii, iii (D) i, iii

(E) விடை தெரியவில்லை

Choose the correct statement about Kalabhras.

- In Tamizhagam, Jainism and Buddhism became prominent during this period.
- Tamil Navalar Charithai, Yapernkalam, Periyapuram did not belong to this period
- They occupied the Tamil country for 3½ centuries

- (A) only i (B) only ii  
(C) i, ii, iii (D) i, iii  
(E) Answer not known

196. தமிழ் மொழி குறைந்தபட்சம் ..... ஆண்டுகள் தொடர்ச்சியான வரலாற்றை உடையது.

- (A) 3500 (B) 2500  
(C) 1500 (D) 4000

(E) விடை தெரியவில்லை

Tamil language has a continuous history of atleast ..... years.

- ((A) 3500 (B) 2500  
(C) 1500 (D) 4000

(E) Answer not known

197. பல்லவர்கள் ..... மொழிக்கு முக்கியத்துவம் அளித்தனர்.

- (A) தமிழ் (B) தெலுங்கு  
(C) சமஸ்கிருதம் (D) மலையாளம்

(E) விடை தெரியவில்லை

The Pallavas gave importance to

- (A) Tamil (B) Telugu  
(C) Sanskrit (D) Malayalam

(E) Answer not known

198. எந்த தமிழ் இலக்கியத்தில் “போரும் காதலும்” விவரிக்கப்பட்டுள்ளது ?

- (A) சிலப்பதிகாரம் மற்றும் மணிமேகலை  
(B) எட்டுத்தொகை மற்றும் பத்துப்பாட்டு  
(C) பிங்கலநிகண்டு மற்றும் யாப்பெருங்கலம்  
(D) A மற்றும் C

(E) விடை தெரியவில்லை

What are the Tamil works that mention war and love ?

- (A) Silapadhikaram and Manimekalai (B) Ettuthogai and Pathupattu  
(C) Pingala Nigandu and Yapperumkalam (D) both A and C

(E) Answer not known

199. பொருத்துக.

- |    |          |    |              |
|----|----------|----|--------------|
| a. | பாரி     | 1. | குதிரை மலை   |
| b. | ஆய்      | 2. | பரம்பு மலை   |
| c. | அதியமான் | 3. | பொதிகை மலை   |
| d. | வேடர்    | 4. | குறிஞ்சி மலை |

- |     |   |   |   |   |
|-----|---|---|---|---|
|     | a | b | c | d |
| (A) | 1 | 4 | 2 | 3 |
| (B) | 1 | 3 | 2 | 4 |
| (C) | 2 | 3 | 1 | 4 |
| (D) | 1 | 2 | 3 | 4 |

(E) விடை தெரியவில்லை

Match

- |    |           |    |                |
|----|-----------|----|----------------|
| a. | Paari     | 1. | Kudhirai hills |
| b. | Aay       | 2. | Parambu hills  |
| c. | Adhiyaman | 3. | Podiyil hills  |
| d. | Vedar     | 4. | Kurinji hills  |

- |     |   |   |   |   |
|-----|---|---|---|---|
|     | a | b | c | d |
| (A) | 1 | 4 | 2 | 3 |
| (B) | 1 | 3 | 2 | 4 |
| (C) | 2 | 3 | 1 | 4 |
| (D) | 1 | 2 | 3 | 4 |

(E) Answer not known

200. தவறான விடையைத் தேர்ந்தெடு.

- i. அழகான, சிற்ப வேலைப்பாடுகளுடன் கூடிய பிரம்மாண்டமான சைவ கோவில்களை பாண்டியர்கள் கட்டினர்.
- ii. சங்க கால மன்னர்கள் நிலையான படை அமைப்பு பெற்றிருக்கவில்லை
- iii. பேரரசு காலத்தில் கடற்படையுடன் கூடிய வலிமையான, நிலையான படை உருவாக்கப்பட்டது.
- iv. சோழர்களின் காலம் 'மகா சபையின் பொற்காலம்' எனப்பட்டது.

- |               |                 |
|---------------|-----------------|
| (A) ii, iii   | (B) i, ii, iii  |
| (C) i மட்டும் | (D) ii, iii, iv |

(E) விடை தெரியவில்லை

Chosse the wrong statement.

- i. The Pandyas were ardent saivites who built magnificent temples for Siva
- ii. The sangam age kings had no standing army
- iii. The age of tamil empires had a powerful standing army including naval units
- iv. The Chola age is known as the Golden age of the Mahasabhas.

- |             |                 |
|-------------|-----------------|
| (A) ii, iii | (B) i, ii, iii  |
| (C) only i  | (D) ii, iii, iv |

(E) Answer not known



ஆட்சித்தமிழ்  
ஐ.ஏ.எஸ் அகாடமி

Register  
Number

--	--	--	--	--	--	--	--	--	--

2022

GENERAL TAMIL AND GENERAL KNOWLEDGE  
(Model Question Paper)

Duration : Three Hours]

[Total Marks : 300

Read the following instructions carefully before you begin to answer the questions.

IMPORTANT INSTRUCTIONS

1. You will be supplied with this question booklet 15 minutes prior to the commencement of the examination.
2. This question booklet contains 200 questions.
3. Part -B of answer sheet of the candidates will not be avaluated, if the candidate does not secure minimum qualifying mark (40% - i.e. 60 marks) in Part - A. For Part - A qualified candiates, marks obtained in Part-B only will be considered for ranking list.
4. Before answering the questions, you shall check whether all the questions are printed serially and ensure that there are no blank pages in the question booklet. If any defect is noticed in the question booklet, it shall be reported to the invigilator within the first 10 minutes and get it replaced with a complete question booklet. If the defect is reported after the commencement of the examination, it will not be replaced.
5. Answer all the questions. All the questions carry equal marks,
6. You must write your register number in the space provided on the top right side of this page. Do not write anything else on the question booklet.
7. An answer sheet will be supplied to you separately by the room invigilator to shade the answers. Instructions regarding filling of answers etc., which are to be followed mandatorily, are provided in the answer sheet and in the memorandum of admission (Hall Ticket).
8. You shall write and shade your question booklet number in the space provided on page one of the answer sheet with BLACK INK BALL POINT PEN. If you do not shade correctly or fail to shade the question booklet number, your answer sheet will be invalidated.
9. Each question comprises of five responses (answers) : i.e. (A), (B), (C), (D) and (E). You have to select ONLY ONE correct answer from (A) or (B) or (C) or (D) and shade the same in your answer sheet. If you feel that there are more than one correct answer, shade the one which you consider the best. If you do not know the answer, you have to mandatorily shade (E). In any case, choose ONLY ONE answer for each question. If you shade more than one answer for a question, it will be treated as a wrong answer even if one of the given answers happens to be correct.
10. You should not remove or tear off any sheet from this question booklet. You are not allowed to take this question booklet and the answer sheet out of the examination room during the time of the examination. After the examination, you must hand over your answer sheet to the invigilator. You are allowed to take the question booklet with you only after the examination is over.
11. You should not make any marking in the question booklet except in the sheets before the last page of the question booklet, which can be used for rough work. This should be strictly adhered to.
12. Question in Sl.No. 101 to 200 (Part-B) the English version is final
13. Failure to comply with any of the above instructions will render you liable for such action as the Commission may decide at their discretion.