

SPACE FOR ROUGH WORK



1. மனோன்மணியத்தை இயற்றியவர் யார்?

(A) சுந்தரம் பிள்ளை	(B) சுந்தர முனிவர்
(C) சுந்தரர்	(D) சுந்தர மூர்த்தி
(E) விடை தெரியவில்லை	
2. 'சூரிய ஒளி பெறாத செடியும், பகுத்தறிவு ஒளி பெறாத சமுதாயமும் வளர்ச்சி அடையாது' என உணர்ந்தவர்

(A) பாரதி	(B) சுரதா
(C) பாரதிதாசன்	(D) கவிமணி
(E) விடை தெரியவில்லை	
3. 'ஏழையின் குடிசையில் அடுப்பும் விளக்கும் தவிர எல்லாமே எரிகின்றன' - இதனை பாடிய கவிஞர் யார்?

(A) ந.பிச்சமூர்த்தி	(B) வல்லிக்கண்ணன்
(C) புதுமைப்பித்தன்	(D) சி.சு.செல்லப்பா
(E) விடை தெரியவில்லை	
4. "இமயம் எங்கள் காலடியில்" என்னும் கவிதைத் தொகுப்பு நூல் யாருடையது?

(A) சாலினி இளந்திரையன்	(B) ஞானக் கூத்தன்
(C) ஆலந்தூர் மோகனரங்கன்	(D) சாலை இளந்திரையன்
(E) விடை தெரியவில்லை	
5. எழுத்தாளர் ஜெயகாந்தன் பெற்ற உயரிய விருது எது?

(A) பத்மபூஷண்	(B) பத்மவிபூஷண்
(C) ஞானபீட விருது	(D) பத்ம பூநீ
(E) விடை தெரியவில்லை	
6. சுவீடன் நாட்டின் பேர் லாகர்குவிஸ்ட் என்னும் சிறுகதைகளைத் தமிழில் மொழி பெயர்த்தவர் யார்?

(A) ஜி.யு.போப்	(B) ஜி.குப்புசாமி
(C) லெட்சுமி	(D) ப. ஜெயப்பிரகாசு
(E) விடை தெரியவில்லை	
7. "தமிழ்ப் பல்கலைக் கழகத்தின் தமிழ் அன்னை விருது" பெற்ற பெருமைக்குரியவர் யார்?

(A) கவிக்கோ அப்துல் ரகுமான்	(B) வாணிதாசன்
(C) கண்ணதாசன்	(D) வண்ணதாசன்
(E) விடை தெரியவில்லை	
8. ஆறுமுக நாவலரை "வசன நடை கைவந்த வல்லாளர்" எனப் பாராட்டியவர் யார்?

(A) மறைமலை அடிகள்	(B) திரு.வி.க
(C) பரிதிமாற் கலைஞர்	(D) குணங்குடி மஸ்தான் சாகிபு
(E) விடை தெரியவில்லை	

9. “இரட்டைக் கிளவி போல் இணைந்தே வாழுங்கள் பிரிந்தால் பொருளில்லை....” என்று உவமை மரபில் புதுமைகளைச் சேர்த்தவர் யார்?
 (A) சுப்புரத்தின தாசன் (B) பாரதிதாசன்
 (C) வாணிதாசன் (D) கண்ணதாசன்
 (E) விடை தெரியவில்லை
10. “மரபுக் கவிதையில் வேர் பார்த்தவர், புதுக்கவிதையில் மலர் பார்த்தவர் “ என்று பாராட்டப்படுபவர்
 (A) முடியரசன் (B) வாணிதாசன்
 (C) சுரதா (D) அப்துல் ரகுமான்
 (E) விடை தெரியவில்லை
11. “சிறுகதையின்தந்தை” யார்?
 (A) வ.வே.சு.ஐயர் (B) வீரமாமுனிவர்
 (C) புதுமைப்பித்தன் (D) ஜெயகாந்தன்
 (E) விடை தெரியவில்லை
12. பாரதசக்தி மகாகாவியம் என்ற நூலை எழுதியவர் யார்?
 (A) புலவர் குழந்தை (B) தமிழ்ஒளி
 (C) சுத்தானந்த பாரதியார் (D) பெருஞ்சித்திரனார்
 (E) விடை தெரியவில்லை
13. பொருத்துக:
 (a) Camphor 1. பொய்க்கதை
 (b) Chide 2. கலவரம்
 (c) Chaos 3. சலசலப்பு
 (d) Canard 4. கற்பூரம்
 (a) (b) (c) (d)
 (A) 1 4 2 3
 (B) 3 1 4 2
 (C) 2 4 1 3
 (D) 4 3 2 1
 (E) விடை தெரியவில்லை
14. திராவிட வேதம் என்பது
 (A) திருவாசகம் (B) நாலாயிரத் திவ்யபிரபந்தம்
 (C) திருவெம்பாவை (D) நாச்சியார் திருமொழி
 (E) விடை தெரியவில்லை
15. பாவேந்தர் என அழைக்கப்படுபவர் யார்?
 (A) பாரதியார் (B) வாணிதாசன்
 (C) சுப்புரத்தினதாசன் (D) பாரதிதாசன்
 (E) விடை தெரியவில்லை

16. பத்துப்பாட்டு நூல்களுள் 583 அடிகளைக் கொண்ட நூல் எது?
 (A) மலைபடுகடாம்
 (B) பட்டினப்பாலை
 (C) மதுரைக்காஞ்சி
 (D) பெரும்பாணாற்றுப்படை
 (E) விடை தெரியவில்லை
17. நாலடியாரில் வரும் காமத்துப்பால் எத்தனை இயல்களைக் கொண்டது?
 (A) நான்கு (B) மூன்று
 (C) ஏழு (B) பதினெட்டு
 (E) விடை தெரியவில்லை
18. பொருத்துக:
 (a) உதயண குமாரகாவியம் 1. பதுமாவதி
 (b) நீலகேசி 2. சுயம்பிரபை
 (c) யசோதரகாவியம் 3. காமலேகை
 (d) சூளாமணி 4. அமிழ்தமதி
- | | (a) | (b) | (c) | (d) |
|-----|-----|-----|-----|-----|
| (A) | 4 | 3 | 1 | 2 |
| (B) | 2 | 3 | 1 | 4 |
| (C) | 1 | 3 | 4 | 2 |
| (D) | 2 | 3 | 4 | 1 |
- (E) விடை தெரியவில்லை
19. “புலனழுக்கற்ற அந்தணாளன்” - எனப் பாராட்டப்படுபவர் யார்?
 (A) ஓதலாந்தையார் (B) நக்கீரர்
 (C) பரணர் (D) கபிலர்
 (E) விடை தெரியவில்லை
20. ஐங்குறுநூற்றைத் தொகுத்தவர் யார்?
 (A) உருத்திரசன்மர்
 (B) உக்கிரப் பெருவழுதி
 (C) பூரிக்கோ
 (D) புலத்துறை முற்றிய கூடலூர் கிழார்
 (E) விடை தெரியவில்லை
21. திருக்குறள் எத்தனை மொழிகளில் மொழிபெயர்க்கப்பட்டுள்ளது?
 (A) 100 (B) 105
 (C) 107 (D) 110
 (E) விடை தெரியவில்லை

22. உமறுப்புலவரின் காலம்
(A) கி.பி. இரண்டாம் நூற்றாண்டு
(B) கி.பி. பதினேழாம் நூற்றாண்டு
(C) கி.பி. ஐந்தாம் நூற்றாண்டு
(D) கி.பி. பதின்மூன்றாம் நூற்றாண்டு
(E) விடை தெரியவில்லை
23. மாதாணுபங்கி என அழைக்கப்படுபவர் யார்?
(A) கம்பர் (B) பாரதியார்
(C) வீரமாமுனிவர் (D) திருவள்ளுவர்
(E) விடை தெரியவில்லை
24. இலக்கண நூல்களுள் மிகப் பழமையானது எது?
(A) யாப்பருங்கலக் காரிகை (B) தண்டியலங்காரம்
(C) தொல்காப்பியம் (D) நன்னூல்
(E) விடை தெரியவில்லை
25. நாயக்கர் காலத்தில் சிறந்து விளங்கிய சிற்பக் கலை எது?
(A) கற்சிற்பம் (B) செப்புத் திருமேனி
(C) மரச் சிற்பம் (D) தந்தச் சிற்பக் கலை
(E) விடை தெரியவில்லை
26. “தத்தும் பாய்புனல் முத்தம் அடைக்கும்
சாலை வாய்க்கன்னல் ஆலை உடைக்கும்”
இப்பாடல் வரிகள் இடம் பெற்றுள்ள இலக்கியம்
(A) கலிங்கத்துப் பரணி (B) தமிழ் விடு தூது
(C) குற்றாலக் குறவஞ்சி (D) முக்கூடற்பள்ளு
(E) விடை தெரியவில்லை
27. “மதியிலி அரசர்நின் மலரடி பணிகிலர்
வானகம் ஆள்வாரே” இப்பாடல் வரிகள் இடம்பெற்றுள்ள நூல் எது?
(A) நற்றிணை (B) அகநானூறு
(C) புறநானூறு (D) நந்திக் கலம்பகம்
(E) விடை தெரியவில்லை
28. அரியதாம் உவப்ப உள்ளத் தன்பினால் அமைந்த காதல்
தெரிதரக் கொணர்ந்த என்றால் அமிழ்தினும் சீர்த்தவன்றே
இவ்வடிகள் இடம் பெறும் நூல்
(A) பெரிய புராணம் (B) சிலப்பதிகாரம்
(C) கம்பராமாயணம் (D) தேவாரம்
(E) விடை தெரியவில்லை

29. பொருத்துக:
- | | |
|--|------------------|
| (a) வினையே ஆடர்வர்க்குயிர் | 1) தாரா பாரதி |
| (b) முந்நீர் வழக்கம் மகனீஉவோடு டில்லை | 2) குறுந்தொகை |
| (c) உடம்பை வளர்த்தேன் உயிர் வளர்த்தேனே | 3) தொல்காப்பியர் |
| (d) விரல்கள் பத்தும் மூலதனம் | 4) திருமூலர் |
- | | | | |
|-------|-----|-----|-----|
| (a) | (b) | (c) | (d) |
| (A) 4 | 3 | 2 | 1 |
| (B) 2 | 3 | 4 | 1 |
| (C) 2 | 4 | 3 | 1 |
| (D) 3 | 2 | 1 | 4 |
- (E) விடை தெரியவில்லை
30. கீழ்க்கண்ட வாக்கியங்களை கவனி :
- கூற்று (A) : புறப்பொருள் வெண்பாமாலை 361 நூற்பாக்களை உடையது
காரணம் (R) : 'கல்தோன்றி மண்தோன்றாக் காலத்து' என்ற வரி புறப்பொருள் வெண்பா மாலையில் அமைந்துள்ளது.
- கீழே குறிப்பிட்டுள்ள குறியீட்டில் சரியான விடையைத் தேர்ந்தெடு :
- (A) (A) மற்றும் (R) இரண்டும் சரி, மேலும் (R) என்பது (A)விற்கு சரியான விளக்கம்
(B) (A) மற்றும் (R) இரண்டும் சரி, மேலும் (R) என்பது (A)விற்கு சரியான விளக்கமல்ல
(C) (A) சரி, ஆனால் (R) தவறு
(D) (A) தவறு, ஆனால் (R) சரி
(E) விடை தெரியவில்லை
31. "மக்களும் தேவரும் பிரமரும் நரகரும் தொக்க விலங்கும் பேயும் என்றே" இச்செய்யுளடிகள் இடம் பெற்ற நூல்
- (A) சிலப்பதிகாரம் (B) குண்டலகேசி
(C) மணிமேகலை (D) வளையாபதி
(E) விடை தெரியவில்லை
32. திருத்தொண்டர்மாக்கதை, திருத்தொண்டர் புராணம் என்றழைக்கப்படும் நூல் எது?
- (A) பெரியபுராணம்
(B) திருவிளையாடற்புராணம்
(C) கந்தபுராணம்
(D) திருத்தொண்டர் திருவந்தாதி
(E) விடை தெரியவில்லை
33. பின்வரும் இலக்கணக் குறிப்புக்குரிய பொருந்தாச் சொல்லைத் தேர்க உருவகம்
- (A) பாதமலர் (B) அடிமலர்
(C) தேன் தமிழ் (D) மொழியமுது
(E) விடை தெரியவில்லை

34. 'முற்றியலுகரசு சொல்' - யாது ?
(A) கோங்கு (B) பாலாறு
(C) மார்பு (D) கதவு
(E) விடை தெரியவில்லை
35. தனிச்சொல் இன்றி நான்கடியாய் வரும் வெண்பா
(A) குறள் வெண்பா (B) நேரிசை வெண்பா
(C) இன்னிசை வெண்பா (D) பஃறொடை வெண்பா
(E) விடை தெரியவில்லை
36. 'அழக்கொண்ட எல்லாம் அழப்போம், இழப்பினும்' இந்த அடியில் அமைந்துள்ள எதுகையைத் தேர்க.
(A) கூழை எதுகை (B) மேற்கதுவாய் எதுகை
(C) கீழ்க்கதுவாய் எதுகை (D) பொழிப்பு எதுகை
(E) விடை தெரியவில்லை
37. சிற்றோடை - பிரித்தெழுதுக.
(A) சிற்று + ஓடை (B) சிறுமை + ஓடை
(C) சிறு + ஓடை (D) சிற் + ஓடை
(E) விடை தெரியவில்லை
38. மருதத்திணைக்குப் பொருந்தாதது
(A) நாரை (B) காட்டுக்கோழி
(C) நீர்க்கோழி (D) அன்னம்
(E) விடை தெரியவில்லை
39. இவற்றுள் எது அளவை ஆகுபெயரன்று?
(A) உண்பது நாழி உடுப்பது நான்கு முழம்
(B) இரண்டு லிட்டர் கொடு
(C) மூன்று கிலோ அரிசி கொடு
(D) ஐந்து மீட்டர் கொடு
(E) விடை தெரியவில்லை
40. மயங்கொலிப் பிழையற்ற வாக்கியம் எது?
(A) பொருத்தருளுதல் வேண்டும் அரசே !
(B) பொறுத்தருளுதல் வேண்டும் அறசே !
(C) பொறுத்தருளுதல் வேண்டும் அரசே !
(D) பொறுத்தருமுதல் வேண்டும் அரைசே !
(E) விடை தெரியவில்லை

41. பொருட்டன்று - பிரித்து எழுதுக. உரிய விடையைக் குறிப்பிடுக.
 (A) பொருட் + அன்று (B) பொரு + அன்று
 (C) பொருட்டு + அன்று (D) பொருட் + டன்று
 (E) விடை தெரியவில்லை
42. வழுஉச் சொல் இல்லாத தொடரை எழுதுக.
 (A) சென்னைக்கு அருகாமையில் இருப்பது மதுரை அல்ல
 (B) சென்னைக்கு பக்கத்தில் இருப்பது மதுரை இல்லை
 (C) சென்னைக்கு அருகாமையில் இருப்பது மதுரை அல்லை
 (D) சென்னைக்கு அருகில் இருப்பது மதுரை அன்று
 (E) விடை தெரியவில்லை
43. நேற்று மழை பெய்தது; அதனால், ஏரிகுளங்கள் நிரம்பின எவ்வகை வாக்கியம் எனக் கண்டறிக.
 (A) தொடர் வாக்கியம் (B) கலவை வாக்கியம்
 (C) கட்டளை வாக்கியம் (D) தனிநிலை வாக்கியம்
 (E) விடை தெரியவில்லை
44. பொருத்தமான விடை : 'மேழி' - என்பதன் பொருள்
 (A) கலப்பை (B) மோதிரம்
 (C) உழவர் (D) மேகம்
 (E) விடை தெரியவில்லை
45. பட்டியல் Iல் உள்ள நூல்களை பட்டியல் IIல் உள்ள நூலாசிரியர்களுடன் பொருத்தி, கீழே கொடுக்கப்பட்டுள்ள குறியீடுகளைக் கொண்டு சரியான விடையைத் தேர்ந்தெடு :

பட்டியல் I	பட்டியல் II
நூல்	நூலாசிரியர்
1. பழமொழி	அ. வல்லூர் தேவராசபிள்ளை
2. நன்னெறி	ஆ. குமரகுருபரர்
3. மீனாட்சியம்மை குறம்	இ. மூன்றுரையரையனார்
4. குசேலோபாக்கியானம்	ஈ. சிவப்பிரகாசர்

குறியீடுகள் :

1	2	3	4
(a) ஆ	ஈ	அ	இ
(b) ஈ	அ	இ	ஆ
(c) இ	அ	ஆ	ஈ
(d) இ	ஈ	ஆ	அ

 (E) விடை தெரியவில்லை

46. பொருந்தாத தொடரைக் கண்டறிக.
 (A) ஒறுத்தார் - பொறுத்தார் (B) அஞ்சாமை - துஞ்சாமை
 (C) அறிவுடையார் - அறிவிலார் (D) வையார் - வைப்பர்
 (E) விடை தெரியவில்லை

47. “தித்திக்குந் தெள்ளமுதாய்த் தெள்ளமுதின்”
கீழ்க்காணும் விடைகளுள் சரியான விடை எது?
(A) எதுகை மட்டும் வந்துள்ளது
(B) மோனை மட்டும் வந்துள்ளது
(C) எதுகை, மோனை, இயைபு வந்துள்ளன
(D) எதுகையும், மோனையும் வந்துள்ளன
(E) விடை தெரியவில்லை
48. அணி இலக்கணம் கூறும் நூல்
(A) யாப்பருங்கலக்காரிகை (B) பன்னிருபாட்டியல்
(C) நவநீதப்பாட்டியல் (D) தண்டியலங்காரம்
(E) விடை தெரியவில்லை
49. காப்பிய இலக்கணத்தை முழுமையாக எடுத்துரைக்கும் நூல் எது?
(A) தண்டி அலங்காரம் (B) நன்னூல்
(C) யாப்பருங்கலம் (D) வீரசோழியம்
(E) விடை தெரியவில்லை
50. அரங்க அமைப்பு முறைகள் பற்றிய செய்திகள் எந்நூலில் இடம்பெற்றுள்ளன?
(A) சிலப்பதிகாரம் (B) சிறுபாணாற்றுப்படை
(C) மணிமேகலை (D) சீவகசிந்தாமணி
(E) விடை தெரியவில்லை
51. பூம்புகார், மதுரை, வஞ்சிமாநகர் பற்றிய வரலாற்றுச் செய்திகளையும், அக்காலச் சமுதாய அமைப்பு, ஆடல் வகைகள், இசைக் கருவிகள், கல்வி, வணிகம் பற்றிய குறிப்புகளையும், மூவேந்தர் ஆட்சிமுறை பற்றிய செய்திகளையும் கூறும் நூல்.....
(A) சிலப்பதிகாரம் (B) சீவகசிந்தாமணி
(C) மணிமேகலை (D) குண்டலகேசி
(E) விடை தெரியவில்லை
52. சொற்கவையும் பொருட்சுவையும் கொண்டு தமிழ்ப்பண்பாட்டோடு இயைந்து விளங்குவது.....
(A) பெருங்கதை (B) நீலகேசி
(C) சீவகசிந்தாமணி (D) கம்பராமாயணம்
(E) விடை தெரியவில்லை
53. நாச்சியார் திருமொழி, திருப்பாவை பாடிய ஆழ்வார் யார்?
(A) ஆண்டாள் (B) பெரியாழ்வார்
(C) மதுரகவியாழ்வார் (D) திருப்பாணாழ்வார்
(E) விடை தெரியவில்லை

54. புறப்பொருள் வெண்பாமாலையை இயற்றியவர் யார்?
 (A) ஐயனாரிதனார் (B) தொல்காப்பியர்
 (C) வீரமாமுனிவர் (D) வைத்தியநாத தேசிகர்
 (E) விடை தெரியவில்லை
55. எழுத்துக்கும் சொல்லுக்கும் இலக்கணம் கூறும் மற்றொரு நூல் எது?
 (A) தொல்காப்பியம் (B) நன்னூல்
 (C) நேமிநாதம் (D) வீரசோழியம்
 (E) விடை தெரியவில்லை
56. 'தொகுத்தல் விரித்தல் தொகைவிரி மொழிபெயர்த்து' - இந்நூற்பா இடம்பெற்றுள்ள நூல் எது?
 (A) தண்டி (B) நன்னூல்
 (C) தொல்காப்பியம் (D) நேமிநாதம்
 (E) விடை தெரியவில்லை
57. செம்மொழி நிறுவனம் சார்பில் பதினெட்டு பேர் மொழிபெயர்த்த நூல் எது?
 (A) தொல்காப்பியம் (B) சிலப்பதிகாரம்
 (C) இராமாயணம் (D) திருக்குறள்
 (E) விடை தெரியவில்லை
58. வால்மீகி இராமாயணத்திலும் மகாபாரதத்திலும் எந்த அரசர் பற்றிய குறிப்பு உள்ளது?
 (A) சேரர் (B) சோழர்
 (C) பாண்டியர் (D) பல்லவர்
 (E) விடை தெரியவில்லை
59. 'கலைஉணக் கிழிந்த முழவுமருள் பெரும்பழம்' என்ற பாடல் அடி இடம்பெற்றுள்ள நூல் எது?
 (A) புறநானூறு (B) மதுரைக்காஞ்சி
 (C) பொருநராற்றுப்படை (D) தொல்காப்பியம்
 (E) விடை தெரியவில்லை
60. 'போந்தை வேம்பே ஆரென வருவம் மாபெருந் தானையர் மலைந்த பூவும்' என்ற பாடல் அடி இடம்பெற்றுள்ள நூல் எது?
 (A) புறநானூறு (B) சிலப்பதிகாரம்
 (C) முத்தொள்ளாயிரம் (D) தொல்காப்பியம்
 (E) விடை தெரியவில்லை
61. "மரபு நிலை திரியின் பிறிது பிறிதாகும்" என்ற பாடல் அடியை இயற்றியவர் யார்?
 (A) தொல்காப்பியர் (B) திருவள்ளுவர்
 (C) இளங்கோவடிகள் (D) ஓளவையார்
 (E) விடை தெரியவில்லை

62. “செல்வத்துப் பயனே ஈதல்
துய்ப்பேம் எனினே தப்புந பலவே” என்ற பாடல் அடி இடம் பெற்றுள்ள நூல் எது?
A) புறநானூறு B) அகநானூறு
C) அறநெறிச்சாரம் D) பெரும்பாணாற்றுப்படை
(E) விடை தெரியவில்லை
63. மாளிகைகளில் பல சுண்ணாம்புக் கலவை (சுதைச் சிற்பங்கள்) இருந்ததை குறிப்பிடும் நூல் எது?
A) சிலப்பதிகாரம் B) மணிமேகலை
C) புறநானூறு D) தொல்காப்பியம்
(E) விடை தெரியவில்லை
64. மதுரையைச் சிறப்பித்துப் பாடியுள்ள பதினெண் மேற்கணக்கு நூல்களுள் முதன்மையானது எது?
A) பட்டினப்பாலை B) புறநானூறு
C) மதுரைக்காஞ்சி D) பரிபாடல்
(E) விடை தெரியவில்லை
65. ‘பாபம் செய்யாதிருமனமே’ என்ற பாடலை பாடியவர்?
A) தாயுமானவர் B) வள்ளலார்
C) கடுவெளிச்சித்தர் D) ஓளவையார்
(E) விடை தெரியவில்லை
66. வழங்குவதற்குப் பொருள் உள்ளதா? என்று கூடப் பார்க்காமல் கொடுக்கும் பிடவூர்கிழான் மகன் பெருஞ்சாத்தனை பாராட்டியவர் யார்?
(A) பெருந்தலைச் சாத்தனார் (B) நல்வேட்டனார்
(C) நக்கீரர் (D) ஓளவையார்
(E) விடை தெரியவில்லை
67. “சேயோன் மேய மைவரை உலகம்” என்ற பாடலடி இடம்பெற்றுள்ள நூல் எது?
(A) திருமுருகாற்றுப்படை (B) நன்னூல்
(C) சிலப்பதிகாரம் (D) தொல்காப்பியம்
(E) விடை தெரியவில்லை
68. மகாபாரதத்தை ‘பாண்டவர் பூமி’ என்ற பெயரில் புதுக்கவிதை வடிவில் காப்பியமாக்கியவர் யார்?
(A) கவிஞர் வாலி (B) வைரமுத்து
(C) கண்ணதாசன் (D) பாரதிதாசன்
(E) விடை தெரியவில்லை
69. ‘ஏணிப்படி’ என்ற புதினத்திற்கு கேந்திரிய சாகித்திய அகாடமியின் விருது யாருக்கு வழங்கப்பட்டது.
(A) தகழி சிவசங்கரன் (B) ப. சிவகாமி
(C) சாருநிவேதிதா (D) ஜெயகாந்தன்
(E) விடை தெரியவில்லை

70. தமிழ்நாட்டில் தெருக்கூத்துதை ஐ சுற்றியுள்ள பகுதிகளில் பிரகலாதன் கதையினைக் கூத்தாக நிகழ்த்துகின்றனர்
 (A) சேலம்
 (B) காரைக்குடி
 (C) வேலூர்
 (D) திருவள்ளூரை சுற்றியுள்ள பகுதிகளில்
 (E) விடை தெரியவில்லை
71. இயேசு காவியம் எழுதிய கவியரசு யார்?
 (A) முடியரசன் (B) பாரதிதாசன்
 (C) கண்ணதாசன் (D) வாணிதாசன்
 (E) விடை தெரியவில்லை
72. உரைநடையும் கவிதையும் இணைந்து யாப்புக்கட்டுகளுக்கு அப்பாற்பட்டு உருவாக்கப்படும் கவிதை வடிவம் யாது?
 (A) புதுக்கவிதை (B) மரபு கவிதை
 (C) வசனக்கவிதை (D) ஹைக்கூ
 (E) விடை தெரியவில்லை
73. வண்ணதாசனின் இயற்பெயர் யாது?
 (A) மோகன சுந்தரம் (B) சியாம் சுந்தரம்
 (C) ராம சுந்தரம் (D) கல்யாண சுந்தரம்
 (E) விடை தெரியவில்லை
74. தம் கவிதைகளில் பெண்கல்வி, கைம்பெண் மறுமணம், பொதுவுடைமை, பகுத்தறிவு முதலான புரட்சிகரமான கருத்துக்களைப் பாடியவர் யார்?
 A) பாரதிதாசன் B) பாரதியார்
 C) பாவலரேறு D) பெரியார்
 (E) விடை தெரியவில்லை
75. 1937ஆம் ஆண்டு சென்னையில் நடந்த இலக்கிய மாநாட்டிற்கு வரவேற்புக்குழு தலைவராக இருந்தவர் யார்?
 A) இராஜாஜி B) பாரதியார்
 C) இராமலிங்கனார் D) உ.வே.சாமிநாதர்
 (E) விடை தெரியவில்லை
76. பாரதியார் தமிழில் முதன்முதலில் வெளியிட்ட கேலிச்சித்திரம் இடம்பெற்றுள்ள இதழ் எது?
 A) சுதேசமித்திரன் B) விஜயா
 C) இந்தியா D) விடுதலை
 (E) விடை தெரியவில்லை

77. 'புதிய அறம் பாட வந்த அறிஞன்' என்று போற்றப்படுபவர் யார்?
 A) முடியரசன் B) வாணிதாசன்
 C) பாரதியார் D) பாரதிதாசன்
 (E) விடை தெரியவில்லை
78. 'சந்திரிகையின் கதை' என்ற உரைநடை நூலை எழுதியவர் யார்?
 A) பாரதிதாசன் B) பாரதியார்
 C) சுரதா D) வாணிதாசன்
 (E) விடை தெரியவில்லை
79. 'என் இனிய எந்திரா' என்ற நூலை இயற்றியவர் யார்?
 A) வாணிதாசன் B) வண்ணதாசன்
 C) சுஜாதா D) வைரமுத்து
 (E) விடை தெரியவில்லை
80. பாரதியாரின் வழித்தோன்றலாகவும் பாரதிதாசனின் மாணவராகவும் விளங்கியவர்?
 A) சுரதா B) முடியரசன்
 C) வாணிதாசன் D) தமிழ் ஒளி
 (E) விடை தெரியவில்லை
81. 'ஊரறாத ஊற்றிலும் உட்புகுந்தேன் மணல் ஓடைகள் பொங்கிட ஓடிவந்தேன்'. என்று பாடியவர் யார்?
 A) பாரதியார் B) பாரதிதாசன்
 C) கவிமணி D) வாணிதாசன்
 (E) விடை தெரியவில்லை
82. 'மண்டைச் சுரப்பை உலகு தொழும் மனக்குகையில் சிறுத்தை எழும்!' என்று பாரதிதாசன் யாரைப் பாடியுள்ளார்?
 A) பாரதியார் B) அண்ணா
 C) பெரியார் D) திரு.வி.க
 (E) விடை தெரியவில்லை
83. 'ஒரு ரூபாய்' என்ற நாடகத்தின் ஆசிரியர் யார்?
 (A) ஆதவன் (B) ஜெயந்தன்
 (C) இந்திரா பார்த்தசாரதி (D) அகிலன்
 (E) விடை தெரியவில்லை
84. சதுரகராதியின் சொற்பொருள் விளக்க வரிசைமுறை எது?
 (A) பெயர், பொருள், தொடை, தொகை
 (B) பெயர், தொடை, தொகை, பொருள்
 (C) பெயர், பொருள், தொகை, தொடை
 (D) பெயர், தொடை, பொருள், தொகை
 (E) விடை தெரியவில்லை

85. பகைவரது ஆநிரை கவர்தல் திணை
 (A) வெட்சி (B) உழிஞை
 (C) வாகை (D) நொச்சி
 (E) விடை தெரியவில்லை
86. 'ஒரு காவிரியைப் போல' என்ற நூலின் ஆசிரியர் யார்?
 (A) லஷ்மி
 (B) தோப்பில் முகமது மீரான்
 (C) சு. சமுத்திரம்
 (D) கி. ராஜநாராயணன்
 (E) விடை தெரியவில்லை
87. உடம்பும் உயிரும் - இலக்கணக் குறிப்பு தருக:-
 (A) முற்றும்மை (B) உம்மைத்தொகை
 (C) எண்ணும்மை (D) சிணையாகுபெயர்
 (E) விடை தெரியவில்லை
88. இலக்கண குறிப்பு தருக:-
 விட்டுவிட்டு
 (A) அடுக்குத் தொடர் (B) இரட்டைக்கிளவி
 (C) வினையெச்சம் (D) இடைநிலை
 (E) விடை தெரியவில்லை
89. எத்தனை நூல்கள் வேண்டும்? என்ன தொடர் என்பதை கூறுக:
 (A) செய்தித் தொடர் (B) கட்டளைத் தொடர்
 (C) வினாத் தொடர் (D) உணர்ச்சித் தொடர்
 (E) விடை தெரியவில்லை
90. "நோக்கல்" என்பதன் இலக்கண குறிப்பு யாது?
 (A) இடப்பெயர் (B) பொருட்பெயர்
 (C) தொழிற்பெயர் (D) சிணைப்பெயர்
 (E) விடை தெரியவில்லை
91. "உனக்குப் பாட்டுகள் பாடுகிறோம்
 உனக்குப் புகழ்ச்சிகள் கூறுகிறோம்" - என்ற பாரதியின் இவ்வடிகளில் உள்ள நயங்கள் யாவை?
 (A) உருவகம், எதுகை (B) மோனை, எதுகை
 (C) முரண், இயைபு (D) உவமை, எதுகை
 (E) விடை தெரியவில்லை
92. இலக்கியங்களில் உவமையை விட எது உணர்வுகளைத் தூண்டி எழுப்புவதில் வெற்றி பெறுகிறது?
 (A) உவம உருபு (B) உருவகம்
 (C) உவமைத்தொகை (D) உம்மைத்தொடர்
 (E) விடை தெரியவில்லை

93. விடை எத்தனை வகைப்படும்?
 (A) எட்டு (B) ஆறு
 (C) நான்கு (D) இரண்டு
 (E) விடை தெரியவில்லை
94. இலைக்கு வேறு பெயர் என்ன?
 (A) தழை (B) தலை
 (C) இறகு (D) B மற்றும் C சரி
 (E) விடை தெரியவில்லை
95. பொருத்துக
 (a) நெடில் தொடர்க் குற்றியலுகரம் 1. அரசு
 (b) உயிர்த் தொடர்க் குற்றியலுகரம் 2. மஞ்சு
 (c) மென் தொடர்க் குற்றியலுகரம் 3. சால்பு
 (d) இடைத் தொடர்க் குற்றியலுகரம் 4. மாசு
 (a) (b) (c) (d)
 (A) 4 3 2 1
 (B) 4 1 2 3
 (C) 2 3 4 1
 (D) 1 4 3 2
 (E) விடை தெரியவில்லை
96. தவறானக் கூற்றைத் கண்டறிக
 (A) வேற்றுநிலை மெய்மயக்கத்தில் ய,ர, ழ முன்னர் மெல்லினம் மிகும்
 (B) உயிரெழுத்தை இறுதியில் கொண்ட மரப்பெயர்களுக்கு முன்னர் மெல்லினம் மிகும்.
 (C) புளி என்னும் சுவைப் பெயர் முன்னர் வல்லெழுத்து மட்டுமன்றி மெல்லினம் மிகும்
 (D) யகர ஈற்றுச் சொற்கள் முன் வல்லினம் மிகும்
 (E) விடை தெரியவில்லை
97. செய்யுளில் ஓசை குறையும்போது அதனை நிறைவு செய்ய, நெட்டெழுத்துகள் அளபெடுத்தலை _____ எனப்படும்
 (A) செய்யுளிசை அளபெடை (B) இன்னிசை அளபெடை
 (C) உயிரளபெடை (D) ஒற்றளபெடை
 (E) விடை தெரியவில்லை
98. ஒரு சொல்லின் அடிச்சொல் _____ எனப்படும்.
 (A) பகுதி (அ) முதனிலை (B) பகுதி (அ) பயனிலை
 (C) பகுதி (அ) விகுதி (D) பகுதி (அ) விகாரம்
 (E) விடை தெரியவில்லை

99. இரண்டாம் எழுத்து ஒன்றிவரத் தொடுப்பது _____
 A) மோனை B) எதுகை
 C) இயைபு D) அந்தாதி
 (E) விடை தெரியவில்லை
100. 'கருங்குவளை' என்னும் சொல் _____ ஆகும்.
 A) வினைத்தொகை B) பண்புத்தொகை
 C) உவமைத் தொகை. D) உம்மைத் தொகை
 (E) விடை தெரியவில்லை
101. இந்திய அரசியலமைப்பு கூட்டத்தில் அடிப்படை உரிமைகள் எதன் கீழ் தொடுக்கப்பட்டுள்ளது?
 (A) ஆறு தலைப்புகளின் (B) ஏழு தலைப்புகளின்
 (C) ஐந்து தலைப்புகளின் (D) எட்டு தலைப்புகளின்
 (E) விடை தெரியவில்லை
 The fundamental rights in the constitution are grouped under
 (A) six heads (B) seven heads
 (C) five heads (D) eight heads
 (E) Answer not known
102. கூற்றுகளை ஆராய்க: கூற்று I - மரணிக்கூடிய உரிமை அடிப்படை உரிமையின் பகுதியாகும் (ஷரத்து 21)
 கூற்று II - மரணிக்கூடிய உரிமை என்பது தற்கொலை செய்துகொள்ள கூடிய உரிமையையும் உள்ளடக்கும்
 (A) இரண்டு கூற்றுகளும் சரி (B) இரண்டு கூற்றுகளும் தவறு
 (C) கூற்று I சரி கூற்று II தவறு (D) கூற்று II சரி கூற்று I தவறு
 (E) விடை தெரியவில்லை
 Consider the statements
 Statement I - Right to Die is a part of the Fundamental Right (Article 21)
 Statement II - Right to Die including Right to Commit Suicide
 (A) Both Statement are correct
 (B) Both statements are wrong
 (C) Statement I correct but statement II is wrong
 (D) Statement II correct but statement I is wrong
 (E) Answer not known
103. மைய புலன் விசாரணை அமைப்பு (சி.பி.ஐ) இந்திய அரசின், உள்துறை அமைச்சகத்தால் 1963, ஏப்ரல் 1 ஆம் தேதி அன்று தமது செயலாக்க ஆணை 4/31/61-T மூலம் _____ சட்டத்தின் கீழ் உருவாக்கியது.
 (A) டெல்லி சிறப்பு காவல் அமைப்பு சட்டம் - 1946
 (B) இந்திய அரசு சட்டம் - 1935
 (C) இந்திய தண்டனைச் சட்டம் - 1860
 (D) குற்றவியல் நடைமுறைச் சட்டம் - 1973
 (E) விடை தெரியவில்லை

The Central Bureau of investigation (CBI) was established vide resolution No. 4/31/61-T, dated 01.04.1963 of ministry of Home Affairs, Government of India under the _____ Act.

- (A) Delhi Special Police Establishment Act - 1946
(B) Government of India Act - 1935
(C) Indian Penal Code - 1860
(D) Criminal Procedure Code - 1973
(E) Answer not known

104. இந்திய அரசமைப்பில் உறுப்பு 21A எதை பற்றி கூறுகிறது?

- (A) சமநிலை உரிமை (B) தண்ணீர் உரிமை
(C) கல்வி உரிமை (D) சுதந்திர உரிமை
(E) விடை தெரியவில்லை

Article 21A of the Indian Constitution refers to

- (A) Right to Equality (B) Right to Water
(C) Right to Education (D) Right to Freedom
(E) Answer not known

105. அரசின் வழிகாட்டு நெறிமுறைகள் — என்ற அரசியலமைப்பிலிருந்து பெறப்பட்டிருக்கிறது.

- (A) இங்கிலாந்து (B) ஐரிஷ்
(C) பிரான்சு (D) கனடா
(E) விடை தெரியவில்லை

Directive principles of State Policy is derived from ____ constitution.

- (A) British (B) Irish
(C) French (D) Canadian
(E) Answer not known

106. தமிழக அரசு, தமக்குள்ள அதிகாரத்தை கொண்டு 1993 வருட மனித உரிமைகள் பாதுகாப்பு சட்டம் பிரிவு 21ன் கீழ் மாநில மனித உரிமைகள் ஆணையத்தை அமைத்த ஆண்டு

- (A) 1997 (B) 2001
(C) 2006 (D) 1991
(E) விடை தெரியவில்லை

The Government of Tamilnadu, exercising its Power Under Section 21 of the protection of Human Right Act 1993, constituted the State Human Rights Commission on ____ year.

- (A) 1997 (B) 2001
(C) 2006 (D) 1991
(E) Answer not known

107. கீழ் வருபவைகளில் எந்த இந்திய அரசியலமைப்புச் சட்டப்பிரிவு மாவட்ட திட்டக்குழுவினைப் பற்றி விவரிக்கின்றது?

- (A) 243 ZB (B) 243 ZC
(C) 243 ZD (D) 243 ZE
(E) விடை தெரியவில்லை

Which one of the following Articles of the Constitution of India deals with the Committee for district planning?

- (A) 243 ZB (B) 243 ZC
(C) 243 ZD (D) 243 ZE
(E) Answer not known

108. கீழ்வருவனவற்றை பொருத்தி சரியான விடையை தேர்வு செய்க.

- (a) விதி 370 1. சட்டப்பேரவை
(b) விதி 153 2. முதலமைச்சர்
(c) விதி 163 3. ஜம்மு மற்றும் காஷ்மீர்
(d) விதி 170 4. ஆளுநர்

குறியீடுகள்:

- | | (a) | (b) | (c) | (d) |
|-----|-----|-----|-----|-----|
| (A) | 1 | 4 | 2 | 3 |
| (B) | 3 | 1 | 4 | 2 |
| (C) | 2 | 4 | 1 | 3 |
| (D) | 3 | 4 | 2 | 1 |

(E) விடை தெரியவில்லை

Match the following and answer by using the codes:

- (a) Article 370 1. Legislative assembly
(b) Article 153 2. Chief Minister
(c) Article 163 3. Jammu and Kashmir
(d) Article 170 4. Governor

Codes:

- | | (a) | (b) | (c) | (d) |
|-----|-----|-----|-----|-----|
| (A) | 1 | 4 | 2 | 3 |
| (B) | 3 | 1 | 4 | 2 |
| (C) | 2 | 4 | 1 | 3 |
| (D) | 3 | 4 | 2 | 1 |

(E) Answer not known

109. கூற்று (A): ஆளுநரின் அறிக்கையின் அடிப்படையில் ஒரு மாநிலத்தில் மாநில நெருக்கடி நிலையைக் கொண்டு வரலாம்

காரணம்(R) : மாநில நெருக்கடி நிலையின் போது மாநிலத்தின் அரசியலமைப்பு ரீதியான தலைவர் அரசாங்கத்தின் தலைவர் ஆகிறார்

- A) (A) மற்றும் (R) இரண்டும் சரி, (R) என்பது (A) - யின் சரியான விளக்கமாகும்
B) (A) மற்றும் (R) இரண்டும் சரி, ஆனால் (R) என்பது (A)-யின் விளக்கமன்று
C) (A) சரி (R) தவறானது
D) (A) தவறு, (R) சரி
E) விடை தெரியவில்லை

Assertion (A) : The Governor's report may lead to the declaration of emergency in a State .

Reason (R) : The constitutional head of the State becomes the head of the government in the state in the event of State emergency.

A) (A) and (R) are true and (R) is the correct explanation of (A)

B) (A) and (R) are true ,but (R) is not the explanation of (A)

C) (A) is true, (R) is false

D) (A) is false, (R) is true

E) Answer not known

110. இந்திய அரசியலமைப்பின் முகவுரையில் “ஒருமைப்பாடு” என்ற வார்த்தை சேர்க்கப்பட்ட ஆண்டு

A) 1956

B) 1961

C) 1976

D) 1981

E) விடை தெரியவில்லை

The word ‘ integrity ‘ was added in the preamble of the constitution of India in the year

A) 1956

B) 1961

C) 1976

D) 1981

E) Answer not known

111. ‘மத்திய அரசால் விதிக்கப்படும், வசூலிக்கப்படும், மாநிலங்களுக்கு ஒதுக்கக்கூடிய வளங்கள்’ பற்றி குறிப்பிடும் இந்திய அரசியலமைப்பு சட்டத்தின் சரத்து எண் யாது?

(A) சரத்து 201

(B) சரத்து 269

(C) சரத்து 272

(D) சரத்து 268

(E) விடை தெரியவில்லை

Which article of the Indian Constitution talks about “Taxes levied and collected by the Union but assigned to the States”?

(A) Art. 201

(B) Art. 269

(C) Art. 272

(D) Art. 268

(E) Answer not known

112. பின்வருவனவற்றை பொருத்துக :

பட்டியல் I (அட்டவணைகள்)	பட்டியல் II (அம்சங்கள்)
(a) ஆறாவது அட்டவணை	1. அட்டவணை பகுதிகள் மற்றும் பழங்குடியினர் மீதான நிர்வாகம் மற்றும் கட்டுப்பாடு
(b) இரண்டாவது அட்டவணை	2. அஸ்ஸாம், மேகாலயா, திரிபுரா, சோரம் ஆகிய மாநிலங்களின்பழங்குடியினர் பகுதிகளை நிர்வகித்தல்
(c) பன்னிரண்டாவது அட்டவணை	3. மாநில சட்டப் பேரவைகளின் சபாநாயகர் மற்றும் துணை சபாநாயகர் தொடர்பான அம்சங்கள்
(d) ஐந்தாவது அட்டவணை	4. நகராட்சிகளின் அதிகாரங்கள் மற்றும் பொறுப்புகள்
	5. பஞ்சாயத்துகளின் அதிகாரங்கள் மற்றும் பொறுப்புகள்

	(a)	(b)	(c)	(d)
(A)	1	3	4	2
(B)	1	2	5	3
(C)	2	3	4	1
(D)	2	3	5	1

(E) விடை தெரியவில்லை

Match the following:

List I (Schedules)

List II (Provisions)

(a) Sixth schedule

1. Administration and control of scheduled areas and scheduled tribes

(b) Second schedule

2. Administration of tribal areas in states of Assam, Meghalaya, Tripura, Mizoram

(c) Twelfth schedule

3. Provisions as to the speaker and deputy speaker of state legislative assemblies

(d) Fifth schedule

4. Powers, authority and responsibilities of municipalities

5. Powers, authority and responsibility of Panchayats.

	(a)	(b)	(c)	(d)
(A)	1	3	4	2
(B)	1	2	5	3
(C)	2	3	4	1
(D)	2	3	5	1

(E) Answer not known

113. பின்வருவனவற்றுள் எந்தக் கூற்று தவறானது?

(I) அரசு வழிகாட்டு நெறிமுறைகள் அரசியலமைப்பு பகுதி நான்கில் கூறப்பட்டுள்ளது

(II) அடிப்படை உரிமைகள் அரசியலமைப்பு பகுதி மூன்றில் கூறப்பட்டுள்ளது

(III) 'மதசார்பின்மை' என்ற சொற்பதம் 44வது அரசியலமைப்பு சட்டத் திருத்தத்தில் 1976 சேர்க்கப்பட்டது.

(IV) 'சமதர்மம்' என்ற சொல் 1976ம் ஆண்டு 42வது திருத்தத்தின் படி சேர்க்கப்பட்டது

(A) III

(B) I மற்றும் II

(C) I, II மற்றும் IV

(D) IV

(E) விடை தெரியவில்லை

Which of the following statement is wrong?

(I) The Directive, principles of state policy are enumerated in part IV of constitution

(II) The fundamental rights are enshrined in part III of the constitution

(III) The term 'secular' too was added by the 44th Constitutional Amendment Act of 1976

(IV) The term 'socialist' was added by the 42nd Amendment of 1976

(A) III

(B) I and II

(C) I, II and IV

(D) IV

(E) Answer not known

114. ஹீமோபீலியா என்கிற இரத்த ஒழுக்கல் நோய் எதனால் ஏற்படுகிறது?

(A) பாக்டீரியா தொற்று மூலம்

(B) பூஞ்சை தொற்று மூலம்

(C) திடீர் மாற்றம் மூலம்

(D) வைரல் தொற்று மூலம்

(E) விடை தெரியவில்லை

Haemophilia is a human disease caused by

(A) Bacterial infection

(B) Fungal infection

(C) Mutant gene

(D) Viral infection

(E) Answer not known

115. இவற்றில் எவை இரத்த உறைதலை ஏற்படுத்தாத ஒரு காரணி?
 A) பைப்ரினோஜன் B) இரத்தத்தட்டுக்கள்
 C) த்ரோம்பின் D) ஆல்புமின்
 (E) விடை தெரியவில்லை

Which of the following does not play a role in blood clotting?

- A) Fibrinogen B) Platelets
 C) Thrombin D) Albumin
 (E) Answer not known

116. பட்டியல் I லுள்ள வைட்டமின்களை பட்டியல் II அவை குறைவினால் ஏற்படும் வியாதிகளோடு ஒப்பிடு

பட்டியல் I

- a) வைட்டமின் - B12
 b) வைட்டமின் - B6
 c) வைட்டமின் - E
 d) வைட்டமின் - K

பட்டியல் II

1. மலட்டுத்தன்மை
 2. இரத்தப்போக்கு நிலைமை
 3. தீவிர இரத்த சோகை
 4. தோல் வியாதி

	(a)	(b)	(c)	(d)
A)	1	2	3	4
B)	2	3	4	1
C)	3	4	1	2
D)	3	4	2	1

(E) விடை தெரியவில்லை

Compare Vitamin List I with its List II deficiency diseases:

List I

List II

a) Vitamin - B12	1. Sterility
b) Vitamin - B6	2. Haemorrhagic condition
c) Vitamin - E	3. Pernicious anaemia
d) Vitamin - K	4. Skin Disease

	(a)	(b)	(c)	(d)
A)	1	2	3	4
B)	2	3	4	1
C)	3	4	1	2
D)	3	4	2	1

(E) Answer not known

117. மைமோசா பூடிகா தாவரத்தில் வெளிப்படுத்தப்படும் அசைவுகளைக் கண்டறியவும்
 (A) தூங்கும் இயக்கம் (B) தொடு இயக்கம்
 (C) ஒளி நோக்கு இயக்கம் (D) அதிர்வு இயக்கம்
 (E) விடை தெரியவில்லை

Identify the kind of movement exhibited by Mimosa pudica (sensitive plant).

- (A) Nyctinastic movement (B) Thigmonastic movement
(C) Photonastic movement (D) Seismonastic movement
(E) Answer not known

118. பல்லுயிரியம் அல்லது உயிரிப்பன்மயம் என்ற பதம் குறிப்பிடுவது

- (A) இனச்செழுமை மற்றும் மரபணு வேறுபாடு
(B) இனச்செழுமை மற்றும் வாழ்விடப் பன்மயம்
(C) மரபணு வேறுபாடு மற்றும் பல்வகை சூழலமைப்புகள்
(D) இனச்செழுமை மட்டும்
(E) விடை தெரியவில்லை

The term biodiversity indicates

- (A) Species richness and genetic variation
(B) Species richness and habitat diversity
(C) Genetic variation and diverse ecosystems
(D) Species richness alone
(E) Answer not known

119. கீழ்க்காண்பவற்றில் நமது உடம்பில் காணப்படும் மிகக் கடினமான உறுப்பு யாது?

- (A) பற்களில் உள்ள எனாமல் என்னும் படலம் (B) எலும்புகள்
(C) நாக்கு (D) மூளை
(E) விடை தெரியவில்லை

Which one of the following is the hardest substance in our body?

- A) Enamel coating of teeth (B) Bones
C) Tongue (D) Brain
(E) Answer not known

120. மோட்டார் வாகனங்களில் உள்ள வேகமானிகள் கீழே தரப்பட்ட எந்த ஒன்றினைப் பயன்படுத்தி செயல்படுகின்றன?

- (A) நேர்திசை மின்னோட்டம் (B) சூழல் மின்னோட்டம்
(C) திறன் இழப்பிலா மின்னோட்டம் (D) வெப்ப மின்னோட்டம்
(E) விடை தெரியவில்லை

Which one of the following is used in the working of speedometers in automobiles?

- (A) Direct current (B) Eddy current
(C) Wattless current (D) Thermoelectric current
(E) Answer not known

121. ஈர்ப்பு வில்லைகளின் தத்துவம்

- A) ஒளி எதிரொளிப்பு (B) ஒளி விலகல்
C) ஒளி தளவிளைவு (D) நிறைகளைச் சுற்றி ஒளி வளைதல்
(E) விடை தெரியவில்லை

The principle of gravitational lenses is

- A) reflection of light
 B) refraction of light
 C) polarisation of light
 D) bending of light around masses
 (E) Answer not known

122. ராமன் விளைவு எந்த தத்துவத்தை அடிப்படையாகக் கொண்டது?

- (A) பிரதிபலிப்பு
 (B) ஒத்தில்லா ஒளிச்சிதறல்
 (C) ஒத்த ஒளிச்சிதறல்
 (D) ஒளி விலகல்
 (E) விடை தெரியவில்லை

What is the basic concept of Raman effect?

- (A) reflection
 (B) incoherent scattering
 (C) coherent scattering
 (D) refraction
 (E) Answer not known

123. ஒரு அணுக்கருவின் நிறை எண் எதன் எண்ணிக்கைக்குச் சமம்

- (A) அதிலிருக்கும் எலக்ட்ரான்கள்
 (B) அதிலிருக்கும் புரோட்டான்கள்
 (C) அதிலிருக்கும் நியூட்ரான்கள்
 (D) அதிலிருக்கும் நியூக்ளியான்கள்
 (E) விடை தெரியவில்லை

The mass number of a nucleus is equal to the number of

- (A) Electrons it contains
 (B) Protons it contains
 (C) Neutrons it contains
 (D) Nucleons it contains
 (E) Answer not known

124. பின்வரும் கனிமங்களில் அலுமினியம் இல்லாதது எது?

- (A) கிரியோலைட்
 (B) மைகா
 (C) பெல்ட்ஸ்பார்
 (D) புளோர்ஸ்பார்
 (E) விடை தெரியவில்லை

In which of the following minerals, Aluminium is not present?

- (A) Cryolite
 (B) Mica
 (C) Feldspar
 (D) Fluorspar
 (E) Answer not known

125. கீழ்க்கண்டவற்றை பொருத்துக:

a) பொட்டாசியம் குளோரைட்	1. மலச்சிக்கலைத் தீர்க்க
b) எப்சம் உப்பு	2. தீப்பெட்டி தொழிற்சாலைகளில்
c) காப்பர் சல்பேட் உப்பு	3. பட்டாசு
d) பொட்டாசியம் நைட்ரேட்	4. பூஞ்சைக் கொல்லியாக

- a b c d
 A) 3 4 2 1
 B) 2 3 4 1
 C) 2 1 4 3
 D) 3 4 1 2

(E) விடை தெரியவில்லை

Match the following:

a) Potassium chlorate	1. Constipation
b) Epsom salt	2. Match industry
c) Copper sulphate salt	3. Crackers
d) Potassium nitrate	4. Fungicide

	a	b	c	d
A)	3	4	2	1
B)	2	3	4	1
C)	2	1	4	3
D)	3	4	1	2

126. ரூபாயின் தேசியக் குறியீட்டை வடிவமைத்தவர்
- (A) உதயகுமார் (B) சுந்தர் பிச்சை
(C) டிஜு தாமஸ் (D) ஹார்திக் பட்டேல்
(E) விடை தெரியவில்லை

The national symbol for the rupee was designed by

- A) Udayakumar B) Sundar Pichai
C) Tiju Thomas D) Hardik patel
(E) Answer not known

127. கீழ்க்கண்டவற்றில் பொருளியலில் LPG என்று குறிப்பிடுபவற்றுள் இல்லாதது
- (A) தனியார்மயமாதல் (B) தாராளமயமாதல்
(C) பொதுமைப்படுத்துதல் (D) உலகமயமாதல்
(E) விடை தெரியவில்லை

Among the following, which does not include LPG in economics

- A) Privatisation B) Liberalisation
C) Generalisation D) Globalisation
(E) Answer not known

128. “பிரதம மந்திரி கிராம சடாக் யோஜனா” திட்டத்தின் நோக்கம் (குறிக்கோள்) எது?
- (A) அனைவருக்கும் அனைத்து பருவ காலங்களுக்கும் சாலை வசதிகளை அமைத்தல்
(B) தொலைதொடர்பு வசதிகளை அனைத்து பருவகாலங்களுக்கும் ஏற்ப அமைத்தல்
(C) அனைத்து பருவ காலங்களிலும் உணவு பாதுகாப்பு செய்தல்
(D) எல்லோருக்கும் கல்வி வசதி ஏற்பாடு செய்தல்
(E) விடை தெரியவில்லை

What is the aim of Pradhan Mantri Gram-Sadak Yojana?

- (A) Provide all Weather road connectivity
(B) Provide all Weather to Tele communication connectivity
(C) Provide Food Security in all seasons
(D) Provide Education to all people
(E) Answer not known

129. பத்தாவது ஐந்தாண்டு திட்டம் (2002-07) முன்னுரிமை வழங்கப்பட்டது

- (A) வறுமை மற்றும் மக்கள் தொகை வளர்ச்சியைக் குறைத்தல்
 (B) அடிப்படை தொழில்கள்
 (C) வேலை வாய்ப்பை உருவாக்குதல்
 (D) விவசாயம்
 (E) விடை தெரியவில்லை

Tenth Five Year Plan (2002-07) to priority for

- (A) Reduction of poverty and population growth
 (B) Basic industries
 (C) Generation of employment
 (D) Priority to agriculture
 (E) Answer not known

130. சரக்கு மற்றும் சேவை வரியை முதன் முதலில் அறிமுகப்படுத்திய நாடு எது?

- (A) பிரான்ஸ் (B) ஜெர்மனி
 (C) இந்தியா (D) அமெரிக்கா
 (E) விடை தெரியவில்லை

Which country was the first to introduces GST ?

- (A) France (B) Germany
 (C) India (D) America
 (E) Answer not known

131. பின்வருவனவற்றைப் பொருத்துக :

- | | |
|-----------------------|----------------------------|
| குழு | பிரிவு |
| (a) சாச்சார் குழு | 1. MRTP சட்ட திருத்தங்கள் |
| (b) பெசல் குழு | 2. சிறு தொழில்கள் |
| (c) அபிஜித் சென் குழு | 3. நீண்டகால உணவுக் கொள்கை |
| (d) அபித் ஹுசைன் குழு | 4. வங்கிகளைக் கண்காணித்தல் |

(E) விடை தெரியவில்லை

Match the following :

- | | |
|----------------------------|---------------------------|
| Committee | Section |
| (a) Sachar Committee | 1. Amendments in MRTP Act |
| (b) Basel Committee | 2. Small Scale Industries |
| (c) Abhijit Sen Committee | 3. Long-term Food Policy |
| (d) Abit Hussain Committee | 4. Banking Supervision |

(E) Answer not known

132. பின்வருவனவற்றுள் எந்த ஒன்று இந்தியாவில் அறிமுகப்படுத்தப்பட்ட பிரதான வறுமை ஒழிப்புத் திட்டமாகும்?

- (A) IADP (B) IAAP
(C) HYVP (D) IRDP
(E) விடை தெரியவில்லை

Which one of the following is a major anti- poverty programme introduced in India?

- A) IADP B) IAAP
C) HYVP D) IRDP
(E) Answer not known

133. இந்தியாவில் ஆங்கிலேயருக்கு எதிராக நடந்த போராட்டங்களை காலவரன்படி வரிசைப்படுத்துக.

1. மாப்பிள்ளை கலகம்
2. தக்கான கலகம்
3. வங்காள இண்டிகோ பயிரிடுவோர் கலகம்
4. சாந்தல்கள் கலகம்

- (A) 4, 3, 2, 1 (B) 2, 1, 3, 4
(C) 3, 2, 1, 4 (D) 1, 3, 4, 2

(E) விடை தெரியவில்லை

Arrange the following revolts in India against the British in Chronological order.

1. The Mophla uprising
2. The Deccan Riots
3. Bengal Indigo Cultivator's Revolt
4. Santhal Rebellion

- A) 4,3,2,1 B) 2,1,3,4
C) 3,2,1,4 D) 1,3,4,2

(E) Answer not known

134. பொருத்துக :

- a. சோழீஸ்வரர் கோயில் I. குலோத்துங்கன்-I
b. கோரங்கநாதன் கோயில் II. ஆதித்யன்-I
c. பாலசுப்பிரமணியம் கோயில் III. பாராந்தகன் -I
d. கம்பாஹரீஸ்வர கோயில் IV. விஜயாலயன்

- a b c d
(A) I II III IV
(B) III IV I II
(C) IV III II I
(D) II I IV III

(E) விடை தெரியவில்லை

Match the following:

List-I

- a. Choleswara temple
- b. Koranganatha temple
- c. Balasubramanyan temple
- d. Kampahareswara temple

List-II

- I. Kulottunga-I
- II. Aditya-I
- III. Parantaka-I
- IV. Vijayalaya

- | | a | b | c | d |
|-----|-----|-----|-----|-----|
| (A) | I | II | III | IV |
| (B) | III | IV | I | II |
| (C) | IV | III | II | I |
| (D) | II | I | IV | III |
- (E) Answer not known

135. முகமது துக்ளக்கின் உண்மையான பெயர் என்ன?

- (A) நஸ்ரத் கான்
- (B) ஜுனா கான்
- (C) அர்காலி கான்
- (D) உளு கான்
- (E) விடை தெரியவில்லை

What was the real name of Muhammad Tughluq?

- (A) Nusrat Khan
- (B) Jauna Khan
- (C) Arkali Khan
- (D) Ulu Khan
- (E) Answer not known

136. கர்நாடக இசையின் கவிக்குயில் என்றழைக்கப்படுபவர் யார்?

- (A) சரோஜினி நாயுடு
- (B) சுப்புலட்சுமி
- (C) விஜயலட்சுமி பண்டிட்
- (D) ருக்மினி அருண்டேல்
- (E) விடை தெரியவில்லை

Who is called as Nightingale of Carnatic Music?

- (A) Sarojini Naidu
- (B) Subbulakshmi
- (C) Vijayalakshmi Pandit
- (D) Rukmini Arundale
- (E) Answer not known

137. காங்கிரஸ் கட்சி அரசு மன்றங்களில் நுழைவது என்பது அரசுடன் ஒத்துப் போவதற்கல்ல ஒத்துழையாமையை முன்னிறுத்தவே' என்ற கருத்தினைக் கூறியவர்கள் எவர்?

- (A) பண்டித மோதிலால் நேரு மற்றும் தேஷ் பந்து சித்தராஞ்சன் தாஸ்
- (B) எம்.கே. காந்தி மற்றும் ஜவஹர்லால் நேரு
- (C) லாலா லஜ்பத் ராய் மற்றும் கோபால கிருஷ்ண கோகலே
- (D) சுப்ரமண்ய பாரதி மற்றும் வ.உ.சிதம்பரம் பிள்ளை
- (E) விடை தெரியவில்லை

“The Congress should get entry into the councils not to cooperate with the Government but to non-cooperate with it.’ This statement was made by whom?

- (A) Pandit Motilal Nehru and Desh Bandhu Chittaranjan Das
- (B) M.K. Gandhi and Jawaharlal Nehru
- (C) Lala Lajpat Rai and Gopala Krishna Gokale
- (D) Subramanya Bharathi and V.O. Chidambaranar
- (E) Answer not known

138. முகமது கவானை பற்றியதில் கீழ்க்கண்டவற்றில் சரியான கூற்று எது?
1. இரண்டாம் அலாவுதீன் அகமது ஷா காலத்தில் முகமது கவான் பிரசித்தி பெற்றவராக இருந்தார்
 2. ஹிமாயுன் காலத்தில் இவர் முதல் மந்திரியாக இருந்தார்
 3. முகமது கவான் ஒரு அபாக்கி
 4. 1481 ஆம் ஆண்டு சல்தானால் முகமது கவான் தூக்கிலிடப்பட்டார்
- (A) 1, 2 மட்டும் சரி, 3, 4 தவறானது
 (B) 1, 3 மட்டும் சரி, 2, 4 தவறானது
 (C) 1, 2, 4 மட்டும் சரி, 3 மட்டும் தவறானது
 (D) அனைத்தும் சரியானது
 (E) விடை தெரியவில்லை
- Which of the Statement is correct regarding Muhammad Gawan?
1. He rose to prominence during the reign of Alauddin Ahammad Shah II
 2. He was the chief minister under Humayun
 3. He was a afgani
 4. He was executed by a sultan in 1481
- (A) 1, 2 are correct, 3, 4 are incorrect
 (B) 1, 3 are correct, 2, 4 are incorrect
 (C) 1, 2, 4 are correct, 3 only incorrect
 (D) All are correct.
 (E) Answer not known
139. தெற்கில் தோன்றிய தீர்க்கதரிசி என அழைக்கப்படுபவர் யார்?
- (A) காமராஜர் (B) பெரியார்
 (C) அண்ணாதுரை (D) கருணாநிதி
 (E) விடை தெரியவில்லை
- Who is called the prophet from the south?
- (A) Kamarajar (B) Periyar
 (C) Annadurai (D) Karunanidhi
 (E) Answer not known
140. கீழ்க்காணும் வாக்கியங்களை கவனி :
- கூற்று (A): திலகர் 1916 ஏப்ரலில் தன்னாட்சி இயக்கத்தை பூனாவில் ஆரம்பித்தார். அன்னி பெசன்ட் அதே ஆண்டு செப்டம்பரில் சென்னையில் ஆரம்பித்தார்.
- காரணம் (R): இரண்டு தலைவர்களும் ஒற்றுமையோடு இருந்து இந்திய அரசியல் விழிப்புணர்வுக்கு பங்காற்றினார்கள்.
- (A) (A) உண்மையானது (R) தவறானது
 (B) (A) மற்றும் (R) ஆகிய இரண்டும் உண்மை
 (C) (A) மற்றும் (R) ஆகிய இரண்டும் தவறானவை
 (D) (R) உண்மையானது (A) தவறானது
 (E) விடை தெரியவில்லை

Consider the following statements:

Assertion (A) : Tilak started the Home Rule Movement at Poona in April 1916, and Annie Besant founded it in Madras in the following September.

Reason (R) : Both the leaders worked in cooperation with each other and made a great contribution in the political awakening of India.

(A) (A) is true (R) is false

(B) Both (A) and (R) are true

(C) Both (A) and (R) are false

(D) (R) is true and (A) is false

(E) Answer not known

141. கீழ்வருவனவற்றை சரியாக பொருத்துக :

(a) தண்டி யாத்திரை	1. 1922ம் ஆண்டு கல்கத்தா மாநாடு
(B) 2ம் வட்ட மேஜை மாநாடு	2. பம்பாய் மாநாடு
(c) ஒத்துழையாமை தீர்மானம்	3. சபர்மதி ஆசிரமம்
(d) வெள்ளையனே வெளியேறு தீர்மானம்	4. ஒரேயொரு பிரதி நிதி

	(a)	(b)	(c)	(d)
(A)	3	4	1	2
(B)	4	3	1	2
(C)	2	1	4	3
(D)	3	2	1	4

(E) விடை தெரியவில்லை

Match the following :

(a) Dandi March

1. Calcutta Session of 1922

(b) 2nd Round Table Conference

2. Bombay Meeting

(c) Non-cooperation resolution

3. Sabarmathi Ashram

(d) Quit India Resolution

4. Sole representative

	(a)	(b)	(c)	(d)
(A)	3	4	1	2
(B)	4	3	1	2
(C)	2	1	4	3
(D)	3	2	1	4

(E) Answer not known

142. பாதுஷா என்ற பட்டத்தை சூட்டிக் கொண்டவர் யார்?

(A) பாபர்

(B) அக்பர்

(C) ஷாஜஹான்

(D) ஒளரங்கசீப்

(E) விடை தெரியவில்லை

Who has assumed the title Badushah?

(A) Babur

(B) Akbar

(C) ShahJahan

(D) Aurangazeb

(E) Answer not known

143. விஜயநகர் பேரரசு எத்தனை மாகாணங்களாகப் பிரிக்கப்பட்டிருந்தது?
 (A) பதினைந்து மாகாணங்கள் (B) பதினைந்து மாவட்டங்கள்
 (C) ஆறு மாகாணங்கள் (D) நாற்பத்தைந்து தாலுக்காக்கள்
 (E) விடை தெரியவில்லை

The Vijayanagar empire was divided into how many provinces?

- (A) Fifteen provinces (B) Fifteen districts
 (C) Six provinces (D) Forty five Talugas
 (E) Answer not known

144. தனது அரசியல் தந்திரத்திற்காக “சாணக்கியர்” எனப் போற்றப்படுபவர் யார்?
 (A) காமராசர் (B) C.N. அண்ணாதுரை
 (C) C. இராஜகோபாலாச்சாரி (D) S. சத்தியமூர்த்தி
 (E) விடை தெரியவில்லை

Whom often referred as “Chanakya” for his diplomatic skills?

- (A) Kamaraj (B) C.N. Annadurai
 (C) C. Rajagopalachari (D) S. Satyamurthi
 (E) Answer not known

145. பின்வரும் நதி தொகுப்புகளை அவைகளின் நதிகளோடு பொருத்துக
 (a) இந்து நதி தொகுப்பு 1. பஞ்ச கங்கா
 (b) பிரம்மபுத்திரா நதி தொகுப்பு 2. ஜீலம்
 (c) கோதாவரி நதி தொகுப்பு 3. பீமா
 (d) கிருஷ்ணா நதி தொகுப்பு 4. சங்கோஷ்

	(a)	(B)	(c)	(d)
(A)	4	3	1	2
(B)	2	3	4	1
(C)	3	1	4	2
(D)	2	4	1	3

(E) விடை தெரியவில்லை

Match the following river systems with their rivers :

- (a) Indus River system 1. Panch ganga
 (b) Brahmaputra River system 2. Jhelum
 (c) Godavari River system 3. Bhima
 (d) Krishna River system 4. Sankosh

	(a)	(B)	(c)	(d)
(A)	4	3	1	2
(B)	2	3	4	1
(C)	3	1	4	2
(D)	2	4	1	3

(E) Answer not known

146. குறுங்கோள்கள் இவைகளுக்கிடையே அமைந்துள்ளன?
 A) செவ்வாய்க்கும் வியாழனுக்கும் B) பூமிக்கும் செவ்வாய்க்கும்
 C) வியாழனுக்கும் சனிக்கும் D) புதனுக்கும் வெள்ளிக்கும்
 E) விடை தெரியவில்லை
 Asteroids are found between
 A) Mars and Jupiter B) Earth and Mars
 C) Jupiter and Saturn D) Mercury and Venus
 E) Answer not known
147. கீழ்க்கண்டவற்றுள் துணைக் கோள் இல்லாத கிரகம் எது?
 A) வீனஸ் B) செவ்வாய்
 C) வியாழன் D) யுரேனஸ்
 E) விடை தெரியவில்லை
 Which one of the following planets have no satellite ?
 A) Venus B) Mars
 C) Jupiter D) Uranus
 E) Answer not known
148. பட்டியல் I-லில் உள்ள தலக் காற்றுக்கள் பட்டியல் II-லில் உள்ள இடங்களுடன் பொருத்துக:
 பட்டியல் I பட்டியல் II
 (a) சின்னூக் 1. இந்தியாவின் தார் பாலைவனம்
 (b) ஃபான் 2. சகாரா பாலைவனம்
 (c) சிராக்கோ 3. வடக்கு இத்தாலி
 (d) லூ 4. அமெரிக்க ஐக்கிய நாடுகள்
 (a) (b) (c) (d)
 (A) 3 4 2 1
 (B) 2 3 4 1
 (C) 4 3 2 1
 (D) 1 3 2 4
 (E) விடை தெரியவில்லை
 Match the List I (Local wind) with List II (Places) :
 List I List II
 (a) Chinook 1. India - Thar desert
 (b) Fohn 2. Sahara desert
 (c) Sirocco 3. Northern Italy
 (d) Loo 4. USA
 (a) (b) (c) (d)
 (A) 3 4 2 1
 (B) 2 3 4 1
 (C) 4 3 2 1
 (D) 1 3 2 4
 (E) Answer not known

149. இந்தியா எவ்வித பருவநிலை பகுதிக்குக் கீழ் உள்ளது?
- (A) மழைக்கால போக்குகளின் பகுதி (B) பருவமழை விளைவு பகுதி
(C) மாற்றப்பட்ட பருவநிலை பகுதி (D) உண்மையான பருவமழை பகுதி
(E) விடை தெரியவில்லை

Which Monsoon area does India comes under ?

- (A) Area of monsoonal tendencies (B) Area of monsoon effects
(C) Area of modified monsoon (D) Area of true monsoon
(E) Answer not known

150. இந்தியாவின் தேசிய ஆறு எது?

- A. பிரம்மபுத்ரா B. கோதாவரி
C. கங்கா D. காவேரி
E) விடை தெரியவில்லை

Which is the national river of India?

- A. Brahmaputra B. Godavari
C. Ganges D. Cauvery
E) Answer not known

151. இந்திய பருவக்காற்றின் தோற்றத்துடன் தொடர்பில்லாத கோட்பாட்டை அடையாளம் காண்க.

- A) வெப்பம் சார்ந்த கோட்பாடு B) வளியியல் கோட்பாடு
C) மேலைக் காற்றோட்ட கோட்பாடு D) ஃபுளோனின் கோட்பாடு
E) விடை தெரியவில்லை

Identify the concept which is not associated with the origin of Indian Monsoon

- A) Thermal concept B) Aerological concept
C) Westerlies concept D) Flohn's concept
E) Answer not known

152. கீழே கொடுக்கப்பட்டுள்ள நதிகளை அவைகளின் துணை நதிகளோடு பொருத்துக

நதிகள் துணை நதிகள்

- (a) யமுனா 1. திபாங்
(b) பிரம்மபுத்திரா 2. பென்கங்கா
(c) மகாநதி 3. பெட்வா
(d) கோதாவரி 4. சியோநாத்

- | | (a) | (b) | (c) | (d) |
|-----|-----|-----|-----|-----|
| (A) | 3 | 1 | 4 | 2 |
| (B) | 3 | 1 | 2 | 4 |
| (C) | 1 | 4 | 2 | 3 |
| (D) | 2 | 4 | 1 | 3 |

- (E) விடை தெரியவில்லை

Match the following rivers with their tributaries.

Rivers	Tributaries
(a) Yamuna	1. Dibang
(b) Brahmaputra	2. Penganga
(c) Mahanadi	3. Betwa
(d) Godavari	4. Sheonath

	(a)	(b)	(c)	(d)
(A)	3	1	4	2
(B)	3	1	2	4
(C)	1	4	2	3
(D)	2	4	1	3
(E)	Answer not known			

153. கீழ் கொடுக்கப்பட்டவைகளில் எது சரியாகப் பொருந்தியுள்ளது?

- (A) ட்ரோப்போஸ்பியர் - (i) அயனிகள் உள்ளன
 (B) ஸ்ட்ரடோஸ்பியர் - (ii) விமானங்கள் வேகமாக பறப்பதற்கு ஏற்ற சாதகமான சூழ்நிலை
 (C) மிஸோஸ்பியர் - (iii) வானிலை நிகழ்வுகள்
 (D) தெர்மோஸ்பியர் - (iv) புவியை விண்கற்களிலிருந்து பாதுகாப்பது
 (E) விடை தெரியவில்லை

Which one of the following is correctly matched?

- (A) Troposphere - (i) ions are found
 (B) Stratosphere - (ii) conducive for airplanes to fly
 (C) Mesosphere - (iii) weather patterns
 (D) Thermosphere - (iv) protects the earth from falling metcors
 (E) Answer not known

154. சமீபத்தில் தொடங்கப்பட்ட 14567, என்ற உதவி எண் எந்தப் பிரிவு மக்களுக்காகத் தொடங்கப்பட்டது?

- (A) குழந்தைகள் (B) மூத்த மக்கள்
 (C) பழங்குடி மக்கள் (D) பாலின பாலின மக்கள்
 (E) விடை தெரியவில்லை

14567, which was launched recently, is the help line for which segment of people?

- (A) Children (B) Elder People
 (C) Tribal People (D) Trans Gender people
 (E) Answer not known

155. எந்த நகரத்தில், சுற்றுச்சூழல் அமைச்சர் பூபேந்தர் யாதவ் இந்தியாவின் முதல் செயல்பாட்டு புகை கோபுரத்தை தொடங்கினார்?

- (A) டெல்லி (B) வாரணாசி
 (C) கொல்கத்தா (D) லக்னோ
 (E) விடை தெரியவில்லை

In which city, Environment Minister Bhupender Yadav has launched the first functional Smog Tower of India?

- (A) Delhi (B) Varanasi
(C) Kolkata (D) Lucknow
(E) Answer not known

156. தேசிய பேரிடர் மேலாண்மை ஆணையத்துடன் (NDMA) கூட்டு முயற்சியில் எந்த நிறுவனம் இயற்கை பேரழிவுகளைக் கணிக்க ஒரு செயலியை உருவாக்கியுள்ளது?

- (A) ஐஐடி மெட்ராஸ் (B) IIT ரூர்க்கி
(C) ஐஐடி கவுகாத்தி (D) ஐஐடி பம்பாய்
(E) விடை தெரியவில்லை

Which institution, in a joint venture with National Disaster Management Authority (NDMA), has built an app to predict natural disasters?

- (A) IIT Madras (B) IIT Roorkee
(C) IIT Guwahati (D) IIT Bombay
(E) Answer not known

157. எந்த மாநிலத்தில்/யூனியன் பிரதேசத்தில் முதலீட்டாளர் உச்சி மாநாடு 2021 ஏற்பாடு செய்யப்பட்டுள்ளது?

- (A) மகாராஷ்டிரா (B) குஜராத்
(C) கர்நாடகா (D) டெல்லி
(E) விடை தெரியவில்லை

In which state/UT, Investor Summit 2021 is being organized?

- (A) Maharashtra (B) Gujarat
(C) Karnataka (D) Delhi
(E) Answer not known

158. 'சதுப்புநில சுற்றுச்சூழல் அமைப்பைப் பாதுகாப்பதற்கான சர்வதேச தினம்' ஆண்டுதோறும் எப்போது கொண்டாடப்படுகிறது?

- (A) ஜூலை 23 (B) ஜூலை 26
(C) ஜூலை 29 (D) ஜூலை 31
(E) விடை தெரியவில்லை

When is the 'International Day for the Conservation of the Mangrove Ecosystem' observed annually?

- (A) July 23 (B) July 26
(C) July 29 (D) July 31
(E) விடை தெரியவில்லை

159. யூனிஸ் புயல் சமீபத்தில் எங்கு தாக்கியதாகச் செய்திகளில் காணப்பட்டது?

- (A) பிரிட்டன் (B) சீனா
(C) ஜப்பான் (D) அமெரிக்கா
(E) விடை தெரியவில்லை

Where the Eunice Strom was seen recently in news?

- (A) Britian (B) China
(C) Japan (D) America
(E) Answer not known

160. பீம் ஜெயந்தி எந்த தினத்தில் கொண்டாடப்படுகிறது?

- (A) ஏப்ரல் - 14 (B) ஏப்ரல் - 13
(C) மே - 14 (D) மே - 13
(E) விடை தெரியவில்லை

Bhim Jayanti day celebrated on?

- (A) April - 14 (B) April - 13
(C) May - 14 (D) May - 13
(E) Answer not known

161. நிதி ஆயோக் அமைப்பின் மாநில ஆற்றல் மற்றும் பருவநிலை குறியீட்டில் தமிழ்நாடு மாநிலம் எந்த இடத்தில் உள்ளது?

- (A) 4வது இடம் (B) 9வது இடம்
(C) 6வது இடம் (D) 7வது இடம்
(E) விடை தெரியவில்லை

As per NITI Ayok's state energy and climate Index, Which place acquired by Tamilnadu?

- (A) 4th Position (B) 9th Position
(C) 6th Position (D) 7th Position
(E) Answer not known

162. XE என்ற கொரோனா வைரஸ் திரிபின் முதல் தொற்றானது இந்தியாவின் எந்த நகரில் பதிவாகியுள்ளது?

- (A) பெங்களூர் (B) சென்னை
(C) மும்பை (D) டெல்லி
(E) விடை தெரியவில்லை

Where reported India's first case of the highly transmissible Corona Virus Variant (XE)?

- (A) Bangalore (B) Chennai
(C) Mumbai (D) Delhi
(E) Answer not known

163. மின்சார வாகனங்களுக்கான மின்கலங்கள் வரைவுக் கொள்கையை வெளியிடுள்ள அமைப்பு எது?

- (A) போக்குவரத்து அமைச்சகம் (B) ரயில்வே அமைச்சகம்
(C) தேசிய நெடுஞ்சாலைத்துறை (D) நிதி ஆயோக்
(E) விடை தெரியவில்லை

Who released the electronic Vechicle battery swapping draft policy?

- (A) Ministry of Transport (B) Ministry of Railways
(C) National Highway Department (D) NITI Aayog
(E) Answer not known

164. கைக்கோடாரிகளும் பிளக்கும் கருவிகளும் எக்காலத்தைச் சார்ந்த முக்கியமான கருவி வகைகள்?
 (A) இடைக் கற்காலம் (B) மேல் பழங்கற்காலம்
 (C) புதிய கற்காலம் (D) கல்கோலிதிக் கலாச்சாரம்
 (E) விடை தெரியவில்லை
 Hand axes and cleavers are the important tool types of the culture.
 (A) Mesolithic (B) Upper Palaeolithic
 (C) Neolithic (D) Chalcolithic culture
 (E) Answer not known
165. திருவள்ளுவர் இயற்றிய திருக்குறளானது எதன் கீழ்த் தொகுக்கப்பட்டுள்ளது?
 (A) ஐம்பெருங்காப்பியம் (B) பதினெண்கீழ்க்கணக்கு
 (C) பதினெண்மேல்கணக்கு (D) ஏதுமில்லை
 (E) விடை தெரியவில்லை
 The pre-eminent work Thirukkural composed by Thiruvalluvar is included in
 (A) Five Epics (B) Pathinen Kilkanakku
 (C) Pathinen Melkanakku (D) None of these
 (E) Answer not known
166. முதலாம் ஆதித்தசோழனின் மகன் முதலாம் பராந்தகன், பாண்டிய மன்னரை தோற்கடித்ததால் என்ற பட்டப்பெயரைப் பெற்றார்.
 (A) மதுரை கொண்டான் (B) முடிக்கொண்டான்
 (C) கடாரம் கொண்டான் (D) பண்டித சோழன்
 (E) விடை தெரியவில்லை
 Parantaka I, the son of Adithya I defeated the pandyan ruler and took up the title
 (A) Madurai Kondan (B) Mudikondan
 (C) Kadaram kondan (D) Panditha Cholan
 (E) Answer not known
167. மருது சகோதரர்கள் கோட்டையில் தூக்கிலிடப்பட்டனர்.
 (A) பாஞ்சாலங்குறிச்சி (B) கயத்தாறு
 (C) சிவகங்கை (D) திருப்பத்தூர்
 (E) விடை தெரியவில்லை
 The Marudhu brothers were executed in the fort of
 (A) Panchalamkurichi (B) Kayatharu
 (C) Sivagangai (D) Thirupathur
 (E) Answer not known
168. காட்டின் நடுவில் காளையார்கோவில் அமைந்துள்ளது.
 (A) திருநெல்வேலி (B) சிவகிரி
 (C) களப்பூர் (D) சிவகங்கை
 (E) விடை தெரியவில்லை

The temple of Kalayarkoil is in the heart of forests.

- (A) Tirunelveli (B) Sivagiri
(C) Kalapore (D) Sivagangai
(E) Answer not known

169. 1907 ஆம் ஆண்டு சூரத் பிளவுக்கு பிறகு வ.உ.சி.யும் மற்ற தேசியவாதிகளும் இணைந்து-ஐத் தோற்றுவித்தனர்.

- (A) சென்னை ஜன சங்கம் (B) சுதேசி சங்கம்
(C) சென்னை சங்கம் (D) மெட்ராஸ் ஜன சங்கம்
(E) விடை தெரியவில்லை

After the Surat split in 1907, VOC and fellow nationalists started the

- (A) Chennai Jana Sangam (B) Swadeshi Sangam
(C) Madras Sangam (D) Madras Jana Sangam
(E) Answer not known

170. சதுப்பு நிலக் காடுகள் காணப்படும் இடம்

- (A) வேதாரண்யம் (B) கோயம்புத்தூர்
(C) புதுக்கோட்டை (D) நீலகிரி
(E) விடை தெரியவில்லை

Mangrove forests are found in

- (A) Vedaranyam (B) Coimbatore
(C) Pudukottai (D) Nilgris
(E) Answer not known

171. காவிரி டெல்டா பகுதிகளில் அதிகமாக நடைபெறும் விவசாயம் எது?

- (A) பாசனம் (B) தோட்டமுறை
(C) கலப்பு விவசாயம் (D) தோட்டக்கலை
(E) விடை தெரியவில்லை

Which type of farming is prevalent in the Kaveri delta?

- (A) Irrigation (B) Plantation
(C) Mixed farming (D) Gardening
(E) Answer not known

172. இந்தியாவின் சுற்றுச் சூழலியல் குறித்து அடித்தளமிட்டதால் குமரப்பாவை 'பச்சை காந்தி' என்று அழைத்தவர் யார்?

- (A) J.M. கீன்ஸ் (B) H.W. சிங்கர்
(C) இராமச்சந்திர குகா (D) ஜவஹர்லால் நேரு
(E) விடை தெரியவில்லை

Who calls Kumarappa as "The Green Gandhian" and founder of modern environmentalism in India?

- (A) J.M. Keynes (B) H.W. Singer
(C) Ramachandra Guha (D) Jawaharlal Nehru
(E) Answer not known

173. தமிழ்நாட்டின் முதல் நவீன வங்கியான 'மெட்ராஸ் வங்கி' ஆங்கிலேயர்களால் தொடங்கப்பட்ட ஆண்டு
- (A) 1843 (B) 1909
(C) 1935 (D) 1907
(E) விடை தெரியவில்லை
- The first modern bank in Tamil nadu, Bank of Madras was started by British in
- (A) 1843 (B) 1909
(C) 1935 (D) 1907
(E) Answer not known
174. இந்திய தேசிய காங்கிரஸின் மூன்றாவது மாநாடு/ அமர்வு எங்கே நடைபெற்றது?
- (A) மெரினா (B) மைலாப்பூர்
(C) புனித ஜார்ஜ் கோட்டை (D) ஆயிரம் விளக்கு
(E) விடை தெரியவில்லை
- Where was the third session of the INC held?
- (A) Marina (B) Mylapore
(C) Fort St. George (D) Thousand Lights
(E) Answer not known
175. உப்புச்சட்டங்களை மீறியதற்காக அபராதம் கட்டிய முதல் பெண்மணி யார்?
- (A) சரோஜினி நாயுடு (B) ருக்மணி லட்சுமிபதி
(C) கிருபாளினி (D) விஜயலட்சுமி பண்டிட்
(E) விடை தெரியவில்லை
- Who was the first woman to pay penalty for violation of salt laws?
- (A) Sarojini Naidu (B) Rukmani Lakshmi pathi
(C) Sucheta Kriplani (D) Vijayalakshmi Pandit
(E) Answer not known
176. Find the largest ratio among
4 : 5, 8 : 15, 3 : 10, 1 : 2
- (A) 4:5 (B) 8:15
(C) 3:10 (D) 1:2
(E) விடை தெரியவில்லை
- கீழ்க்காணும் விகிதங்களில் மிகப்பெரியது எது?
4 : 5, 8 : 15, 3 : 10, 1 : 2
- (A) 4:5 (B) 8:15
(C) 3:10 (D) 1:2
(E) Answer not known

177. அழகனின் வயது 50 மற்றும் அவரது மகனின் வயது 10 எனில் அழகன் மற்றும் அவரது மகனின் வயதுக்கான விகிதத்தின் எளிய வடிவம்
 (A) 10 : 50 (B) 50 : 10
 (C) 5 : 1 (D) 1 : 5
 (E) விடை தெரியவில்லை
 If Azhagan is 50 years old and his son is 10 years old then the simplest ratio between the age of Azhagan to his son is
 (A) 10 : 50 (B) 50 : 10
 (C) 5 : 1 (D) 1 : 5
 (E) Answer not known
178. ரூ.8,000-க்கு ஆண்டிற்கு 15% வட்டி விகிதத்தில் 2 ஆண்டு மற்றும் 4 மாதத்திற்கான கூட்டு வட்டியைக் கணக்கிடுக.
 A. 3110 B. 3109
 C. 3106 D.3108
 (E) விடை தெரியவில்லை
 Find the compound interest on Rs. 8,000 at 15% per annum for 2 years 4 months, compounded annually.
 A. 3110 B. 3109
 C. 3106 D.3108
 (E) Answer not known
179. ஒரு வட்டக்கோணப் பகுதியின் வில்லின் நீளம் 15 செ.மீ மற்றும் ஆரம் 10 செ.மீ எனில் அதன் சுற்றளவைக் காண்க
 (A) 15 செ.மீ (B) 35 செ.மீ
 (C) 25 செ.மீ (D) 30 செ.மீ
 (E) விடை தெரியவில்லை
 The radius and length of arc of a sector are 10 cm and 15 cm respectively. Find its perimeter
 (A) 15 cm (B) 35 cm
 (C) 25 cm (D) 30 cm
 (E) Answer not known
180. $\sin 30^0, \sin 45^0$ மற்றும் $\sin 90^0$ என்பன எந்த விகிதத்தில் உள்ளன?
 (A) $1:\sqrt{2}:2$ (B) $1:2:3$
 (C) $\sqrt{2}:2:3$ (D) $1:2:2\sqrt{2}$
 (E) விடை தெரியவில்லை
 $\sin 30^0, \sin 45^0$ and $\sin 90^0$ are in what ratio?
 (A) $1:\sqrt{2}:2$ (B) $1:2:3$
 (C) $\sqrt{2}:2:3$ (D) $1:2:2\sqrt{2}$
 (E) Answer not known

181. ஒரு வகுப்பில் உள்ள 10 மாணவர்களின் சராசரி உயரம் 166 செ.மீ. எனக் கணக்கிடப்பட்டது. தகவல்களைச் சரிபார்க்கும் போது ஒரு மதிப்பு 150 செ.மீ க்கு பதிலாக 160 செ.மீ என குறிப்பிடப்பட்டது கண்டுபிடிக்கப்பட்டது எனில் சரியான சராசரி உயரம் காண்

- (A) 165 செ.மீ, (B) 160 செ.மீ,
 (C) 155 செ.மீ. (D) 170 செ.மீ.
 (E) விடை தெரியவில்லை

The average height of 10 students in a class was calculated as 166 cm. On verification it was found that one reading was wrongly recorded as 160 cm, instead of 150 cm. Find the correct mean height.

- (A) 165 cm (B) 160 cm
 (C) 155 cm (D) 170 cm
 (E) Answer not known

182. $x, 2x+2, 3x+3$ என்பன ஒரு பெருக்குத் தொடர் வரிசையிலிருப்பின் $11x, 22x+22, 33x+33$ என்ற தொடர் வரிசையானது

- (A) ஒரு கூட்டுத் தொடர் வரிசை
 (B) ஒரு பெருக்குத் தொடர் வரிசை
 (C) ஒரு மாறிலித் தொடர் வரிசை
 (D) ஒரு கூட்டுத் தொடர் வரிசையும் அல்ல பெருக்குத் தொடர் வரிசையும் அல்ல
 (E) விடை தெரியவில்லை

If $x, 2x+2, 3x+3$ are in G.P. then $11x, 22x+22, 33x+33$ form

- A. an A.P. B. a G.P.
 C. a constant sequence D. Neither A.P. nor a G.P.
 (E) Answer not known

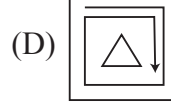
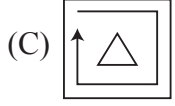
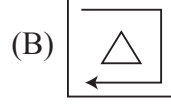
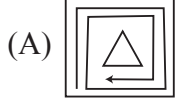
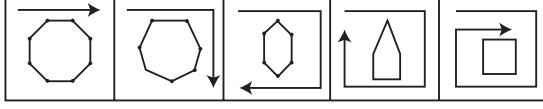
183. $\sqrt{6+\sqrt{6+\sqrt{6+\dots}}}$ -ன் மதிப்பைக் காண்க

- (A) 3 (B) 2
 (C) 4 (D) 1
 (E) விடை தெரியவில்லை

Find the value of $\sqrt{6+\sqrt{6+\sqrt{6+\dots}}}$

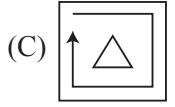
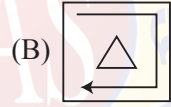
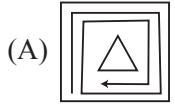
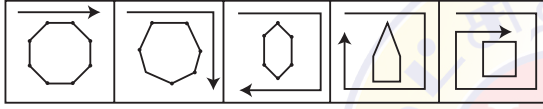
- (A) 3 (B) 2
 (C) 4 (D) 1
 (E) Answer not known

184. அடுத்த படம் என்ன ?



(E) விடை தெரியவில்லை

Find the next figure.



(E) Answer not known

185. 276 வீரர்கள் உள்ள ஒரு பட்டாளத்தில் 20 நாட்களுக்குத் தேவையான சமையல் பொருள்கள் உள்ளது. அந்தப் பொருள்கள் 46 நாட்களுக்கு நீடிக்க வேண்டுமெனில் எத்தனை வீரர்கள் இந்தப்பட்டாளத்தை விட்டுச் செல்ல வேண்டும்?

(A) 136

(B) 156

(C) 146

(D) 164

(E) விடை தெரியவில்லை

A troop has provisions for 276 soldiers for 20 days. How many soldiers leave the troop so that the provisions may last for 46 days.

(A) 136

(B) 156

(C) 146

(D) 164

(E) Answer not known

186. 'HUMBLE' என்பதை EHLUBM எனும் குறியீட்டால் தரப்படின் EDUCATION எனும் குறியீடு எதனைக் குறிக்கும்?

- (A) NEDOIUTCA (B) NEOIDUTCA
(C) NEDUOITCA (D) NEODIUTCA
(E) விடை தெரியவில்லை

If 'HUMBLE' is given by the code EHLUBM. What does the code EDUCATION mean?

- (A) NEDOIUTCA (B) NEOIDUTCA
(C) NEDUOITCA (D) NEODIUTCA
(E) Answer not known

187. ஒரு தேர்தலில் 30% மக்கள் வேட்பாளர் கி க்கு ஓட்டளித்தார்கள் மீதம் உள்ளவர்களில் 60% மக்கள் வேட்பாளர் னி க்கு ஓட்டளித்தார்கள். மற்றவர்கள் யாருக்கும் ஓட்டளிக்கவில்லை. வேட்பாளர் கி க்கு ஓட்டளித்தவர்களுக்கும் ஓட்டே போடாதவர்களுக்கும் உள்ள வித்தியாசம் 1200 என்றால் இந்த தேர்தலில் ஓட்டளிக்க தகுதியுள்ள மொத்த மக்கள் எத்தனை பேர்?

- (A) 40,000 (B) 50,000
(C) 60,000 (D) 6,000
(E) விடை தெரியவில்லை

In an election 30% of the voters voted for candidate A where as 60% of the remaining voted for candidate B. The remaining voters did not vote. If the difference between those who voted for candidate A and those who did not vote was 1200, how many were eligible for casting vote in that election?

- (A) 40,000 (B) 50,000
(C) 60,000 (D) 6,000
(E) Answer not known

188. A மற்றும் B இருவரும் சேர்ந்து ஒரு வேலையை 6 நாட்களில் முடிப்பர். B மட்டும் தனியாக அவ்வேலையை 10 நாட்களில் முடித்தால், அதே வேலையை A மட்டும் தனியாக செய்து முடிக்க எடுத்துக்கொள்ளும் நாட்கள்

- A) 14 நாட்கள் B) 18 நாட்கள்
(C) 12 நாட்கள் D) 15 நாட்கள்
(E) விடை தெரியவில்லை

If A and B, working together, can finish a work in 6 days and B alone can complete the work in 10 days, then A working alone, can complete the work in

- A) 14 days B) 18 days
(C) 12 days D) 15 days
(E) Answer not known

189. கீழ்க்காணும் பரவலின் சராசரி காண் .:

Value :	1	2	3	4	5	6
f:	1	3	2	4	8	2

- (A) 4.5 (B) 9
(C) 5 (D) 4
(E) விடை தெரியவில்லை

Find the median for the following distribution :

Value :	1	2	3	4	5	6
f :	1	3	2	4	8	2

- (A) 4.5 (B) 9
(C) 5 (D) 4
(E) Answer not known

190. ஒரு குறிப்பிட்ட அசலானது 6 வருடம் மற்றும் 4 வருடங்களில் முறையே ₹ 8,880 மற்றும் ₹ 7,920 கிடைக்குமெனில் அதன் வட்டி சதவீதத்தை காண்க(வட்டி முறை தனிவட்டி என கொள்க)

- A) 10% B) 12%
C) 15% D) 8%
E) விடை தெரியவில்லை

A certain of money amounts to ₹ 8,880 in 6 years ₹ 7,920 in 4 years respectively. Find the rate percent (Assume interest is simple interest)

- A) 10% B) 12%
C) 15% D) 8%
E) Answer not known

191. 20 பெண்கள் 16 நாட்களில் ஒரு வேலையை முடிப்பர் அதே வேலையை 16 ஆண்கள் 15 நாட்களில் முடிப்பர் எனில் ஆண்கள், பெண்கள் வேலைத்திறன் விகிதம் யாது?

- A) 5 : 4 B) 4 : 5
C) 3 : 4 D) 4 : 3
E) விடை தெரியவில்லை

20 women can do a work in 16 days. 16 men can do the same work in 15 days what is the ratio between the capacity of the men and the women?

- A) 5 : 4 B) 4 : 5
C) 3 : 4 D) 4 : 3
E) Answer not known

192. ஒரு நீர்தொட்டியை குழாய் A வழியாக நீர் விட்டு நிரப்பும் நேரத்தில் 4 மணி நேரம் ஆகிறது. அதே நேரத்தில் குழாய் B ஆனது 6 மணி நேரத்தில் தொட்டியை நீர் இல்லாமல் திறந்து விட்டு காலி செய்கிறது. ஒரே நேரத்தில் இரண்டுமே திறக்கப்பட்டால் தொட்டிகாலியாகும் வரை இதில் எத்தனை மணி நேரம் தொட்டியை நிரப்பப் பயன்படும் என்பதை கூறு

- A) 6 B) 8
C) 10 D) 12
E) விடை தெரியவில்லை

Pipe A can fill a cistern in 4 hours while pipe B can empty it in 6 hours. If both of them are opened together at the same time when the tank is empty, the number of hours taken by them to fill it is

- A) 6 B) 8
C) 10 D) 12
E) Answer not known

193. ஒரு அலுவலகம் காலை 9.30 மணியிலிருந்து மாலை 5.30 மணி வரை இயங்குகிறது. நண்பகல் 12.00 மணியிலிருந்து பிற்பகல் 1.15 மணி வரை உணவு இடைவேளை அலுவலகம் வாரத்தில் 6 நாட்கள் இயங்கினால், ஒரு வாரத்தில் அலுவலகம் இயங்கும் மொத்த மணி நேரம் எவ்வளவு?

- (A) 39 மணி 10 நிமிடம் (B) 36 மணி
(C) 40 மணி 30 நிமிடம் (D) 38 மணி
(E) விடை தெரியவில்லை

Working hours of an office is morning 9.30 to evening 5.30. There will be a Lunch break between 12 noon and 1.15 p.m. If the office functioning 6 days in a week, what is the total working hours of the office during a week.

- (A) 39 hours 10 minutes (B) 36 hours
(C) 40 hours 30 minutes (D) 38 hours
(E) Answer not known

194. ஒரு நிறுவனம் ஒரு விழாவை நடத்தியது. அதில் $\frac{1}{5}$ பாகம் மாணவிகளும், $\frac{1}{8}$ பாகம்

மாணவர்களும் கலந்து கொண்டனர். மொத்தத்தில் மாணவ மாணவியர் எந்தப் பின்னப்பகுதி கலந்து கொண்டனர்?

- (A) $\frac{2}{13}$ (B) $\frac{13}{40}$
(C) விவரம் போதாது
(D) மேற்கண்டவைகளில் ஒன்றுமில்லை
(E) விடை தெரியவில்லை

An institute organised a fete and $\frac{1}{5}$ of the girls and $\frac{1}{8}$ of the boys participated in the same. What fraction of the total number of students took part in the fete?

- (A) $\frac{2}{13}$ (B) $\frac{13}{40}$
(C) Data inadequate (D) None of these
(E) Answer not known

195. மூன்று சீரான நாணயங்கள் சுண்டப்படுகின்றன எனில் அதிகபட்சம் இரு தலைகள் கிடைக்க நிகழ்தகவு யாது?

- (A) 3/4 (B) 1/4
(C) 3/8 (D) 7/8
(E) விடை தெரியவில்லை

Three unbiased coins are tossed. What is the probability of getting at most two heads?

- (A) 3/4 (B) 1/4
(C) 3/8 (D) 7/8
(E) Answer not known

196. பத்து ஆண்டிற்குப் பிறகு ரம்யாவிற்கு ₹ 9,00,000 தேவைப்படுகிறது எனில் ஆண்டிற்கு 20% தனிவட்டி அளிக்கும் வங்கியில், ரம்யா எவ்வளவு அசலாக செலுத்த வேண்டும்?
 (A) ₹ 2,00,000 (B) ₹ 3,00,000
 (C) ₹ 4,00,000 (D) ₹ 5,00,000
 (E) விடை தெரியவில்லை
 If Ramya needs ₹ 9,00,000 after ten years, how much should she invest now, in a bank pays 20% simple interest
 (A) ₹ 2,00,000 (B) ₹ 3,00,000
 (C) ₹ 4,00,000 (D) ₹ 5,00,000
 (E) Answer not known
197. $x = 25$ எனில் $(5x^2 + 10x) \div (x+2)$ ன் மதிப்பானது
 (A) 125 (B) 175
 (C) 225 (D) 250
 (E) விடை தெரியவில்லை
 When $x=25$, the value of $(5x^2 + 10x) \div (x+2)$ is
 (A) 125 (B) 175
 (C) 225 (D) 250
 (E) Answer not known
198. 75 மீ நீளமுடைய ஒரு ஓடும் இரயிலின் வேகம், மணிக்கு 45 கி.மீ. எனில், 200 மீ நீளமுடைய இரயில் நடைமேடையினை எடுத்துக் கொள்ளும் கால அளவு யாது?
 (A) 42 வினாடிகள் (B) 22 வினாடிகள்
 (C) 20 வினாடிகள் (D) 36 வினாடிகள்
 (E) விடை தெரியவில்லை
 A train 75 m long is moving at a speed of 45 km per hour. How long will it take to pass a platform 200 long?
 (A) 42 seconds (B) 22 seconds
 (C) 20 seconds (D) 36 seconds
 (E) Answer not known
199. A, B, C என்ற மூவர் ஒரு வேலையை முறையே 8, 12, 16 நாட்களில் முடிப்பார்கள். A, C இருவரும் சேர்ந்து அவ்வேலையை 2 நாட்களுக்கு செய்தனர். பின்னர் C விலகுகிறார், B சேருகின்றார் எனில் A, B ஆகிய இருவரும் சேர்ந்து அவ்வேலையை எத்தனை நாட்களில் முடிப்பார்கள்?
 (A) 1 (B) 3
 (C) 4 (D) 5
 (E) விடை தெரியவில்லை
 Three men A, B and C can complete a job in 8, 12 and 16 days respectively. A and C work together for 2 days then C leaves and B joins. In how many days can A and B finish the work?
 (A) 1 (B) 3
 (C) 4 (D) 5
 (E) Answer not known

200. ஒரு அலமாரி 5% தள்ளுபடியில் ரூ.5225/- க்கு விற்கப்படுகிறது எனில், அதன் குறித்த விலை என்ன?

(A) ரூ. 5,000

(B) ரூ. 5,500

(C) ரூ. 6,500

(D) ரூ. 5,575

(E) விடை தெரியவில்லை

An almirah is sold at Rs. 5,225 after allowing a discount of 5%. Find its marked price.

(A) Rs.5,000

(B) Rs. 5,500

(C) Rs. 6,500

(D) Rs.5,575

(E) Answer not known





ஆட்சித்தமிழ்
ஐ.ஏ.எஸ் அகாடமி

Register
Number

--	--	--	--	--	--	--	--	--	--

2022
GENERAL TAMIL AND GENERAL KNOWLEDGE
(Degree Standard)

Duration : Three Hours]

[Total Marks : 300

Read the following instructions carefully before you begin to answer the questions.

IMPORTANT INSTRUCTIONS

1. You will be supplied with this question booklet 15 minutes prior to the commencement of the examination.
2. This question booklet contains 200 questions.
3. Part -B of answer sheet of the candidates will not be avaluated, if the candidate does not secure minimum qualifying mark (40% - i.e. 60 marks) in Part - A. For Part - A qualified candiates, marks obtained in Part-B only will be considered for ranking list.
4. Before answering the questions, you shall check whether all the questions are printed serially and ensure that there are no blank pages in the question booklet. If any defect is noticed in the question booklet, it shall be reported to the invigilator within the first 10 minutes and get it replaced with a complete question booklet. If the defect is reported after the commencement of the examination, it will not be replaced.
5. Answer all the questions. All the questions carry equal marks,
6. You must write your register number in the space provided on the top right side of this page. Do not write anything else on the question booklet.
7. An answer sheet will be supplied to you separately by the room invigilator to shade the answers. Instructions regarding filling of answers etc., which are to be followed mandatorily, are provided in the answer sheet and in the memorandum of admission (Hall Ticket).
8. You shall write and shade your question booklet number in the space provided on page one of the answer sheet with BLACK INK BALL POINT PEN. If you do not shade correctly or fail to shade the question booklet number, your answer sheet will be invalidated.
9. Each question comprises of five responses (answers) : i.e. (A), (B), (C), (D) and (E). You have to select ONLY ONE correct answer from (A) or (B) or (C) or (D) and shade the same in your answer sheet. If you feel that there are more than one correct answer, shade the one which you consider the best. If you do not know the answer, you have to mandatorily shade (E). In any case, choose ONLY ONE answer for each question. If you shade more than one answer for a question, it will be treated as a wrong answer even if one of the given answers happens to be correct.
10. You should not remove or tear off any sheet from this question booklet. You are not allowed to take this question booklet and the answer sheet out of the examination room during the time of the examination. After the examination, you must hand over your answer sheet to the invigilator. You are allowed to take the question booklet with you only after the examination is over.
11. You should not make any marking in the question booklet except in the sheets before the last page of the question booklet, which can be used for rough work. This should be strictly adhered to.
12. Question in Sl.No. 101 to 200 (Part-B) the English version is final
13. Failure to comply with any of the above instructions will render you liable for such action as the Commission may decide at their discretion.