



DR. APJ FREE COACHING CENTRE

TNPSC Group 2 Prelims Full Test 2 - 17-05-2022 – Answer Key

I. General Tamil

- படிமம் என்பதன் பொருள்
A)சொல் B)செயல்
C)காட்சி D)ஒலி
- பொருந்தாத இணையினைத் தேர்வு செய்க.
A)இனிப்பு தின்றான் - பண்பாகுபெயர்
B)பொங்கல் உண்டான் - காலவாகுபெயர்
C)தலைக்கு ஒரு பழம் கொடு - சினையாகு பெயர்
D)தமிழ்நாடு வெற்றிபெற்றது - இடவாகுபெயர்
- சரியான தொடரைத் தேர்வு செய்க.
A)அம்மா பசிக்கிது எனக்குச் சோறு வேணும்.
B)அம்மா! பசிக்கிறது. எனக்குச் சோறு வேண்டும்.
C)அம்மா, பசிக்கிறது. எனக்குச் சோறு வேண்டும்.
D)அம்மா, பசிக்கு, எனக்குச் சாப்பாடு வேண்டும்.
- கூறப்படும் இருபொருள்களில் ஒன்றை மட்டும் உருவகப்படுத்தி, மற்றொன்றை உருவகப்படுத்தாமல் விடுவது.
A)நிரல் நிறை அணி B)உருவக அணி
C)ஏகதேச உருவக அணி D)உவமை அணி
- பேசுவதைப் போலவே எழுதுவதும், எழுதுவது போலவே பேசுவதும் எனும் முயற்சியில் வெற்றிகண்டவர்.
A)ரா.பி.சேதுபிள்ளை B)தமிழண்ணல்
C)அண்ணா D)திரு.வி.க.
- பின்வரும் இசைக் கருவிகளின் பெயர்களை அகரவரிசைப் படுத்துக.
A)படகம், தவில், கணப்பறை, பேரியாழ், உறுமி, உடுக்கை, தவண்டை, பிடில், நாகசுரம், மகுடி
B)கணப்பறை, தவண்டை தவில், நாகசுரம், படகம், பிடில், பேரியாழ், மகுடி, உடுக்கை, உறுமை
C)உடுக்கை, உறுமி, கணப்பறை, தவண்டை, தவில், நாகசுரம், படகம், பிடில், பேரியாழ், மகுடி
D)தவில், உடுக்கை, கணப்பறை, தவண்டை, நாகசுரம், படகம், பிடில், பேரியாழ், மகுடி, உறுமி



7. "செய்வானை நாடி வினைநாடிக் காலத்தோடு
எய்த உணர்ந்து ____" விடுபட்ட சொல்லைத் தேர்க.
A)செயல் B)விடல்
C)கெடும் D)செயின்
8. பொருந்தாத ஒன்றைத் தேர்வு செய்க.
A)பசு B)ஆறு
C)விடு D)பகு
9. கூற்று : இரண்டாம் அடியின் இறுதியில் தனிச்சீர் பெற்று வரும்
வெண்பா நேரிசை வெண்பா.
காரணம் : இரண்டாம் அடியின் இறுதியில் தனிச்சொல் இல்லாமல்
வரும் வெண்பாவின் வகை இணை குறள் வெண்பா.
A)கூற்று சரி, காரணம் தவறு
B)கூற்று தவறு, காரணம் சரி
C)கூற்று காரணம் இரண்டும் சரி
D)கூற்று காரணம் இரண்டும் தவறு
10. திணையின் உட்பிரிவு.
A)பால் B)படலம்
C)இடம் D)எண்
11. 'சூடிய பூ சூடற்க' - என்ற சிறுகதையின் ஆசிரியர்.
A)மு.மேத்தா B)வெங்கடேசன்
C)நாஞ்சில் நாடன் D)வண்ணதாசன்
12. சொற்களை ஒழுங்குபடுத்தி சொற்றொடராக்குக.
A)நோயற்ற வாழ்வே குறைவில்லா வாழ்வு
B)நோயற்ற செல்வம் குறைவற்ற வாழ்வு
C)நோயற்ற வாழ்வே குறைவற்ற செல்வம்
D)குறைவற்ற செல்வம் நோயற்ற வாழ்வே
13. பறவை - பறக்கும் இனம் : பறவை - ?
A)மலை B)கடல்
C)ஒருவகை சொல்லாடல் D) A & B
14. குறிஞ்சித் திணைக்குரிய கருப்பொருள்களில் தவறான ஒன்றைத்
தேர்வு செய்க.
A)ஊர் - சீறுகுடி
B)பறவை - அன்னம்
C)மரம் - வேங்கை
D)பூ - காந்தள்

22. குறுந்தொகையை முதன்முதலில் பதிப்பித்தவர்.
 A)உ.வே.சா B)வ.உ.சி
 C)ஆறுமுக நாவலர் D)சௌரிபெருமாள் அரங்கனார்
23. கட்டிடக் கலையும், சிற்பக் கலையும் கொழிக்கும் ஊர்.
 A)காஞ்சிபுரம் B)மாமல்லபுரம்
 C)தஞ்சை D)கும்பகோணம்
24. தவறான இணையைத் தேர்வு செய்க.
 A)ஜாமீன் - பிணை
 B)சுவிசேஷம் - நற்செய்தி
 C)ஐக்கியம் - ஒற்றுமை
 D)பஜனை - ஆராதனை
25. தரவுகளைப் பொருத்துக:
 1)காசி விஸ்வநாதர் அ)டம்பாச்சாரி விலாசம்
 2)தெ.பொ.கிருஷ்ணசாமி ஆ)கதரின் வெற்றி
 3)மகேந்திர வர்மன் இ)மத்தவிலாச பிரகடனம்
 4)திண்டிவனம் இராமசாமி ஈ)பிரதாப சரித்திர விலாசம்
- | | 1 | 2 | 3 | 4 |
|----|---|---|---|---|
| A) | அ | ஈ | இ | ஆ |
| B) | அ | ஆ | இ | ஈ |
| C) | இ | ஈ | ஆ | ஆ |
| D) | அ | ஆ | ஈ | இ |
26. "தேவ ரனையர் கயவர் அவருந்தாம்
 மேவன செய்தொழுக லான்" - இக்குறட்பாவில் பயின்றுவந்துள்ள
 அணி.
 A)உவமையணி B)உருவக அணி
 C)வேற்றுமை அணி D)வஞ்சப்புக்கழ்ச்சி அணி
27. கால் + இறங்கி என்பதனைச் சேர்த்தெழுதக் கிடைக்கும் சொல்.
 A)கால்லிறங்கி B)காலிறங்கி
 C)கல்றங்கி D)கால் இறங்கி
28. "இப்போது வழங்கும் எல்லா மொழிகளிலும் தமிழே மிகப்
 பழமையானது" என்று கூறியவர்.
 A)ரைஸ்டேவிஸ் B)ஹீராஸ் பாகிரியார்
 C)பெர்சிவல் D)மாக்ஸ்முல்லர்
29. சரியான ஒன்றைத் தேர்வு செய்க.
 A)சேரல் - கேரல் - கேரலன் - கேரளன்
 B)கேரளன் - கேரலன் - கேரல் - சேரல்
 C)சேரலன் - கேரலன் - கேரல் - கேரளன்
 D)சேரன் - சேரல் - கேரல் - கேரளன்

30. கூற்று அ: விருத்தம் என்னும் ஒரே வகைச் செய்யுளில் அமைந்தவை -
 சீவகசிந்தாமணி, சிலப்பதிகாரம்.
 கூற்று ஆ: பாட்டும் உரைநடையும் கலந்து பல்வகைச் செய்யுள்களில் அமைந்தது கம்பராமாயணம்.
 A)கூற்று அ மட்டும் சரி
 B)கூற்று ஆ மட்டும் சரி
 C)கூற்று அ, ஆ இரண்டும் தவறு
 D)கூற்று அ, ஆ இரண்டும் சரி
31. "இணையில்லை முப்பாலுக்கு இந்நிலத்தே" என்று திருக்குறளைப் புகழ்ந்தவர்.
 A)ஜி.யு.போப்
 B)கவிமணி
 C)பாரதிதாசன்
 D)பெ.சுந்தரம்பிள்ளை
32. சிறிய திருவடி என்று அழைக்கப்படுபவன்.
 A)இலக்குவன்
 B)அனுமன்
 C)குகன்
 D)பரதன்
33. ஒழுங்கற்ற சொற்றொடரைத் தேர்வு செய்க.
 A)தமக்கென வாழாமல் பிறர்க்கென வாழ்ந்த செம்மல்
 B)ஆசனங்கள் உடலுக்கு நல்ல ஆரோக்கியத்தைத் தரும்
 C)யானை வரும் முன்னே மணியோசை வரும் பின்னே
 D)ஆலயம் தொழுவது சாலவும் நன்று
34. தவறான இணையைத் தேர்வு செய்க.
 A)மாசுண்ட = மாசு + உண்ட
 B)அரவணை = அரவு + அணை
 C)வீடினதன்றறன் = வீடினது + அன்றறன்
 D)பெருநாள் = பெருமை + நாள்
35. தரவுகளைப் பொருத்துக:
 1)முரசு அ)கஞ்சக் கருவி
 2)யாழ் ஆ)காற்றுக் கருவி
 3)குழல் இ)தோல்கருவி
 4)சேகண்டி ஈ)நரம்புக்கருவி
 A) இ ஈ அ ஆ
 B) அ ஈ ஆ இ
 C) இ ஈ ஆ அ
 D) அ ஈ இ ஆ
36. வாயில் - என்பதன் இலக்கணக் குறிப்பு தருக.
 A)இலக்கணப் போலி
 B)மருஉ
 C)தொடர்நிலை
 D)வினைமுற்று
37. "வண்புகழ் மூவர் தண்பொழில் வரைப்பு" என்று சேர சோழ பாண்டியர்கள் குறித்து கூறும் நூல்.
 A)நற்றிணை
 B)சிலப்பதிகாரம்
 C)புறநானூறு
 D)தொல்காப்பியம்

38. தன்நெஞ் சறிவது பொய்யற்க பொய்த்தபின்
தன்நெஞ்சே தன்னைச் சுடும் - பயின்றவந்துள்ள தொடை.
A) அடிமோனை B) அடிஎதுகை
C) சீர் மோனை, சீர் எதுகை D) அனைத்தும் சரி
39. "மொழி என்பது உலகின் போட்டி, போராட்டத்திற்கு ஒரு
போர்க்கருவியாகும்; அக்கருவிகள் காலத்திற்கேற்ப மாற்றப்பட
வேண்டும்; அவ்வப்பொழுது கண்டுபிடித்துக் கைக்கொள்ள
வேண்டும்" என்றவர்.
A) கால்டுவெல் B) எல்லீஸ்
C) பெரியார் D) ஹீராஸ் பாதிரியார்
40. வடமொழியில் 'காவ்யதரிசம்' என்ற நூலைத் தழுவித் தமிழில்
எழுதப்பட்ட இலக்கண நூல்.
A) தொல்காப்பியம் B) நன்னூல்
C) யாப்பருங்கலம் D) தண்டியலங்காரம்
41. தவறாக பொருந்தியுள்ளதைத் தேர்வு செய்க.
A) மணப்பாறை - மாட்டுச்சந்தை
B) ஒட்டன்சத்திரம் - காய்கறிச் சந்தை
C) தோவாளை - குதிரைச் சந்தை
D) ஈரோடு - ஜவுளிச் சந்தை
42. திருக்குறளில் இடம் பெற்ற ஒரே பழம்.
A) மாம்பழம் B) கோவைப்பழம்
C) நெருஞ்சிப்பழம் D) பனம்பழம்
43. இது ஓர் இயற்கைக் கருவி.
A) புல்லாங்குழல் B) எக்காளம்
C) சங்கு D) பாண்டில்
44. உடன்பாட்டு வாக்கியத்தில் அமைந்த தொடரைத் தேர்வு செய்க.
A) தமிழரசி புதுவைக்குச் சென்றாள்
B) மூத்தோர் சொல் கேள்
C) தமிழரசன் புதுவைக்குச் சென்றிலள்
D) குற்றால அருவியின் அழகுதான், என்னே!
45. முத்துக்குமாரசாமி பிள்ளைத் தமிழ் என்ற நூலின் ஆசிரியர்.
A) குமரகுருபரர் B) சேக்கிழார்
C) வேதநாயக சாஸ்திரி D) பலபட்டடை சொக்கநாதர்
46. கம்பர் படல் - என்பது.
A) மூன்றாம் வேற்றுமைத் தொகை
B) நான்காம் வேற்றுமைத் தொகை
C) ஐந்தாம் வேற்றுமைத் தொகை
D) ஆறாம் வேற்றுமைத் தொகை

47. 'கரிகாலன் கல்லணையைக் கட்டினான்' - இதில் பயின்றுவந்துள்ள இரண்டாம் வேற்றுமை பொருள் வகை.
A)ஆக்கல் B)அழித்தல்
C)அடைதல் D)நீத்தல்
48. பெரியாருடன் தொடர்புடைய தரவுகளை சரிபார்க்க.
1)தோற்றுவித்த இயக்கம் - சுயமரியாதை இயக்கம்
2)சுயமரியாதை இயக்கம் தோற்றுவிக்கப்பட்ட ஆண்டு - 1923
3)நடத்திய இதழ்கள் - குடியரசு, விடுதலை, உண்மை, ரிவோல்ட், இந்தியா
4)தெற்கு ஆசியாவின் சாக்ரடீஸ் பட்டம் - யுனெஸ்கோ
A)1 மட்டும் தவறு B)2 மட்டும் தவறு
C)3 மட்டும் தவறு D)4 மட்டும் தவறு
49. சொற்கள் பொருள் பொருத்தமுற அமைந்த சொற்றொடைரைக் காண்க.
A)பணி செய்து கிடப்பதே என் கடன்
B)என் கடன் செய்து கிடப்பதே பணி
C)செய்து பணி கிடைப்பதே என் கடன்
D)என் கடன் பணி செய்து கிடப்பதே
50. 'காலம் கரந்த பெயரெச்சம்' என்பது.
A)வினைத்தொகை B)வினையாலனையும் பெயர்
C)பெயரெச்சம் D)ஈறுகெட்ட எதிர்மறைப் பெயரெச்சம்
51. உழவர் நிலத்தை உழுதார் - எவ்வகை வாக்கியம்?
A)தன்வினை வாக்கியம் B)பிறவினை வாக்கியம்
C)செய்வினை வாக்கியம் D)செய்ப்பாட்டு வினை வாக்கியம்
52. தவறான இணையைத் தேர்வு செய்க.
A)பண்ப்பை -இரண்டாம் வேற்றுமை உருபும்பயனும்
உடன்தொக்க தொகை
B)பொற்சிலை -மூன்றாம் வேற்றுமை உருபும் பயனும்
உடன்தொக்க தொகை
C)மாட்டுக்கொட்டகை -நான்காம் வேற்றுமை உருபும் பயனும்
உடன்தொக்க தொகை.
D)வளர்தமிழ் - ஐந்தாம் வேற்றுமை உருபும் பயனும் உடன் தொக்க தொகை
53. செய்ப்பாட்டு வினை வாக்கியத்தை தேர்க.
A)திருவள்ளூவர் திருக்குறளை இயற்றினார்
B)நம்பி நாடகம் நடித்தான்
C)இலக்கணம் ஆசிரியரால் கற்பிக்கப்பட்டது
D)மாணவர்கள் வகுப்பைத் தூய்மை செய்தனர்.
54. கண்ணன் காலையில் வந்தான் - என்பது.
A)தன்வினைத் தொடர் B)பிறவினைத் தொடர்
C)செய்வினைத் தொடர் D)செய்ப்பாட்டு வினைத் தொடர்

55. குமரன் மழையில் நனைந்தான் - எவ்வகைத் தொடர்?
 A)எதிர்மறைவினைத் தொடர்
 B)உடன்பாட்டு வினைத் தொடர்
 C)செய்வினைத் தொடர்
 D)செயப்பாட்டு வினைத் தொடர்
56. கவிதா திருக்குறள் படித்தாள் - செயப்பாட்டு வினைத் தொடராக மாற்றுக.
 A)திருக்குறளைக் கவிதா படித்தாள்
 B)திருக்குறள் படிக்கப்பட்டது கவிதாவால்
 C)திருக்குறள் கவிதாவால் படிக்கப்பட்டது
 D)கவிதாவால் திருக்குறள் படித்தல்வ
57. பொருத்தமில்லாத இணையைத் தேர்வு செய்க.
 A)கண்ணன் காலையில் வந்தான் - தன்வினைத் தொடர்
 B)செல்வி நேற்று வரவழைத்தாள் - பிறவினைத் தொடர்
 C)கணவன் உணவு உண்ணாமலில்லை -எதிர்மறைவினைத் தொடர்
 D)மங்கை மழையில் நனைந்தாள் - உடன்பாட்டு வினைத் தொடர்
58. 'புதுக்கவிதையின் தோற்றமும் வளர்ச்சியும்' என்ற நூலின் ஆசிரியர்.
 A)வல்லிக்கண்ணன்
 B)பிச்சமூர்த்தி
 C)கு.அழகிரிசாமி
 D)பாரதிதாசன்
59. தவறான ஒன்றைத் தேர்வு செய்க.
 A)புலியைக் கொன்றான்
 B)அந்த தோட்டம்
 C)வீட்டுக்குப் போனேன்
 D)படித்துப் பார்
60. திருக்குறள் மொழிப்பெயர்ப்பு குறித்த தரவுகளைப் பொருத்துக:
 1)இலத்தீன் அ) தால்சுதாய்
 2)ஆங்கிலம் ஆ)டாக்டர்.கிரௌல்
 3)ஜெர்மன் இ)ஜி.யு.போப்
 4)உருசியம் ஈ)வீரமாமுனிவர்
 A) ஈ அ ஆ இ
 B) அ ஆ ஈ இ
 C) அ ஆ இ ஈ
 D) ஈ இ ஆ அ
61. நான்காம் வேற்றுமை உருபுடன் கூடுதலாக ____ எனும் அசை சேர்ந்து வரும்.
 A)ஆவான்
 B)உடைய
 C)இல்
 D)ஆக
62. இரவும் பகலும் - என்பது.
 A)உம்மைத் தொகை
 B)எண்ணும்மை
 C)முற்றும்மை
 D)அடிமுரண்
63. வேளாண் வேதம் என்று அறியப்படும் நூல்.
 A)நாலடியார்
 B)திரிகடுகம்
 C)ஏலாதி
 D)ஆசாரக்கோவை

64. மார்கழித் திங்கள் - என்பதன் இலக்கணக் குறிப்பு தருக.
 A)பண்புத்தொகை B)அன்மொழித்தொகை
 C)உவமைத் தொகை D)இருபெயரொட்டுப்
பண்புத்தொகை
65. 'கனகச்சுனை' என்னும் சொல்லைப் பிரித்து எழுதக் கிடைப்பது.
 A)கனகச் + சுனை B)கனக + சுனை
 C)கனகம் + சுனை D)கனம் + சுனை
66. தவறான இணையைத் தேர்வு செய்க.
 A)மல்லிகை மலர்ந்தது - வினையெச்சத் தொடர்
 B)நண்பா படி - விளித்தொடர்
 C)சென்றனர் வீரர் - வினைமுற்றுத் தொடர்
 D)வரைந்த ஓவியம் - பெயரெச்சத் தொடர்
67. கீழ்காணும் தரவுகளுள் கருத்தாவாகுபெயரைத் தேர்வு செய்க.
 A) நான்கு கிலோ கொடு B)ஒன்று பெற்றால் ஒளிமயம்
 C)பாரதியைப் படித்திருக்கிறேன் D)மூன்று லிட்டர் கொடு
68. 'செறாஅமை' - என்பதன் பொருள்.
 A)வெறுக்காமை B)மறவாமை
 C)அறிவின்மை D)பொறுமை
69. தமிழுக்கு கதியெனப் போற்றப்படும் நூல்கள்.
 A)சங்க இலக்கிய நூல்கள், பதினெண்கீழ்கணக்கு நூல்கள்
 B)தொல்காப்பியம், திருக்குறள்
 C)சங்க இலக்கிய நூல்கள்
 D)கம்பராமாயணம், திருக்குறள்
70. ஒலி வேறுபாடு அறிந்து சரியான பொருள் அறிதல்: உரு - உறு
 A)வடிவம், மிகுதி B)மிகுதி, வடிவம்
 C)வடிவம், துன்பம் D)மிகுதி, துன்பம்
71. தரவுகளைப் பொருத்துக:
 1)பொழிப்பு அ)1, 3, 4
 2)ஒருஉ ஆ)1, 2, 3
 3)மேற்கதுவாய் இ)1, 4
 4)கூழை ஈ)1, 3
- | | 1 | 2 | 3 | 4 |
|----|---|---|---|---|
| A) | ஈ | இ | அ | ஆ |
| B) | அ | ஆ | ஈ | இ |
| C) | ஆ | அ | ஈ | இ |
| D) | அ | இ | ஆ | ஈ |
72. கவிமுரசு பரிசு பெற்றாள் - எவ்வகை வாக்கியம்?
 A)செய்திவாக்கியம் B)வினா வாக்கியம்
 C)உடன்பாட்டு வாக்கியம் D)ஏவல் வாக்கியம்

73. அகரவரிசைப் படி சரியாக அமைந்த ஒன்றைத் தேர்வு செய்க.
A)அரண், அடவி, அழுவம், அரில், அறல், ஆரணி
B)அடவி, அழுவம், அரண், அரில், அறல், ஆரணி
C)அடவி, அரண், ஆரணி, அழுவம், அறல், அரில்
D)அடவி, அரண், அரில், அழுவம், அறல், ஆரணி
74. "உடம்பை வளர்த்தேன் உயிர் வளர்த்தேன்" இத்தொடரால் குறிக்கப்பெறும் சான்றோர்.
A)தாயுமானவர் B)இராமலிங்க அடிகளார்
C)திருமூலர் D)ஒளவையார்
75. கண்ணன் படித்தனன் - என்பது.
A)தெரிநிலை வினையெச்சம் B)குறிப்பு வினையெச்சம்
C)முற்றெச்சம் D)தெரிநிலை பெயரெச்சம்
76. கூழாங்கல் - பிரித்து எழுதுக.
A)கூழ் + ஆ + கல் B)கூழாம் + கல்
C)கூழ் + ஆம் + கல் D)கூழ் + கல்
77. பொருத்தமில்லாத ஒன்றைத் தேர்வு செய்க.
A)இன்னோசை B)பேரூர்
C)சிற்றோடை D)உறுபசி
78. நரிவிருத்தம் என்ற நூலின் ஆசிரியர்.
A)திருத்தக்க தேவர் B)ஒட்டகூத்தர்
C)வீரமாமுனிவர் D)கம்பர்
79. மரபுப் பிழையற்ற ஒன்றைத் தேர்வு செய்க.
A)இல்லத்தின் அருகே புதிதாகக் கூரை வேய்ந்திருந்தனர்
B)தென்னை மட்டையிலிருந்து நார் எடுத்தார்
C)அணில் பழம் சாப்பிட்டது
D)கொடியிலுள்ள மலரை எடுத்து வா
80. இறைஞ்சி - பிரித்து எழுதுக.
A)இறைஞ்சு + இ B)இறை + அஞ்சி
C)இறைஞ் + இ D)இற + ஐஞ்சி
81. புதுக்கவிதைக்கு வழங்கப்படும் பெயர்கள் குறித்த தரவுகளை ஆய்க.
1)இலகு கவிதை
2)கட்டற்ற கவிதை
3)விலங்கு இலாக் கவிதை
4)கட்டுக்குள் அடங்காக் கவிதை

A)1 & 4 மட்டும் சரி
C)1, 3, 4 மட்டும் சரி

B)2 & 4 மட்டும் சரி
D)அனைத்தும் சரி

82. என்னுடன் ஊருக்கு வருவாயா? என்ற வினாவிற்கு 'வராமல் இருப்பேனா? என்று கூறுவது.

A)வினா எதிர் வினாதல்
C)இனமொழி

B)உற்றது உரைத்தல்
D)உறுவது கூறல்

83. சாகித்திய அகாதெமி விருது பெற்ற தமிழ்ச் சிறுகதைகளை எழுத்தாளர்களுடன் பொருத்துக.

1)அன்பளிப்பு அ)ஆதவன்
2)சக்தி வைத்தியம் ஆ)தி.ஜானகிராமன்
3)முதலில் இரவு வரும் இ)அசோகமித்ரன்
4)அப்பாவின் சிநேகிதர் ஈ)கு.அழகிரிசாமி

	1	2	3	4
A)	அ	இ	ஈ	ஆ
B)	ஈ	ஆ	அ	இ
C)	இ	ஆ	அ	இ
D)	ஈ	ஆ	அ	இ

84. இனிய காட்சி - இலக்கணக்குறிப்பு தருக.

A)குறிப்புப் பெயரெச்சத் தொடர் B)பெயரடைத் தொடர்
C)வினையடைத் தொடர் D) A & B

85. தவறான இணையைத் தேர்வு செய்க.

A)காரணவினை - செய்வித்தான்
B)தன்வினை - அடங்கு
C)பிறவினை - காட்டு
D)செய்ப்பாட்டு வினை - தோசை வைக்கப்பட்டது

86. பிழையான இணையைத் தேர்வு செய்க.


A)நெடியவன் - இராவணன்
B)அன்னவன் - குகன்
C)பண்ணவன் - இலக்குவன்
D)சிறிய திருவடி - அனுமன்

87. சரியான இணையைத் தேர்வு செய்க.

A)அபயம் - பயிற்சி
B)நமூனா - விண்ணப்பம்
C)அண்டா - குவளை
D)கிஸ்தி - வாடகை

88. கூற்று : “கடலோடா கால்வல் நெடுந்தேர் கடலோடும்
நாவாயும் ஓடா நிலத்து” இத்திருக்குறள் பிறிது மொழிதல் அணிக்கு
காட்டாகும்.
காரணம் : உவமையை மட்டும் கூறி, அதன் மூலம் கூறவந்த கருத்தை
உணரவைப்பது பிறிதுமொழிதல் அணி எனப்படும்.
A)கூற்று தவறு, காரணம் சரி
B)கூற்று காரணம் இரண்டும் சரி
C)கூற்று சரி, காரணம் தவறு
D)கூற்று காரணம் இரண்டும் தவறு
89. கேட்க வேண்டிய பாடல் - இலக்கணக் குறிப்பு தருக.
A)பெயரெச்சங்கள் B)கூட்டுநிலைப் பெயரெச்சங்கள்
C)இணை பெயரெச்சங்கள் D)அடுக்கு பெயரெச்சங்கள்
90. நன்கு பேசினான் - இலக்கணக்குறிப்பு தருக.
A)குறிப்பு வினையெச்சத் தொடர்
B)தெரிநிலைப் பெயரெச்சத் தொடர்
C)தெரிநிலை வினையெச்சத் தொடர்
D)குறிப்புப் பெயரெச்சத் தொடர்
91. பதவியைவிட்டு நீக்கினான் - இத்தொடரைத் தன்வினைத் தொடராக
மாற்றுக.
A)பதவியிலிருந்து நீக்கினான்
B)பதவியிலிருந்து நீங்கினான்
C)பதவியைவிட்டு நீங்கினான்
D)பதவியைவிட்டு நீக்கப்பட்டான்
92. சிற்றிலக்கியங்களின் வகை.
A)98 B)96 C)94 D)86
93. கூற்று 1 : அறநூல்கள் பலவும் வெண்பாவால் அமைந்தவை.
கூற்று 2: சங்க இலக்கியங்கள் பலவும் ஆசிரியப்பாவால்
அமைந்தவை.
கூற்று 3: துள்ளல் ஓசை உடையது வஞ்சிப்பா
கூற்று 4: தூங்கல் ஓசை உடையது கலிப்பா
A)கூற்று 1, 2 மட்டும் சரி B)கூற்று 1 மட்டும் சரி
C)கூற்று 3, 4 மட்டும் சரி D)கூற்று 4 மட்டும் சரி
94. சரியான ஒன்றைத் தேர்வு செய்க.
A)தாய்தந்தை B)வெற்றிலைப்பாக்கு
C)எழுதுப்பொருள் D)சுடுச்சோறு

95. மற்று + பிற :- இதில் மற்று என்னும் சொல்.
A)உரிச்சொல் B)இடைச்சொல்
C)வேற்றுமைச்சொல் D)சொல்லடை
96. நாவின் முதற்பகுதி, அண்ணத்தின் அடிப்பகுதியைப் பொருந்துவதால் பிறக்கின்ற எழுத்துகள்.
A)ட, ண் B)ர், ழ் C)க்.ங் D)ற், ன்
97. சரியான திருக்குறளைப் தேர்க.
A)பொருளல் லவரைப் பொருளாகச் செய்யும் பொருளல்லது இல்லை பொருள்
B)கொடுப்பா இல்லாத ஏமர மன்னன் இடிப்பா ரிலானுங் கெடும்
C)ஊழி பெயரினும் தாம்பெயரார் சான்றாண்மைக்கு வார் எனப்படு ஆழி
D)எழுபிறப்பும் உள்ளுவர் தங்கண் எழுமை விழுமந் துடைத்தவர் நட்பு
98. "தினையளவு போதாச் சிறுபுல் நீர் நீண்ட பனையளவு காட்டும் படித்தால்" பாடியவர்.
A)ஒளவையார் B)கபிலர்
C)மாங்குடி மருதனார் D)பரணர்
99. எலிகுஞ்சு - என்பது.
A)பண்புத் தொகை B)இருபெயரொட்டுப் பண்புத்தொகை
C)பெயரெச்சம் D)வினைத்தொகை
100. பொருந்தாத ஒன்றைத் தேர்வு செய்க.
A)அரசு B)பாட்டு
C)பஞ்சு D)கெடு



DR. APJ FREE COACHING CENTRE

TNPSC Group 2 Prelims Full Test 2 - 17-05-2022 – Answer Key

II. General Studies

1. A gardener wanted to reward a girl for her good deeds by giving some apples. He gave 2 apples on the first day, 4 on the second day, 8 on the day, 16 apples on the fourth day and so on for ten days. How many apples did she get from the gardener at the end of the tenth day?

- A) 1024 B) 2060 C) 1760 D) 2046

1. நற்பணி செய்த ஒரு சிறுமிக்கு பரிசளிக்க விரும்பி தோட்டக்காரர் சில ஆப்பிள்களை பரிசாக அளிக்க முன் வந்தார். முதல் நாள் 2 ஆப்பிள்கள், இரண்டாம் நாள் 4 ஆப்பிள்கள், மூன்றாம் நாள் 8 ஆப்பிள்கள், நான்காம் நாள் 16 ஆப்பிள்கள் எனுமாறு 101 நாட்கள் அளித்தார். 10 நாள் முடிவில் அச்சிறுமி பெற்றுக் கொண்ட மொத்த ஆப்பிள்கள் எவ்வளவு?

- A) 1024 B) 2060 C) 1760 D) 2046

2. (i) The report is prepared by UNDP and the Oxford Poverty & Human Development Initiative

(ii) The focus of the 2019 report is: "to illuminate inequality"

What does this mean?

- A) Gender Inequality Index B) Gender Development Index
C) Multidimensional Poverty Index D) Human Development Index

2. (i) UNDP மற்றும் ஆக்சுபோர்டு வறுமை மற்றும் மனிதவள முன்னெடுப்பு நிறுவனம் இணைந்து இவ்வறிக்கையை தயாரிக்கிறது.

(ii) 2019 அறிக்கையின் மையக்கரு: “ சமத்துவமின்மையை ஒளியூட்டிக் காட்ட”

- இது எதைக் குறிப்பிடுகிறது?

- A) பாலின சமத்துவமின்மைக் குறியீடு B) பாலின மேம்பாட்டுக் குறியீடு
C) பல்பரிமாண வறுமைக் குறியீடு D) மனிதவள மேம்பாட்டுக் குறியீடு

3. Identify the incorrect statement about sherShah suri

- A) Farid was his birth name
B) He gave himself the title 'Sher Khan'
C) He founded the dynasty known as 'Sur dynasty'
D) He has been called as the 'Forerunner of Akbar'

3. ஷெர்ஷா சூரி தொடர்பான தவறான கூற்றைக் கண்டறியவும்.

- A) இவரின் இயற்பெயர் பரித்



- B) இவர் தனக்கு தானே 'ஷெர்கான்' என்ற பட்டத்தை அளித்துக் கொண்டார்
C) அவர் நிறுவிய பேரரசு 'சூர் வம்சம்' என அழைக்கப்பட்டது
D) இவர் 'அக்பரின் முன்னோடி' என அழைக்கப்பட்டார்.

4. Notice the following sentences

1. Paayiram has divided into two types as General Paayiram and Special Paayiram.

2. The first edition of Nunnall was published in 1834.

Which of the following is correct?

- A) 1 only B) 2 only C) Both D) None of this

4. பின்வரும் வாக்கியங்களை கவனிக்க

1. பாயிரம் பொதுப்பாயிரம், சிறப்பு பாயிரம் என இருவகைப்படும்.

2. நன்னூலில் முதல் பதிப்பு 1834ல் வெளியானது.

மேற்கூறியவற்றில் சரியானவை எது/எவை?

- A) 1 மட்டும் B) 2 மட்டும் C) இரண்டும் D) இரண்டுமில்லை

5. ----- session of the INC passed a resolution for the Boycott of Simon Commission in 1927

- A) Bombay B) Calcutta C) Madras D) Lahore

5. 1927-ல் எந்த நகரில் நடந்த காங்கிரஸ் கூட்டத் தொடரில் "சைமன் குழு புறக்கணிப்புத் தீர்மானம்" நிறைவேற்றப்பட்டது?

- A) பம்பாய் B) கல்கத்தா C) சென்னை D) லாகூர்

6. If a Panchayat is dissolved, elections are to be held within

- A) 1 month B) 3 months C) 6 months D) 1 year

6. ஒரு பஞ்சாயத்து கலைக்கப்பட்டால் எந்த கால அளவிற்குள் அடுத்த தேர்தல் நடத்தப்பட வேண்டும்?

- A) 1 மாதம் B) 3 மாதங்கள் C) 6 மாதங்கள் D) 1 வருடம்

7. What is Mission Raftar?

A) Cleanliness in Railways

B) Rationalising railway tariff

C) Doubling the average speed of freight trains

D) Increasing passenger convenience

7. ராப்தர் திட்டம் என்பது என்ன?

- A) இரயில்வே இடங்களை தூய்மையாக வைப்பதற்கான திட்டம்
- B) நியாயமான முறையில் இரயில்வே கட்டணத்தை அமைத்தல்
- C) சரக்கு ரயில்களின் சராசரி வேகத்தை இரட்டிப்பு ஆக்குதல்
- D) இரயில்வே பயணிகளின் வசதியினை மேம்படுத்துதல்

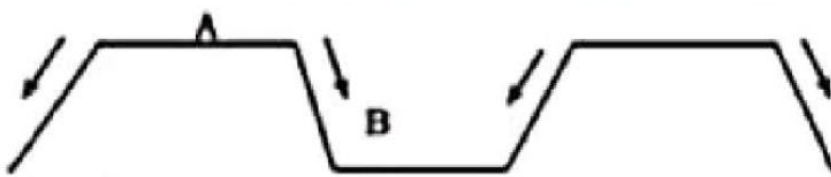
8. What is the usual time period for revising the base year of National Income released by CSO (Central Statistical Office)?

- A) 10 years
- B) 5 years
- C) 15 years
- D) No time limit

8. மத்திய புள்ளியில் அலுவலகம் வெளியிடும் தேசிய வருமானத்தின் அடிப்படை ஆண்டு வழக்கமாக எத்தனை ஆண்டுகளுக்கு ஒரு முறை திருத்தியமைக்கப்படும்?

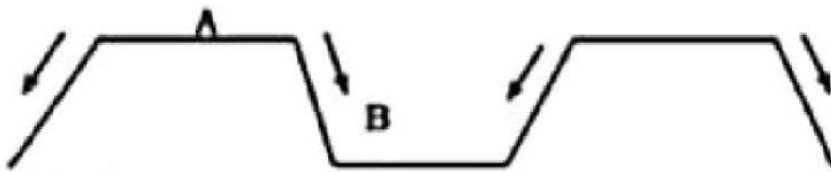
- A) 10 ஆண்டுகள்
- B) 5 ஆண்டுகள்
- C) 15 ஆண்டுகள்
- D) கால வரையறை இல்லை

9. The Point marked 'A' and 'B' in the figure is



- A) Fold mountain and V-Shaped valley
- B) Rift valley and Block mountain
- C) Block mountain and rift valley
- D) Old fold mountain and Rift valley

9. படத்தில் உள்ள 'A' மற்றும் 'B' குறிப்பது



- A) மடிப்பு மலை மற்றும் V-வடிவப் பள்ளத்தாக்கு
- B) பிளவுப் பள்ளத்தாக்கு மற்றும் பித்ர்வுமலை
- C) பித்ர்வு மலை மற்றும் பிளவுப் பள்ளத்தாக்கு
- D) பழைய மடிப்பு மலை மற்றும் பிளவுப் பள்ளத்தாக்கு

10. Which of following monomer used to manufacture of Dacron?

- A) Ethylene glycol
- B) Phthalic acid
- C) Terephthalic acid
- D) Both A and C

10. கீழ்க்கண்ட எந்த ஓரின மூலக்கூறு டெக்ரான் தயாரிக்கப் பயன்படுகிறது?

- A) எத்திலீன் கிளைகால்
- B) ப்தாலிக் அமிலம்
- C) டெரிப்தாலிக் அமிலம்
- D) A மற்றும் C இரண்டும்

11. Which of the following is/are correct (As on 2019)

(i) Assam is one of the states with the highest HDI

(ii) Madhya Pradesh is one of the least HDI state

(iii) Chandigarh is the first in the Union Territories with the highest HDI

- A) ii only B) i and iii C) I and ii **D) ii and iii**

11. சரியானது எது? / எவை? (2019 அறிக்கையின் படி)

(i) உயர்ந்த மனிதவள மேம்பாடு அடைந்த மாநிலங்களுள் ஒன்று அஸ்ஸாம்

(ii) குறைந்த மனிதவள மேம்பாடு அடைந்த மாநிலங்களுள் ஒன்று மத்தியப் பிரதேசம்

(iii) மிக உயர்ந்த மனிதவள மேம்பாடு அடைந்த யூனியன் பிரதேசங்களில் முதலிடம் வகிப்பது சண்டிகர்.

- A) (ii) மட்டும் B) (i) மற்றும் (iii) C) (i) மற்றும் (ii) **D) (ii) மற்றும் (iii)**

12. Identity the correct statements.

I. The reign of Akbar has been considered as 'the Golden Age of the Mughals'

II. Shah Jahan has been called as 'Engineer King'

III. Akbar issued 'the Infallibility Decree'.

IV. Aurangzeb introduced a 'mansabdari'.

- A) I and II only **B) II and III only** C) I,II and III only D) II, III, and IV only

12. சரியான கூற்றுகளை கண்டறியவும்.

1. அக்பரின் ஆட்சிக் காலம் 'மொகலாயர்களின் பொற்காலம்' என்று அழைக்கப்படுகிறது.

2. ஷாஜஹான் 'பொறியாளர் பேரரசர்' என்ற சிறப்பிக்கப்படுகிறார்.

3. அக்பர் 'தவறுபடா ஆணையினை' பிரகடனப்படுத்தினார்.

4. ஔரங்கசீப் 'மன்சப்தாரி முறையினை' அறிமுகப்படுத்தினார்

- A) 1 மற்றும் 2 மட்டும் **B) 2 மற்றும் 3மட்டும்** C) 1,2மற்றும் 3மட்டும் D) 2,3 மற்றும் 4மட்டும்

13. In which country a new road named as "Vanni Road"?

- A) Canada** B) Sri Lanka C) Bangladesh D) London

13. எந்நாட்டில் உள்ள புதிய சாலைக்கு 'வன்னி வீதி' எனப் பெயர் சூட்டப்பட்டிருக்கிறது?

- A) கனடா** B) இலங்கை C) வங்கதேசம் D) லண்டன்

14. Match the following List 1 with List 2

A) Spiritual Guru of Gandhi	1. Rajaji
B) Political Successor of Gandhi	2. Shrimad Rajchandra
C) Gandhi's Conscience Keeper	3. V.Kalyanam
D) Gandhi's Personal Secretary	4. Gopal Krishan Kokhale
	5. Jawaharlal Nehru

A) காந்தியின் ஆன்மிக குரு	1. ராஜாஜி
B) காந்தியின் அரசியல் வாரிசு	2. ஸ்ரீமத் ராஜ்சந்திரா
C) காந்தியின் மனசாட்சியின் பாதுகாவலன்	3. வி.கல்யாணம்
D) காந்தியின் தனிப்பட்ட செயலாளர்	4. கோபால கிருஷ்ண கோகலே
	5. ஜவஹர்லால் நேரு

- A) 2 5 1 3** **B) 4 5 1 2** **C) 2 1 5 3** **D) 3 5 4 1**

15. Which among the following are the Fundamental Duties as mentioned in Article-51A of the Constitution?

1. To uphold and Protect Sovereignty
2. To Safeguard public Property
3. To pay taxes
4. Family planning

A) 1,2 and 3 only B) 1,3 and 4 only **C) 1 and 2 only** D) All the above

15. கீழ்க்கண்டவற்றுள் அரசியலமைப்புச் சட்டத்தின் சரத்து 51-A வின் கீழ் கொடுக்கப்பட்டுள்ள அடிப்படை கடமைகள் யாவை?

1. இறையாண்மையினை நிலைநாட்டுவதும் பாதுகாப்பதும்
2. பொது சொத்துக்களைப் பாதுகாப்பது
3. வரி செலுத்துதல்
4. திட்டமிட்ட குடும்பம்

A) 1,2 மற்றும் 3 மட்டும் B) 1,3 மற்றும் 4 மட்டும்
C) 1 மற்றும் 2 மட்டும் D) மேற்கூறிய அனைத்தும்

16. Match the following List 1 with List 2.

A) UNICEF	1. Paris
B) WHO	2. Vienna
C) UNESCO	3. New York
D) OPEC	4. Geneva

A) 2 3 1 4 B) 3 1 4 2 C) 3 1 2 4 **D) 3 4 1 2**

16. பட்டியல் 1ஐ பட்டியல் 2உடன் பொருத்துக

A) ஐக்கிய நாடுகளின் சிறுவர் நிதியம் (UNICEF)	1. பாரிஸ்
B) உலக சுகாதார நிறுவனம்	2. வியன்னா
C) ஐக்கிய நாடுகள் கல்வி, அறிவியல், பண்பாட்டு நிறுவனம் (UNESCO)	3. நியூயார்க்
D) எண்ணெய் மற்றும் பெட்ரோலியம் ஏற்றுமதி நாடுகளின் கூட்டமைப்பு (OPEC)	4. ஜெனிவா

A) 2 3 1 4 B) 3 1 4 2 C) 3 1 2 4 **D) 3 4 1 2**

17. Match the following List 1 with List 2

A) First five year plan	1. Rapid Industrialisation
B) Second five year plan	2. Self-Reliance
C) Third five year plan	3. Prioritizing Agriculture
D) Fourth five year plan	4. Improving Underprivileged

A) 2 3 4 1 B) 1 3 2 4 **C) 3 1 2 4** D) 1 2 3 4

17. பட்டியல் 1ஐ பட்டியல் 2 உடன் பொருத்துக

A) முதலாவது ஐந்தாண்டு திட்டம்	1. விரைவான தொழில்மயமாக்கல்
B) இரண்டாவது ஐந்தாண்டு திட்டம்	2. தற்சார்புடைமை
C) மூன்றாவது ஐந்தாண்டு திட்டம்	3. வேளாண்மைக்கு முன்னுரிமை
D) நான்காவது ஐந்தாண்டு திட்டம்	4. சமுதாயத்தின் அடிநிலை மக்களை மேம்படுத்துதல்

A) 2 3 4 1

B) 1 3 2 4

C) 3 1 2 4

D) 1 2 3 4

18. Choose the wrong pair

A. Neeraj Chopra	-	Javelin throw
B. Bajrang Punia	-	Wrestler
C. Ravi Kumar Dahiya	-	Archery
D. Lovlina Borgohain	-	Boxer

தவறான இணையை தேர்ந்தெடுக்கவும்

A. நீரஜ் சோப்ரா	-	ஈட்டி எறிதல்
B. பஜ்ரங் புனியா	-	மல்யுத்த வீரர்
C. ரவி குமார் தஹியா	-	வில்வித்தை
D. லவ்லினா போர்கோஹைன்	-	குத்துச்சண்டை வீரர்

19. Consider the following statements.

i. Pheromones are the insect hormones which are the principal means of communication between the insects.

ii. Pheromones does not use for pest control.

iii. Pheromones are useful in attracting female.

iv. Pheromones are secreted by males.

Which of the above statements is/are incorrect?

A) i and iv only B) ii and iv only C) i and iii only D) ii, iii and iv only

19. பின்வரும் கூற்றுகளை கவனிக்கவும்.

i. ∴ பெரோமோன்கள் பூச்சிகளிடையே செய்தி பரிமாற்றத்திற்குப் பயன்படுகின்றன.

ii. ∴ பெரோமோன்களைப் பயன்படுத்தி பூச்சிகளைக் கட்டுப்படுத்த முடியாது.

iii. ∴ பெரோமோன்கள் ஹார்மோன்கள் பெண் பூச்சிகளை கவர்ந்து இழுக்கப்பயன்படுகிறது.

iv. ∴ பெரோமோன் ஹார்மோன்கள் ஆண் பூச்சியினங்கள் சுரக்கின்றன.

மேற்கண்டவற்றுள் தவறானது எது/எவை?

A) i மற்றும் iv மட்டும் B) ii மற்றும் iv மட்டும் C) i மற்றும் iii மட்டும் D) ii, iii மற்றும் iv மட்டும்

20. If 123 represents "GOD", 456 represents "CAT", Then "DOG EAT EGG" may be represented by

A) 321 456 411 B) 321 756 811 C) 321 856 911 D) 321 756 711

20. 123 என்பது "GOD" என்பதையும் 456 என்பது "CAT" என்பதையும் குறித்தால் "DOG EAT EGG" என்பது எதனால் குறிக்கப்படலாம்

A) 321 456 411 B) 321 756 811 C) 321 856 911 D) 321 756 711

21. Which one of the following is wrong

- A. Punjab - Amrinder Singh
B. Dada Saheb Phalke award 2019 - Rajinikanth
C. Pulitzer Prize - Danish Siddiqui
D. PSLV C52 - RISAT1A

பின்வருவனவற்றில் எது தவறு

- A. பஞ்சாப் - அம்ரீந்தர் சிங்
B. தாதா சாகேப் பால்கே விருது 2019 - ரஜினிகாந்த்
C. புலிட்சர் பரிசு - டேனிஷ் சித்திக்
D. PSLVC52 - RISAT1A

21. The Government of Tamil Nadu provides quality sanitary napkins under the menstrual hygiene program to girls age group between

- A) 10 and 13 B) 10 and 18 C) 10 and 19 D) 10 and 16**

21. தமிழக அரசு மாதவிடாய் கால சுகாதாரத்திட்டத்தின் கீழ் தரம் வாய்ந்த சானிடரி நாப்கின்களை ----- முதல் ----- வரையுள்ள வளரிளம் பெண்களுக்கு வழங்கி வருகின்றது.

- A) 10 முதல் 13 B) 10 முதல் 18 C) 10 முதல் 19 D) 10 முதல் 16**

22. Tip Sultan's Family was sent to ----- jail after Vellore Mutiny in 1806.

- A) Rangoon B) Port Blair C) Calcutta D) Mysore**

22. 1806 ஆண்டு வேலூர் புரட்சியின் முடிவில் திப்பு சுல்தானின் குடும்பத்தினர் ----- நகரில் உள்ள சிறையில் அடைக்கப்பட்டனர்

- A) இரங்கூன் B) போர்ட்பிளேர் C) கல்கத்தா D) மைசூர்**

23. Which is the state tree of Tamil Nadu?

- A) Coconut B) Mango C) Banana D) Palm tree**

23. தமிழ்நாட்டின் மாநில மரம் எது?

- A) தென்னை B) மாமரம் C) வாழை D) பனைமரம்**

24. In 1916, Annie Besant started the Home Rule League in India on the pattern of the movement in -----

- A) France B) Russia C) USA D) Ireland**

24. 1916-ல் அன்னிபெசன்ட் மூலம் இந்தியாவில் தொடங்கப்பட்ட தன்னாட்சி இயக்கமானது எந்த நாட்டில் உருவான அமைப்பினை ஒத்து இருந்தது?

- A) பிரான்சு B) ரஷ்யா C) அமெரிக்கா D) அயர்லாந்து**

25. Who authorizes the withdrawal of fund from the Consolidated Fund of India?

- A) The President of India** **B) The Parliament of India**
C) The Prime Minister of India **D) The Union Finance Minister**

25. இந்திய அரசின் தொகுதி நிதியிலிருந்து நிதியத்தைப் பெறுவதற்கு யாருடைய அனுமதி தேவை?

- A) இந்திய குடியரசுத் தலைவர்** **B) இந்திய நாடாளுமன்றம்**
C) இந்திய பிரதமர் **D) மத்திய நிதி அமைச்சர்**

26. Which among the following ministry launches Swachh Sarvekshan Grameen in India?

- A) Union Ministry of Drinking Water and Sanitation**
B) Union Ministry of Rural Development
C) Union Ministry of Health and Family Welfare
D) Union Ministry of Panchayati raj

26. கீழ்க்கண்டவற்றுள் சுவச் சர்வேக்ஷன் கிராமின் திட்டத்தினை செயல்படுத்தும் அமைச்சகம் எது?

- A) குடிநீர் மற்றும் தாய்மை மேம்பாட்டு அமைச்சகம்**
B) ஊரக வளர்ச்சித்துறை அமைச்சகம்
C) சுகாதாரம் மற்றும் குடும்ப நலன் அமைச்சகம்
D) பஞ்சாயத்து ராஜ் அமைச்சகம்

27. The type of Unemployment occurs in an economy due to recession is termed as

- A) Cyclical Unemployment** **B) Frictional Unemployment**
C) Seasonal Unemployment **D) Voluntary Unemployment**

27. மந்த நிலையின் காரணமாக பொருளாதாரத்தில் ஏற்படும் வேலையின்மை எவ்வாறு கூறுவார்கள்?

- A) சுழல் வேலையின்மை** **B) பிறழ்ச்சி வேலையின்மை**
C) பருவ வேலையின்மை **D) விருப்ப வேலையின்மை**

28. Consider the following statements.

Assertion (A): On 21st March the sun is directly overhead at the equator.

Reason (R): Throughout the world on 21st March all the places experience almost equal hours of day and Night.

- A) A and R are true and R is the correct explanation of A**
B) A and R are true but R is the not correct explanation of A
C) A is true but R is false
D) A is false but R is true

28. பின்வரும் வாக்கியங்களை கருத்தில் கொள்க.

கூற்று அ: மார்ச் 21ல் சூரியன் நிலநடுக்கோட்டிற்கு மேல் செங்குத்தாக காணப்படுகிறது.

காரணம் ஆ: மார்ச் 21-ல் உலகம் முழுவதும் இரவும் பகலும் சம அளவில் காணப்படுகிறது.

A) அ மற்றும் ஆ இரண்டும் சரி, மேலும் ஆ என்பது அ-விற்கு சரியான விளக்கம்

B) அ மற்றும் ஆ இரண்டும் சரி, ஆனால் ஆ என்பது அ-விற்கு சரியான விளக்கமல்ல

C) அ சரி ஆனால் ஆ தவறு

D) அ தவறு ஆனால் ஆ சரி

29. A man with his arms stretched out is sitting on a rotating stool suddenly he folds his arms. Then the angular velocity is,

A) Decreases

B) Increases

C) Becomes Zero

D) Remains Constant

29. கைகள் நீட்டப்பட்ட நிலையில், சுழலும் நாற்காலியின் மீது அமர்ந்திருக்கும் ஒருவர், தீரென கைகளை மடக்கும் போது ஏற்படும் கோணத் திசைவேகம் எவ்வாறு இருக்கும்?

A) குறையும்

B) அதிகமாகும்

C) சுழியாகும்

D) மாறாமலிருக்கும்

30. Mala and Latha each had a number of bangles. Mala said to Latha "If you give me 4 of your bangles, my number will be thrice yours. Latha replied "If you give me 36, my number will be thrice yours". What is the total bangles together with them?

A) 70

B) 80

C) 90

D) 100

30. மாலாவிடமும், லதாவிடமும் வளையல்கள் உள்ளன. "நீ எனக்கு 4 வளையல்களைத் தந்தால் என்னிடம் உள்ள வளையல்களின் எண்ணிக்கை உன்னிடம் உள்ளதைப் போல் மூன்று மடங்கு என மாலா, லதாவிடம் கூறினாள். நீ எனக்கு 36 வளையல்களைத் தந்தால் என்னிடம் உள்ள வளையல்களின் எண்ணிக்கை என்னிடம் உள்ளதைப் போல் மூன்று மடங்காகும்" என லதா பதிலளித்தார் எனில் இருவரிடமும் சேர்ந்து மொத்தம் உள்ள வளையல்களின் எண்ணிக்கை எவ்வளவு?

A) 70

B) 80

C) 90

D) 100

31. Claim 1: The first Commission for the Development of Backward Classes in India was set up in 1953.

Claim 2: Kaka Kalelkar was its leader

Claim 3: It was the first Commission of Independent India

Claim 4: The Provisional Chairman of this Commission was Thawar

Chand Gehlot

A) 1 and 4 are correct

B) 1,2 and 3 are correct

C) 3 and 4 are correct

D) All right

31. கூற்று 1: இந்தியாவில் பிற்படுத்தப்பட்ட பிரிவினரின் மேம்பாட்டிற்காக முதல் ஆணையம் 1953-ம் ஆண்டு அமைக்கப்பட்டது.

கூற்று 2: காகா காலேல்கர் அதன் தலைவரானார்

கூற்று 3: சுதந்திர இந்தியாவின் முதல் ஆணையம் இது

கூற்று 4: இந்த ஆணையத்தின் தற்காலிக தலைவர் தாவர்சந்த் கெஹ்லோட் ஆவார்.

A) 1 மற்றும் 4 சரியானது

B) 1,2 மற்றும் 3 சரியானது

C) 3 மற்றும் 4 சரியானது

D) அனைத்தும் சரியானது

32. Who helped the British to capture Kattabomman?

- A) Sevappa Nayak
C) Serfoji II

- B) Vijaya Rahunatha Thondaiman
D) Muthu Vadukanath Devar

32. கட்ட பொம்மனை ஆங்கிலேயரிடம் பிடித்துக் கொடுக்க உதவியவர் யார்?

- A) சேவப்ப நாயக்கர்
C) இரண்டாம் சரபோஜி

- B) விஜயரகுநாத தொண்டைமான்
D) முத்துவடுகநாத தேவர்

33. Notice the following sentences

1. "Madaii dangani vandalum Aadum" in which the word 'idangani' is a type of melodic mode.

2. Female agriculturist song belongs to "Pulan" literature.

Which of the above is not true?

A) 1 only

B) 2 only

C) Both

D) None of this

33. பின்வரும் வாக்கியங்களை கவனிக்க

1. "மடைஇ டங்கணி வந்துளம் ஆடும்" இதில் உள்ள 'இடங்கணி' எனும் சொல்லின் பொருள் ஒரு வகைப் பண்.

2. உழத்திப் பாட்டு 'புலன்' எனும் இலக்கிய வகையைச் சாரும் மேற்கூறியவற்றில் தவறானவை எது/எவை?

A) 1 மட்டும்

B) 2 மட்டும்

C) இரண்டும்

D) இரண்டுமில்லை

34. Find out the incorrectly matched pair

Person

Participation Event

A) Indulal Yagnik	Kheda Satyagraha
B) Kalpana Dutt	Chittagong Uprising
C) Subash Chandra Bose	Quit India Movement
D) Usha Mehta	Congress Radio

34. தவறாக பொருந்தியுள்ள இணையை கண்டறிக.
நபர்கள்

பங்கேற்ற நிகழ்வு

A) இந்துலால் யாக்னிக்	கேதா சத்தியாகிரகம்
B) கல்பணா தத்	சிட்டாகாங் எழுச்சி
C) சுபாஷ் சந்திரபோஸ்	வெள்ளையனே வெளியேறு இயக்கம்
D) உஷா மேத்தா	வானொலி காங்கிரஸ்

35. Arrange the following order of Precedence according to the constitution:

1. President 2. Prime Minister 3. Vice-President 4. Speaker of Lok Sabha

A) 1 2 3 4

B) 2 1 3 4

C) 1 3 2 4

D) 1 3 4 2

35. கீழ்க்கண்டவற்றை இந்திய அரசியலமைப்புச் சட்டத்தின் வரிசை முறைமையில் அடுக்கவும்

1. குடியரசுத் தலைவர் 2. பிரதமர் 3. துணை குடியரசுத்தலைவர் 4. மக்களவை சபாநாயர்

A) 1 2 3 4

B) 2 1 3 4

C) 1 3 2 4

D) 1 3 4 2

36. Which country won the ICC Women's World Cup 2022?

- A) England
B) Australia
C) South Africa
D) India

2022 ஐசிசி மகளிர் உலகக் கோப்பையை வென்ற நாடு எது?

- A) இங்கிலாந்து
B) ஆஸ்திரேலியா
C) தென்னாப்பிரிக்கா
D) இந்தியா

37. Pradhan Mantri Ujjwala Yojana is launched for providing

- A) Cooking gas to women
B) Energy efficiency
C) Renewable energy
D) Micro irrigation

37. பிரதமரின் உஜ்வாலா திட்டம் எதற்காக துவங்கப்பட்டது?

- A) பெண்களுக்கு சமையல் எரிவாயு
B) ஆற்றல் திறன்
C) புதுப்பிக்கத்தக்க ஆற்றல்
D) நுண் பாசனம்

38. As per the Asian Development Outlook (ADO) 2022, what is the estimated growth rate of India in 2023-24?

- A) 10.5%
B) 9%
C) 8%
D) 6.5%

ஆசிய வங்கி வளர்ச்சி அறிக்கை (ADO) 2022ன் படி,

2023-24ல் இந்தியாவின் மதிப்பிடப்பட்டுள்ள வளர்ச்சி விகிதம்?

- A) 10.5%
B) 9%
C) 8%
D) 6.5%

39. Consider the following statements.

1. In physics, the term collision does not necessarily mean that a particle actually strikes with other particle.

2. During a collision law of conservation of momentum and the law of conservation of energy are obeyed.

Which of the statements given above is/are correct?

- A) 1 only
B) 2 only
C) Both 1 and 2
D) Neither 1 nor 2

39. பின்வரும் கூற்றினை கருத்தில் கொள்க.

1. இயற்பியலில், மோதல் என்பது பொருள்கள் ஒன்றையொன்று உரச வேண்டும் என்ற அவசியம் இல்லை.

2. மோதலின் போது ஆற்றல் அழிவின்மை விதி மற்றும் உந்த அழிவின்மை விதி என்ற இரு அடிப்படை அழிவின்மை விதிகளுக்கும் உட்படும்.

மேற்கண்டவற்றுள் சரியானது எது/எவை?

- A) 1 மட்டும்
B) 2 மட்டும்
C) 1 மற்றும் 2
D) இரண்டுமில்லை

40. Find the compound interest on Rs. 31,250 at 8% p.a. for 3 years compounded annually?

- A) Rs. 8006
B) Rs.8106
C) Rs.8096
D) Rs.8116

40. ஆண்டுக்கு ஒரு முறை வட்டி காணும் முறையில் ரூ.31,250க்கு ஆண்டு வட்டி 8% வீதம் எனில் 3 ஆண்டுகளுக்குக் கூட்டு வட்டி காண்.

- A) ரூ.8006
B) ரூ.8106
C) ரூ.8096
D) ரூ.8116

41. Match the following (India as on 2019)

(i) 140th place	- 1) Corruption Perception Index
(ii) 122nd Place	- 2) Happiness Index
iii)129th place	- 3) Gender Inequality Index
iv) 80th place	- 4) Human Development Index

A) 2341

B) 3241

C) 3214

D) 4321

41. பொருத்துக (2019-ன் படி இந்தியா தர நிலை)

(i) 140 வது இடம்	- 1) ஊழல் கருத்துக் குறியீடு
(ii) 122 வது இடம்	- 2) மகிழ்ச்சி குறியீடு
(iii) 129 வது இடம்	- 3) பாலின சமத்துவமின்மைக் குறியீடு
(iv) 80 வது இடம்	- 4) மனிதவள மேம்பாட்டுக் குறியீடு

A) 2341

B) 3241

C) 3214

D) 4321

42. Who was the king of vijaya Nagar at the time of the Battle of Talikota in 1565?

A) Krishna deva Raya B) Thirumalai Nayak C) Ramaraya D) Harihara I

42. 1565-இல் தலைக்கோட்டைப் போரின் பொழுது விஜயநகர அரசராக இருந்தவர் யார்?

A) கிருஷ்ண தேவராயர் B) திருமலை நாயக்கர் C) இராமராயர் D) முதலாம் ஹரிகரன்

43. Notice the following sentences

1. 'Korkai, Vanji, Thondi premises' Came to the attention of research world by R.Balakrishnan

2. R. Balakrishnan has been involved in place name research for 28 years.

Which of the above is incorrect?

A) 1 only

B) 2 only

C) Both

D) None of this

43. பின்வரும் வாக்கியங்களை கவனிக்க

1. 'கொற்கை, வஞ்சி, தொண்டி வளாகத்தை' ஆய்வுலகின் கவனத்திற்குக் கொண்டு வந்தவர் ஆர். பாலகிருஷ்ணன்.

2. ஆர். பாலகிருஷ்ணன் 28 ஆண்டுகளாக இடப்பெயராய்வில் ஈடுபட்டு வருகிறார்.

மேற்கூறியவற்றில் தவறானவை எது?

A) 1 மட்டும்

B) 2 மட்டும்

C) இரண்டும்

D) இரண்டுமில்லை

44. Match the following List 1 with List 2.

A) The title "Vaikam Hero" given to Periyar by

1. C.N.Annadurai

B) The title “The Morning star of Reformation” given to Bharthiar by	2. Thiru.V.Kalyanasundaram
C) A person laid his life to change the name of the State as Tamil Nadu	3. Sangaralingam
D) A person led the movement for Kaniyakumari district merge with TamilNadu	4. Kumari Ananthan
	5. Marshal Nesamony

A) 2 1 3 5

B) 1 2 3 5

C) 2 1 3 4

D) 4 2 1 5

44. பட்டியல் 1ஐ பட்டியல் 2உடன் பொருத்துக

A) பெரியாரை “வைக்கம் வீரர்” என அழைத்தவர்	1. சி.என். அண்ணாதுரை
B) பாரதியாரை “மறுமலர்ச்சியின் விடிவெள்ளி” என அழைத்தவர்	2. திரு.வி.கல்யாண சுந்தரம்
C) “தமிழ்நாடு” பெயர் மாற்றம் கோரி போராடி உயிர் துறந்தவர்	3. சங்கரலிங்கனார்
D) கன்னியாகுமரி மாவட்டம் தமிழகத்துடன் இணைக்கப்படுவதற்கு போராடியவர்	4. குமரி அனந்தன்
	5. மார்ஷல் நேசமணி

A) 2 1 3 5

B) 1 2 3 5

C) 2 1 3 4

D) 4 2 1 5

45. Which among the following Amendment act omitted the provision that disqualification on grounds of defection is not applicable in case of split?

A) 52nd Amendment Act 1985

B) 91st Amendment Act 2003

C) 92nd Amendment Act 2003

D) A and C only

45. ஒரு கட்சியில் பிளவு ஏற்படுவதால் வேறு கட்சிக்கு மாறுவது கட்சித்தாவல் தடைச்சட்டத்தின் கீழ் அடங்காது என்பதை மாற்றியமைத்த அரசியலமைப்புச் சட்டத்திருத்தம் எது?

A) 52ஆவது அரசியலமைப்புச் சட்டத்திருத்தம், 1985

B) 91ஆவது அரசியலமைப்புச் சட்டத்திருத்தம், 2003

C) 92 ஆவது அரசியலமைப்புச் சட்டத்திருத்தம், 2003

D) A மற்றும் C மட்டும்

46. Which country is the host of 5th BIMSTEC Summit in 2022?

A) India

B) Sri Lanka

C) Myanmar

D) Bhutan

2022 இல் 5வது BIMSTEC உச்சி மாநாட்டை நடத்திய நாடு எது?

A) இந்தியா

B) இலங்கை

C) மியான்மர்

D) பூட்டான்

47. Which of the following committee has recommended the establishment of National Co-operative bank of India?

- A) Narashiman Committee** **B) A.M.Khusro Committee**
C) Indian Co-operative Committee **D) Rangarajan Committee**

47. கீழ்க்கண்டவற்றுள் இந்தியாவின் தேசிய கூட்டுறவு வங்கியினை அமைப்பதற்கு பரிந்துரை செய்த குழு எது?

- A)நரசிம்மன் குழு** **B)எ.எம்.கூஸ்ரோ குழு** **C)இந்திய கூட்டுறவுக் குழு** **D) ரங்கராஜன் குழு**

48. Consider the following statements.

Assertion (A): Plates are composed of the Continental (or) Oceanic Landmass.

Reason (R): Plate boundaries are the zones where two (or) more plates move about.

A) A and R are true and R is the correct explanation of A

B) A and R are true but R is the not correct explanation of A

C) A is true but R is false

D) A is false but R is true

48. பின்வரும் வாக்கியங்களை கருத்தில் கொள்க.

கூற்று அ: புவித் தட்டுகள் அல்லது பெருங்கடல் நிலப்பகுதிகளால் ஆனது.

காரணம் ஆ: இரண்டு அல்லது அதற்கு மேற்பட்ட புவித்தட்டுகள் நகரும் பகுதியை புவிதட்டு எல்லைகள் என்கிறோம்.

A) அ மற்றும் ஆ இரண்டும் சரி, மேலும் ஆ என்பது அ-விற்கு சரியான விளக்கம்

B) அ மற்றும் ஆ இரண்டும் சரி, ஆனால் ஆ என்பது அ-விற்கு சரியான விளக்கமல்ல

C) அ சரி ஆனால் ஆ தவறு

D) அ தவறு ஆனால் ஆ சரி

49. Consider the following statements.

Assertion (A): The conductivity of Electrolyte is more than the conductivity of metal.

Reason (R): Electron flows in the opposite direction of current flow.

A) A and R are true and R is the correct explanation of A

B) A and R are true but R is the not correct explanation of A

C) A is true but R is false

D) A is false but R is true

49. பின்வரும் கூற்றுகளை கவனிக்கவும்

கூற்று அ: மின் பகுளி உலோகத்தை விட அதிக கடத்தும் திறன் கொண்டது.

காரணம் ஆ: எலக்ட்ரான் மின்னோட்டம் செல்லும் பாதைக்கு எதிர் திசையில் செல்கிறது.

A) அ மற்றும் ஆ இரண்டும் சரி, மேலும் ஆ என்பது அ-விற்கு சரியான விளக்கம்

B) அ மற்றும் ஆ இரண்டும் சரி, ஆனால் ஆ என்பது அ-விற்கு சரியான விளக்கமல்ல

C) அ சரி ஆனால் ஆ தவறு

D) அ தவறு ஆனால் ஆ சரி

50. Which one of the following year TN Government implemented e-Service Centers throughout the State?

- A) 2014 **B) 2015** C) 2016 D) 2018

50. அரசு சேவை e-மையங்கள் மாநிலம் முழுவதும் நடைமுறைப்படுத்தப்பட்ட ஆண்டு

- A) 2014 **B) 2015** C) 2016 D) 2018

51. ----- Patronized Amir Khusrau, who is called as the parrot of India.

- A) Akbar B) Qutb-Ud-din Aibak **C) Balban** D) Muhammed-bin-Tughlaq

51. 'இந்தியக் கிளி' என்று பாராட்டப்பட்ட அமீர் குஸ்ருவை ஆதரித்தவர் யார்?

- A) அக்பர் B) குத்புதின் ஐபக் **C) பால்பன்** D) முகமது பின் துக்ளக்

52. Match the following

A) Dvajasthambam	1. Beauty
B) Address	2. Flag tree
C) Pollution	3. Wall
D) Ginger	4. Snake
	5. The cloud

- A) 2 1 5 3 B) 3 2 4 1 **C) 2 1 4 3** D) 3 2 5 1

52. பொருத்துக

A) த்வஜஸ்தம்பம்	1. அழகு
B) விலாசம்	2. கொடி மரம்
C) மாசுநம்	3. மதில்
D) இஞ்சி	4. பாம்பு
	5. மேகம்

- A) 2 1 5 3 B) 3 2 4 1 **C) 2 1 4 3** D) 3 2 5 1

53. After which of the following war held in 1759, the Dutch Power came to an end in India?

- A) Battle of Mallavelly B) Battle of Santhome
C) Battle of Chinsurah D) Battle of Wandiwash

53. இந்தியாவில் டச்சுக்காரர்களின் ஆதிக்கமானது முடிவடைய காரணமான 1759-இல் நடந்த போர் எது?

- A) மாளவள்ளிப் போர் B) சாந்தோம் போர் **C) சின்கராப் போர்** D) வந்தவாசிப் போர்

54. How many High Courts have Jurisdiction of more than one State or Union Territories?

- A) 6 **B) 7** C) 5 D) 8

54. இந்தியாவில் எத்தனை உயர் நீதிமன்றங்கள் ஒன்றிற்கும் மேற்பட்ட மாநிலங்கள் அல்லது யூனியன் பிரதேசங்கள் மீது அதிகார வரம்பினைக் கொண்டுள்ளன?

- A) 6 **B) 7** C) 5 D) 8

55. Value of $\sqrt{3, \sqrt{3, \sqrt{3, \sqrt{3} \dots \dots}}$

- A) 3 B) infinity C) 0 D) $\sqrt{3}$

55. $\sqrt{3, \sqrt{3, \sqrt{3, \sqrt{3} \dots \dots}}$

- A) 3 B) முடிவிலி C) 0 D) $\sqrt{3}$

56. The 3rd Global Ministerial conference on Road safety with the theme 'Achieving Global Goals 2030' held at?

- A) Stockholm, Sweden B) Oslo, Norway
C) Berlin, Germany D) Hague, Netherlands

Explanation:

The 3rd Global Ministerial conference on Road Safety with theme "Achieving Global Goals 2030" was held in Stockholm, Sweden on 19-20 February 2020. It was hosted by Government of Sweden in collaboration with World Health Organization (WHO)

56. 'உலகளாவிய இலக்குகளை அடைதல் 2030' என்ற கருப்பொருளுடன் சாலைப் பாதுகாப்பு குறித்த 3 வது உலகளாவிய அமைச்சு மாநாடு நடைபெற்ற இடம்?

- A) ஸ்டாக்ஹோம், சுவீடன் B) ஒஸ்லோ, நோர்வே
C) பெர்லின், ஜெர்மனி D) ஹேக், நெதர்லாந்து

விளக்கம்:

"உலகளாவிய இலக்குகளை அடைதல் 2030" என்ற கருப்பொருளுடன் 3 வது உலகளாவிய மந்திரி மாநாடு 2020 பிப்ரவரி 19-20 அன்று ஸ்வீடனின் ஸ்டாக்ஹோமில் நடைபெற்றது. இதை உலக சுகாதார அமைப்பு (WHO) உடன் இணைந்து ஸ்வீடன் அரசு நடத்தியது.

57. For which purpose, the Finance Commission was appointed?

- A) To make recommendation for devolution of non-plan revenue resources
B) To earn foreign exchange
C) To recommend measures for profit making public sector enterprises
D) To impose taxes

57. நிதிக்குழு எதற்காக அமைக்கப்பட்டது?

- A) திட்டமிடப்படாத வருவாய் வளங்களைப் பகிர்வது குறித்து பரிந்துரைகளை அளிப்பதற்காக
B) அந்நிய செலாவணிகளை பெறுவதற்காக
C) இலாபத்தில் இயங்கும் பொதுத்துறை நிறுவனங்கள் குறித்து பரிந்துரைகள் அளிப்பதற்காக
D) வரிகளை ஏற்படுத்துவதற்காக

58. Which Asian country has declared a nationwide public emergency amidst protests over economic crisis?

- A) Myanmar B) Afghanistan C) Sri Lanka D) Pakistan

எந்த ஆசிய நாடு பொருளாதார நெருக்கடிக்கான எதிர்ப்புகளுக்கு மத்தியில் நாடு தழுவிய பொது அவசரநிலை என்று அறிவித்துள்ளது?

- A) மியான்மர் B) ஆப்கானிஸ்தான்
C) இலங்கை D) பாகிஸ்தான்

59. Find out the incorrect pair.

A) Oxidation	Rusting of Iron
B) Carbonation	Formation of Caves
C) Hydration	Formation of Gypsum
D) Solution	Feldspar changing into clay

59. தவறான இணையைத் தேர்ந்தெடு?

A) ஆக்ஸிஜனேற்றம்	இரும்பு துருப்பிடித்தல்
B) கார்பனேற்றம்	குகைகள் உருவாதல்
C) நீரேற்றம்	ஜிப்சம் உருவாதல்
D) கரைசல்	பெல்ஸ்பார் களிமண்ணாக மாறுதல்

60. Which of the following is a web site showing the e-transaction statistics of the Central and State level projects?

- A) e-Taal scheme B) Tiny URL scheme
C) e-letter scheme D) State e-Service Website

60. மத்திய மற்றும் மாநில அளவிலான திட்டங்களில் மேற்கொண்ட மின் பரிவர்த்தனை புள்ளி விவரங்களை காட்டும் இணையத்தரவு தளம் எது?

- A) e-Taal திட்டம் B) உள்ளங்கை சான்றிதழ் திட்டம்
C) e-மடல் திட்டம் D) மாநில சேவை இணையதளம்

61. Who was the ruler of the Somnath region at the time of Mahmud of Ghazni's invasion on Somnath Temple in 1025 A.D.?

- A) Jaipala B) Prithviraj Chauhan C) Raja Bhima Dev D) Ananda pala

61. கி.பி.1025 இல் முகமது கஜினி சோமநாதபுரம் கோயில் மீது படை எடுத்த பொழுது அப்பகுதியை ஆட்சி புரிந்த மன்னர் யார்?

- A) ஜெய்பாலர் B) பிருத்விராஜ் செளகான் C) இராஜா பீம்தேவ் D) ஆனந்த பாலர்

62. Which one of the following book referred as the place of education as "School"?

- A) Thivakara Nikandu B) Periya Thirumozhi C) Sivakasintamani D) A and B

62. கல்வி கற்பிக்கப்படும் இடங்களைப் 'பள்ளி' என்று குறிப்பிடப்பட்டுள்ள நூல் எது?

- A) திவாகர நிகண்டு B) பெரிய திருமொழி C) சீவகசிந்தாமணி D) A மற்றும் B

63. Who among the following led the peasant movement called "Eka Movement" in 1921?

A) Sardar Vallabhbhai Patel

B) Madari Pasi

C) Rajendra Prasad

D) M.N.Roy

63. 1921-ல் விவசாயிகளின் போராட்டத்தால் உருவான "எகா இயக்கத்திற்கு" தலைமை ஏற்றவர் யார்?

A) சர்தார் வல்லபாய் பட்டேல் B) மதாரி பசி C) இராசேந்திர பிரசாத் D) எம்.என்.ராய்

64. Who among the following takes Oath and Affirmations to Preserve, Protect and Defend the Constitution?

1. President 2. Vice-President 3. Governor 4. Prime Minister

A) 1 and 2 only B) 1,2 and 3 only C) 1 and 3 only D) 1,3 and 4 only

64. கீழ்க்கண்டவற்றுள் அரசியலமைப்புச் சட்டத்தினை பாதுகாப்பதாக சத்தியம் செய்து உறுதியளிப்பது யார்?

1. குடியரசுத்தலைவர் 2. துணை குடியரசுத்தலைவர் 3. ஆளுநர் 4. பிரதமர்

A) 1 மற்றும் 2மட்டும் B) 1,2மற்றும் 3மட்டும் C) 1மற்றும் 3மட்டும் D) 1,3மற்றும் 4 மட்டும்

65. Simplify:

$$\frac{\sqrt[3]{729}-\sqrt[3]{27}+\sqrt[3]{729}}{\sqrt[3]{512}+\sqrt[3]{343}-\sqrt[4]{256}}$$

A) $\frac{11}{10}$

B) $\frac{10}{11}$

C) $\frac{9}{10}$

D) $\frac{12}{11}$

65. சுருக்குக

$$\frac{\sqrt[3]{729}-\sqrt[3]{27}+\sqrt[3]{729}}{\sqrt[3]{512}+\sqrt[3]{343}-\sqrt[4]{256}}$$

A) $\frac{11}{10}$

B) $\frac{10}{11}$

C) $\frac{9}{10}$

D) $\frac{12}{11}$

66. Which country developed world's largest drone?

A) India

B) USA

C) China

D) Russia

66. உலகின் மிகப்பெரிய ஆளில்லா விமானத்தை உருவாக்கிய நாடு எது?

A) இந்தியா

B) அமெரிக்கா

C) சீனா

D) ரஷ்யா

67. When did the National Policy on Farmers was approved by the Government?

A) 2000

B) 2005

C) 2007

D) 2010

67. விவசாயிகளுக்கான தேசிய கொள்கை எப்போது அரசாங்கத்தால் அங்கீகரிக்கப்பட்டது?

A) 2000

B) 2005

C) 2007

D) 2010

68. Consider the following statements.

Assertion (A): El Nino is a phenomenon that occurs in the equatorial pacific ocean.

Reason (R): El Nino occurs after every two to seven years.

A) A and R are true and R is the correct explanation of A

B) A and R are true but R is the not correct explanation of A

C) A is true but R is false

D) A is false but R is true

68. பின்வரும் வாக்கியங்களை கருத்தில் கொள்க.

கூற்று அ: எல்நினோ நிகழ்வு, புவியிடைக் கோட்டுப் பசிபிக் பெருங்கடல் பகுதியில் நடைபெறுகின்றன.

காரணம் ஆ: எல்நினோ இரண்டு முதல் ஏழு வருடத்திற்கு ஒருமுறை ஏற்படுகிறது.

A) அ மற்றும் ஆ இரண்டும் சரி, மேலும் ஆ என்பது அ-விற்கு சரியான விளக்கம்

B) அ மற்றும் ஆ இரண்டும் சரி, ஆனால் ஆ என்பது அ-விற்கு சரியான விளக்கமல்ல

C) அ சரி ஆனால் ஆ தவறு

D) அ தவறு ஆனால் ஆ சரி

69. Consider the following statements.

1. Monocot root Xylem is tetrarch

2. Dicot root Xylem is polyarch

3. In monocot root secondary growth is generally present

4. In Dicot root there is not secondary growth

Which of the above statements is /are correct?

A) 1 and 2 only B) 2 and 3 only C) All of the above D) None of the above

69. பின்வரும் கூற்றுகளை கவனிக்கவும்.

1. ஒரு வித்திலைத் தாவர வேர்களில் நான்கு முனை சைலம் காணப்படுகிறது

2. இரு வித்திலைத் தாவர வேர்களில் பல முனை சைலம் காணப்படுகிறது

3. இரு வித்திலைத் தாவர வேர்களில் இரண்டாம் வளர்ச்சி பொதுவாகக் காணப்படுகிறது

4. இரு வித்திலைத் தாவர வேர்களில் இரண்டாம் நிலை வளர்ச்சி காணப்படுவதில்லை

மேற்கண்டவற்றுள் எந்தக் கூற்று சரியானது?

A) 1 மற்றும் 2 மட்டும்

B) 2 மற்றும் 3 மட்டும்

C) இவை அனைத்தும்

D) இவற்றில் எதுவுமில்லை

70. Identity the correct statement about Muhammad-bin-Tughlaq.

I. Junakhan was his birth name.

II. He transferred his capital from Delhi to Devagiri

III. He abolished Taquavi loans (Agricultural loans)

IV. Timur's Delhi invasion took place during his period.

A) I and II only B) I,II and III only C) I,II and IV only D) All of the above

70. முகமது பின் துக்ளக் தொடர்பான சரியான கூற்றுகளை கண்டறியவும்.

1. இவரின் இயற்பெயர் ஜுனாகான்

2. இவர் தனது தலைநகரை டெல்லியிலிருந்து தேவகிரிக்கு மாற்றினார்.

3. இவர் தக்காவி என்னும் விவசாய கடன்களை ரத்து செய்தார்

4. இவரின் ஆட்சியின் பொழுது தைமுரின் டெல்லி படையெடுப்பு நிகழ்ந்தது.

A) 1மற்றும் 2மட்டும் B) 1,2மற்றும் 3 மட்டும் C) 1,2 மற்றும் 4மட்டும் D) அனைத்தும்

71. Notice the following sentences

1. Both agapadal and purapadal has "Iraichi".

2. "Thoni" mentioned in Northern languages comes only in "Agapadal"

A) 1 only B) 2 only C) Both D) None of this

71. பின்வரும் வாக்கியங்களை கவனிக்க

1. இறைச்சி அகப்பாடலிலும் புறப்பாடலிலும் வரும்

2. வடமொழியினர் குறிப்பிடுகின்ற தொனி அகப்பாடலில் மட்டும் வரும்

மேற்கூறியவற்றில் தவறானவை எவை?

A) 1 மட்டும்

B) 2 மட்டும்

C) இரண்டும்

D) இரண்டுமில்லை

72. What was the objective of "The Desai - Liaquat Pact" of 1945?

- A) To support the creation of Pakistan** **B) To prevent the Communal Clashes**
C) To formation of the Interim Government **D) To accession of the Princely States**

72. 1945-ல் உருவான "தேசாய்-லியகாத்" உடன் படிக்கையின் முக்கிய நோக்கம் என்ன?

- A) பாகிஸ்தான் உருவாக்கத்திற்கு ஆதரவு** **B) வகுப்புவாத மோதல்களை தடுப்பது**
C) இடைக்கால அரசாங்கம் உருவாக்கம் **D) சமஸ்தானங்கள் இணைப்பு குறித்து**

73. Which among the following Article(s) provides special privileges to the residents of Jammu and Kashmir?

- A) Article 370** **B) Article 35A** **C) Article 35B** **D) Both A and B**

73. கீழ்க்கண்டவற்றுள் ஜம்மு மற்றும் காஷ்மீர் மாநில மக்களுக்கு சிறப்பு அங்கீகாரம் வழங்கும் அரசியலமைப்பு சட்டத்தின் பகுதி எது?

- A) சரத்து-370** **B) சரத்து-35A** **C) சரத்து-35B** **D) A மற்றும் B இரண்டும்**

74. If 6 men and 8 boys can do a piece of work in 10 days while 26 men and 48 boys can do the same work in 2 days, then what is the time taken by 15 men and 20 boys to complete the same type of work?

- A) 4 days** **B) 5 days** **C) 6 days** **D) 7 days**

74. 6 ஆண்கள், 8 சிறுவர்கள் இணைந்து ஒரு வேலையைச் செய்ய, 10 நாட்கள் தேவைப்படும், மற்றும் 26 ஆண்கள், 48 சிறுவர்கள் இணைந்து அதே வேலையை 2 நாட்களில் செய்வர் எனில், 15 ஆண்கள், 20 சிறுவர்கள் சேர்ந்து அதே வேலையைச் செய்ய எத்தனை நாட்கள் தேவைப்படும்?

- A) 4 நாட்கள்** **B) 5 நாட்கள்** **C) 6 நாட்கள்** **D) 7 நாட்கள்**

75. Which state government formed a panel to frame a 'State Education Policy'?

- a. Tamil Nadu** b. Kerala c. Odisha d. West Bengal

மாநிலக் கல்விக் கொள்கையை உருவாக்க எந்த மாநிலம் அரசு குழுவை அமைத்துள்ளது?

- A. தமிழ்நாடு** B. கேரளா C. ஒடிசா D. மேற்கு வங்கம்

76. Consider the following regarding the characteristics of Wealth:

- 1. It must possess utility** **2. It must be limited in supply**
3. Wealth should be transferable **4. It must have money value**

Which of the statements given above is/are correct?

- A) 1, 2 and 3 only** **B) 2, 3 and 4 only** **C) 1, 3 and 4 only** **D) All the above**

76. கீழே கொடுக்கப்பட்டுள்ள வாக்கியங்களில் செல்வத்தின் பண்புகளை தேர்ந்தெடுக்கவும்.

1. அவற்றால் பயன் இருக்க வேண்டும்
2. அவை அளவாக விநியோகிக்கப்பட வேண்டும்
3. செல்வம் மாற்றிக் கொள்ளும் தன்மை உடையதாக இருக்க வேண்டும்
4. அவற்றிற்கு பண மதிப்பு இருக்க வேண்டும்

- A) 1, 2 மற்றும் 3 மட்டும்** **B) 2, 3 மற்றும் 4 மட்டும்**
C) 1, 3 மற்றும் 4 மட்டும் **D) மேற்கண்ட அனைத்தும்**

77. Arrange the following atmospheric layers from top to bottom.

- A) Exosphere, Ionosphere, Mesosphere, Stratosphere
B) Ionosphere, Mesosphere, Exosphere, Stratosphere
C) Mesosphere, Exosphere, Stratosphere, Ionosphere
D) Stratosphere, Mesosphere, Ionosphere, Exosphere

77. பின்வரும் வளிமண்டல அடுக்குகளை மேலிருந்து கீழாக வரிசைப்படுத்துக?

- A) வெளியடுக்கு, அயனியடுக்கு, இடையடுக்கு, படையடுக்கு
B) அயனியடுக்கு, இடையடுக்கு, வெளியடுக்கு, படையடுக்கு
C) இடையடுக்கு, வெளியடுக்கு, படையடுக்கு, அயனியடுக்கு
D) படையடுக்கு, இடையடுக்கு, அயனியடுக்கு, வெளியடுக்கு

78. Which of the following is herbicide?

- A) 24 D and Butachlor B) BHC C) Sodium Chlorate D) Both A and C

78. கீழ்க்கண்டவற்றுள் எது களைக் கொல்லியாக பயன்படுத்தப்படுகிறது?

- A) 24 D மற்றும் பியூட்டாகுளோர் B) BHC C) சோடியம் குளோரைட் D) A மற்றும் C

79. In which Indian states megalithic stone jars were recently unearthed?

- a. Tamil Nadu b. Assam c. Uttar Pradesh d. West bengal

எந்த இந்திய மாநிலங்களில் மெகாலிதிக் கல் ஜாடிகள் சமீபத்தில் கண்டுபிடிக்கப்பட்டன?

- A. தமிழ்நாடு B. அஸ்ஸாம் C. உத்திரப் பிரதேசம் D. மேற்கு வங்காளம்

80. Notice the following sentences

1. "Kanakayar illadha oorum pinakarukum" this line present in "Thirigadugam"

2. The University of Madras was founded in 1857

Which of the above is correct?

- A) 1 only B) 2 only C) Both D) None of this

80. பின்வரும் வாக்கியங்களை கவனிக்க

1. "கணக்காயர் இல்லாத ஊரும் பிணக்கறுக்கும்" இவ்வரிகள் திரிகடுகத்தில் இடம் பெற்றுள்ளது.

2. சென்னைப் பல்கலைக்கழகம் 1857ல் தொடங்கப்பட்டது மேற்கூறியவற்றில் சரியானவை எவை?

- A) 1 மட்டும் B) 2 மட்டும் C) இரண்டும் D) இரண்டுமில்லை

81. Which of the following Act was called "The Gagging Act" during the British rule?

- A) The Censorship of Press Act of 1799 B) Rowlatt Act of 1919
C) Vernacular Press Act of 1878 D) Licensing regulating Act of 1823

81. பிரிட்டிஷ் ஆட்சியில் "வாய்ப்பூட்டுச் சட்டம்" என அழைக்கப்பட்ட சட்டம் எது?

- A) பத்திரிகை தணிக்கைச் சட்டம், 1799 B) ரௌலட் சட்டம், 1919
C) நாட்டு மொழி செய்திதாள் சட்டம், 1878 D) உரிமம் கட்டுப்பாட்டுச் சட்டம், 1823

82. Choose the incorrect pair:

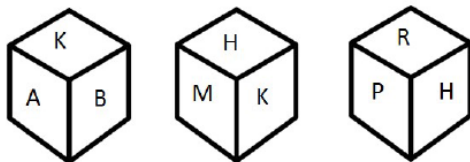
- A) National Commission for SCs and STs – 65th Amendment Act 1990
B) National Commission for STs – 89th Amendment Act 2003
C) National Commission for OBCs – 123rd Amendment Bill 2018
D) National Human Rights Commission – 124th Amendment Bill 2018

82. கீழ்க்கண்டவற்றுள் தவறாக பொருந்தியதை தேர்ந்தெடுக்கவும்?

- A) பட்டியலிடப்பட்ட சாதியினர் மற்றும் பழங்குடியினருக்கான தேசிய ஆணையம் - 65ஆவது அரசியலமைப்பு சட்டத்திருத்தம் 1990
B) பழங்குடியினருக்கான தேசிய ஆணையம் - 89ஆவது அரசியலமைப்பு சட்டத்திருத்தம் 2003
C) இதர பிற்படுத்தப்பட்ட வகுப்பினருக்கான தேசிய ஆணையம் - 123ஆவது அரசியலமைப்பு சட்டத்திருத்த மசோதா 2018
D) தேசிய மனித உரிமைகள் ஆணையம் - 124ஆவது அரசியலமைப்பு சட்டத்திருத்த மசோதா 2018

83. Three view of a cube are given below. What is the letter opposite to A?

- A) H B) P C) B D) M



83. ஒரு கன சதுரத்தின் மூன்று விதமான தோற்றங்கள் கீழே கொடுக்கப்பட்டுள்ளது எனில். A-யின் எதிர்ப்பக்கத்தில் உள்ள எழுத்து எது?

- A) H B) P C) B D) M

84. Bucha, which was seen in the news, is a city, is located in which country?

- A) Russia B) Ukraine C) Sri Lanka D) Afghanistan

சமீபத்திய செய்திகளில் வந்த புச்சா நகரம், அமைந்துள்ள நாடு?

- A) ரஷ்யா B) உக்ரைன் C) இலங்கை D) ஆப்கானிஸ்தான்

85. Consider the following statements regarding inflation

1. Core Inflation does not include food and energy sectors
2. Wholesale price Index does not include service sectors

Which of the statements given above is/are incorrect?

- A) 1 only B) 2 only C) Both 1 and 2 D) Neither 1 nor 2

85. பணவீக்கம் குறித்து கீழே கொடுக்கப்பட்டுள்ள வாக்கியங்களை கருத்தில் கொள்க.

1. முக்கிய பணவீக்கம் உணவு மற்றும் ஆற்றல் துறைகளை உள்ளடக்குவது இல்லை
2. மொத்த விலை குறியீட்டில் சேவை துறை கணக்கில் கொள்ளப்படுவதில்லை
மேற்கூறிய கூற்றுகளில் தவறானது எது/எவை?

- A) 1 மட்டும் B) 2 மட்டும் C) இரண்டும் D) இரண்டுமில்லை

86. Viktor Orban has been elected as the Prime Minister of which country?

- A) Ukraine B) Hungary C) Belarus D) Poland

எந்த நாட்டின் பிரதமராக விக்டர் ஓர்பன் தேர்ந்தெடுக்கப்பட்டுள்ளார் ?

- A) உக்ரைன் B) ஹங்கேரி C) பெலாரஸ் D) போலந்து

87. Which of the following is not Absolute Zero Temperature?

- A) 0K B) -273°C C) -460°F D) 0°C

87. கீழ்க்காண்பவற்றுள் எது தனிச்சுழி வெப்பநிலை அல்ல?

- A) 0K B) -273°C C) -460°F D) 0°C

88. Match the following List I with List II.

(Book)

(Author)

A) Harsha Charitha	1) Ashvaghosha
B) Si-Yu-Ki	2) Harsha
C) Priyadarshika	3) Hiuen Tsang
D) Buddha Charita	4) Bana

- A) 2 3 1 4 B) 2 3 4 1 C) 4 3 2 1 D) 2 1 4 3

88. பட்டியல் 1ஐ பட்டியல் 2 உடன் பொருத்துக
நூல்கள்

ஆசிரியர்

A) ஹர்ஷ சரிதம்	1. அசுவகோஷர்
B) சி-யு-கி	2. ஹர்ஷர்
C) பிரியதர்சிகா	3. யுவான் சுவாங்
D) புத்த சரிதம்	4. பாணர்

- A) 2 3 1 4 B) 2 3 4 1 C) 4 3 2 1 D) 2 1 4 3

89. The Original Jurisdiction of Supreme Court does not extend to which of the following?

- A) Dispute between centre and states
B) Dispute between centre and states on one side and one or more states on other sides.
C) Dispute between two or more states
D) Inter-State Water disputes

89. கீழ்க்கண்டவற்றுள் உச்சநீதிமன்றத்தின் முதற் சட்ட அதிகார வரம்பில் அடங்காதது எது?

- A) மத்திய அரசு மற்றும் மாநில அரசுக்கு இடையேயான சிக்கல்கள்
B) மத்திய அரசு மற்றும் மாநில அரசு ஒரு புறமும் ஒன்று அல்லது அதற்கு மேற்பட்ட மாநிலங்கள் இன்னொரு புறமும் பிரிந்து ஏற்படும் சிக்கல்கள்
C) இரண்டு அல்லது அதற்கு மேற்பட்ட மாநிலங்களுக்கு இடையேயான சிக்கல்கள்
D) மாநிலங்களுக்கு இடையேயான நீர் பகிர்வு சிக்கல்கள்

90. The diameter of a sphere is 6cm. It is melted and drawn into a wire of diameter 2mm. The length of the wire is.

- A) 12 m B) 18 m C) 36 m D) 66 m**

90. ஒரு கோளத்தின் விட்டம் 6 செ.மீ அதனை உருக்கி, 2 மி.மீ விட்டம் கொண்ட கம்பியாக மாற்றினால் அந்தக் கம்பியாக மாற்றினால் அந்தக் கம்பியின் நீளம் யாது?

- A) 12மீ B) 18மீ C) 36மீ D) 66மீ**

91. Name the 1st Indian state /UT which achieved 100% LPG coverage due to implementation of PMUY (Pradhan Mantri Ujjwala Yojana) scheme?

- A) New Delhi B) Goa C) Haryana D) Himachal Pradesh**

Explanation:

Himachal Pradesh became the 1st state in the country to have 100% LPG (Liquified Petroleum Gas) coverage due to the implementation of PMUY (Pradhan Mantri Ujjwala Yojana) scheme. In addition to PMUY scheme, the state government also launched 'Himachal Grihini Suvidha Yojana' in May 2018 to cover the scheme to remaining households.

91. **PMUY** (பிரதான் மந்திரி உஜ்வாலா யோஜனா) திட்டத்தை அமல்படுத்தியதன் காரணமாக 100% **LPG** அடைந்த முதல் இந்திய மாநிலம் / யூனியன் பிரதேசம் எது?

- A) புது தில்லி B) கோவா C) ஹரியானா D) இமாச்சல பிரதேசம்**

விளக்கம்:

PMUY (பிரதான் மந்திரி உஜ்வாலா யோஜனா) திட்டத்தை அமல்படுத்தியதால் 100% எல்பிஜி (திரவ பெட்ரோலிய எரிவாயு) பாதுகாப்பு பெற்ற நாட்டின் முதல் மாநிலமாக இமாச்சலப் பிரதேசம் ஆனது. **PMUY** திட்டத்திற்கு மேலதிகமாக, மீதமுள்ள வீடுகளுக்கு இந்த திட்டத்தை மறைப்பதற்காக மாநில அரசு 2018 மே மாதத்தில் 'இமாச்சல் கிரிஹினி சுவிதா யோஜனா' ஐ அறிமுகப்படுத்தியது.

92. When did the first livestock census started in India?

- A) 1881 B) 1892 C) 1909 D) 1919**

92. இந்தியாவில் கால்நடைகள் கணக்கெடுப்பு எப்பொழுது துவங்கப்பட்டது?

- A) 1881 B) 1892 C) 1909 D) 1919**

93. Corals reefs growing optimum Temperature is -----

- A) 20° - 40° B) 23° - 29° C) 27° - 32° D) 25° - 31°**

93. பவளப் பாறைகள் வளர்ப்பதற்கு உகந்த வெப்பநிலை

- A) 20° - 40° B) 23° - 29° C) 27° - 32° D) 25° - 31°**

94. Consider the following statements.

Assertion (A): The Chief Minister can dismiss a minister of state government.

Reason (R): The Chief Minister is the head of the state council of minister.

A) A and R are true and R is the correct explanation of A

B) A and R are true but R is the not correct explanation of A

C) A is true but R is false

D) A is false but R is true

94. பின்வரும் கூற்றுகளை கவனிக்கவும்

கூற்று அ: ஒரு மாநிலத்தின் முதலமைச்சர் அம்மாநிலத்தின் அமைச்சரை பதவி நீக்கம் செய்ய முடியும்

காரணம் ஆ: மாநில அமைச்சர்கள் குழுவிற்கு முதலமைச்சர் தலைமை வகிக்கிறார்

A) அ மற்றும் ஆ இரண்டும் சரி, மேலும் ஆ என்பது அ-விற்கு சரியான விளக்கம்

B) அ மற்றும் ஆ இரண்டும் சரி, ஆனால் ஆ என்பது அ-விற்கு சரியான விளக்கமல்ல

C) அ சரி ஆனால் ஆ தவறு

D) அ தவறு ஆனால் ஆ சரி

95. A shopkeeper marks his goods to gain 30%. But he allows 10% discount for down cash payment. His profit percent is.

A) 20%

B) 17%

C) 15%

D) 13%

95. ஒரு கடைக்காரர் 30 சதவிகித லாபம் அடையும் படி தனது பொருட்களுக்கு விலைநிர்ணயம் செய்கிறார். ஆனால் உடனடியாக பணம் செலுத்தினால் 10 சதவிகிதம் தள்ளுபடி கொடுக்கிறார் என்றால் அவருடைய லாப சதவிகிதம் எவ்வளவு?

A) 20%

B) 17%

C) 15%

D) 13%

96. What is the state fruit of kerala?

A) Mango

B) Jack fruit

C) Pine apple

D) Banana

96. கேரளாவின் மாநில பழம் எது?

A) மாம்பழம்

B) பலாப்பழம்

C) அன்னாசிப்பழம்

D) வாழைப்பழம்

97. Union Minister of State (MoS) for shipping Mansukh Mandaviya has inaugurated India's 1st floating jetty at which Indian State?

A) Gujarat

B) Maharashtra

C) Goa

D) Karnataka

Explanation:

Union Minister of State for shipping Mansukh Mandaviya, inaugurated the India's first floating jetty on the banks of Mandovi river, Goa and also an immigration facility office at a cruise terminal in Vasco, Goa.

97. கப்பல் போக்குவரத்துக்கான மத்திய வெளியுறவு மந்திரி மன்சுக் மாண்டவியா இந்தியாவின் முதல் மிதக்கும் கப்பல் துறையை எந்த இந்திய மாநிலத்தில் திறந்து வைத்தார்?

A) குஜராத்

B) மகாராஷ்டிரா

C) கோவா

D) கர்நாடகா

விளக்கம்:

இந்தியாவின் முதல் மிதக்கும் ஜட்டியை கோவாவின் மண்டோவி ஆற்றின் கரையில் திறந்து வைத்தார் மேலும் கோவாவின் வாஸ்கோவில் உள்ள ஒரு பயண முனையத்தில் குடியேற்ற வசதி அலுவலகத்தையும் மத்திய கப்பல் போக்குவரத்து அமைச்சர் மன்சுக் மாண்டவியா திறந்து வைத்தார்.

98. Which one of the following is not a planetary winds?

A) Cyclones B) Trade winds C) Westerlies D) Polar Easterlies

98. பின்வருவனவற்றுள் எவை கோள் காற்று இல்லை?

A) சூறாவளி B) வணிக காற்று C) வெஸ்டர்லீஸ் D) துருவ ஈஸ்டர்லீஸ்

99. Who was the Prime Minister of England at the time of the Second Round Table Conference?

A) Atlee B) Winston Churchill C) Ramsay Mac Donald D) Lord Irwin

99. இரண்டாம் வட்ட மேசை மாநாடு நடந்த பொழுது இங்கிலாந்தின் பிரதமராக இருந்தவர் யார்?

A) அட்லி B) வின்ஸ்டன் சர்ச்சில் C) ராம்சே மெக் டோனால்டு D) இர்வின் பிரபு

100. If a:b = 6:7 and b:c = 8:9 then a:c is equal to?

A) 16:21 B) 6:9 C) 27:28 D) 1:2

100. a:b = 6:7 மற்றும் b:c = 8:9 என்றால் a:c க்கு சமம் எது?

A) 16:21 B) 6:9 C) 27:28 D) 1:2